

Question Paper Preview

Notations :

- Options shown in green color and with ✓ icon are correct.
- Options shown in red color and with ✗ icon are incorrect.

Question Paper Name:	ASSISTANT TEACHER PRIMARY 6th Oct 2018 Shift 1
Subject Name:	ASSISTANT TEACHER PRIMARY
Creation Date:	2018-10-06 12:53:58
Duration:	120
Total Marks:	200
Display Marks:	Yes
Share Answer Key With Delivery Engine:	Yes
Actual Answer Key:	Yes
Calculator:	None
Magnifying Glass Required?:	No
Ruler Required?:	No
Eraser Required?:	No
Scratch Pad Required?:	No
Rough Sketch/Notepad Required?:	No
Protractor Required?:	No
Show Watermark on Console?:	No
Highlighter:	No
Auto Save on Console?:	No

Mental Ability

Group Number :	1
Group Id :	167943664
Group Maximum Duration :	0
Group Minimum Duration :	0
Revisit allowed for view? :	No
Revisit allowed for edit? :	No
Break time:	0
Group Marks:	20
Revisit allowed for group Instructions? :	Yes
Maximum Instruction Time:	0
Minimum Instruction Time:	0

Mental Ability

Section Id :	167943729
Section Number :	1
Section type :	Online
Mandatory or Optional:	Mandatory
Number of Questions:	20
Number of Questions to be attempted:	20
Section Marks:	20

Display Number Panel:

Yes

Group All Questions:

No

Sub-Section Number:

1

Sub-Section Id:

1679431140

Question Shuffling Allowed :

Yes

Question Number : 1 Question Id : 16794317964 Question Type : MCQ Option Shuffling : Yes Display Question Number : Yes
Single Line Question Option : No Option Orientation : Vertical

Correct Marks : 1 Wrong Marks : 0.25

Find the odd one out of the below options:

Options :

1. ✖ Shirt

2. ✖ Skirt

3. ✔ Sand

4. ✖ Blouse

Question Number : 1 Question Id : 16794317964 Question Type : MCQ Option Shuffling : Yes Display Question Number : Yes
Single Line Question Option : No Option Orientation : Vertical

Correct Marks : 1 Wrong Marks : 0.25

निम्नलिखित विकल्पों में से एक विषम विकल्प का पता लगाएं:

Options :

1. ✖ शर्ट

2. ✖ स्कर्ट

3. ✔ सैंड

4. ✖ ब्लाउज

Question Number : 2 Question Id : 16794317965 Question Type : MCQ Option Shuffling : Yes Display Question Number : Yes
Single Line Question Option : No Option Orientation : Vertical

Correct Marks : 1 Wrong Marks : 0.25

Select the pair from the options below that shares the same relation as the relation present between the word pair below:

Paper : Pulp :: _____ : _____

Options :

1. ✔ Rubber : : Latex

2. ✖ Book : Reader

3. ✖ Oil : Lamp

4. ✖ Grapes : Wood

Question Number : 2 Question Id : 16794317965 Question Type : MCQ Option Shuffling : Yes Display Question Number : Yes
Single Line Question Option : No Option Orientation : Vertical

Correct Marks : 1 Wrong Marks : 0.25

नीचे विकल्पों से उस विकल्प का चयन करें जो वही संबंध रखता करता है जो निम्नलिखित शब्द के जोड़े के बीच मौजूद है:

कागज : लुगदी :: _____ : _____

Options :

1. ✔ रबर : लेटेक्स

2. ✖ किताब : पाठक

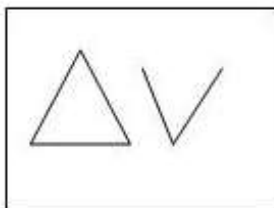
3. ✖ तेल : लैंप

4. ✖ अंगूर : लकड़ी

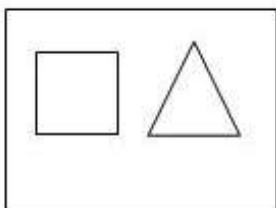
Question Number : 3 Question Id : 16794317966 Question Type : MCQ Option Shuffling : Yes Display Question Number : Yes
Single Line Question Option : No Option Orientation : Vertical

Correct Marks : 1 Wrong Marks : 0.25

Which of the four alternative figures has the same properties as the figure given below?

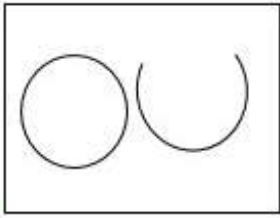


Options :

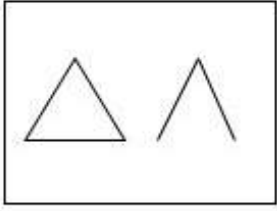


1. ✖

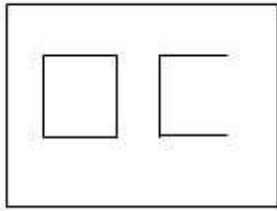
2. ✓



3. ✗



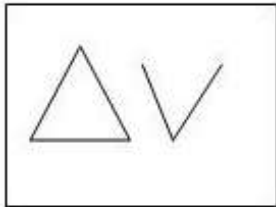
4. ✗



Question Number : 3 Question Id : 16794317966 Question Type : MCQ Option Shuffling : Yes Display Question Number : Yes
Single Line Question Option : No Option Orientation : Vertical

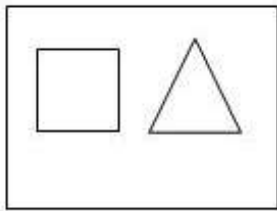
Correct Marks : 1 Wrong Marks : 0.25

चार वैकल्पिक आकृतियों में से किसमें नीचे दी गयी आकृति के समान गुण है?




Options :

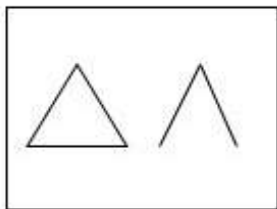
1. ✗



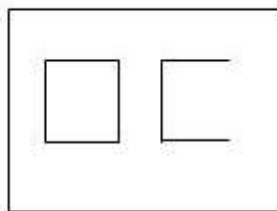
2. ✓



3. ✖



4. ✖



Question Number : 4 Question Id : 16794317967 Question Type : MCQ Option Shuffling : Yes Display Question Number : Yes
Single Line Question Option : No Option Orientation : Vertical

Correct Marks : 1 Wrong Marks : 0.25

Which letter will be the tenth to the right of the 18th letter from the right end of the English alphabets?

Options :

1. ✖

P

2. ✖

L

3. ✖

R

4. ✔

S

Question Number : 4 Question Id : 16794317967 Question Type : MCQ Option Shuffling : Yes Display Question Number : Yes
Single Line Question Option : No Option Orientation : Vertical

Correct Marks : 1 Wrong Marks : 0.25

अंग्रेजी वर्णमाला के दाएं सिरे से 18वें अक्षर के दाएं से दसवां अक्षर कौन सा होगा?

Options :

1. ✖

P

2. ✖

L

3. ✖

R

4. ✔

S

Question Number : 5 Question Id : 16794317968 Question Type : MCQ Option Shuffling : Yes Display Question Number : Yes
Single Line Question Option : No Option Orientation : Vertical

Correct Marks : 1 Wrong Marks : 0.25

Introducing a lady, Varun said, "The son of her only brother is the brother of my wife". How is the lady related to Varun?

Options :

1. ✖ His mother's sister
2. ✔ The sister of Varun's father-in-law
3. ✖ Mother-in-law
4. ✖ Mother

Question Number : 5 Question Id : 16794317968 Question Type : MCQ Option Shuffling : Yes Display Question Number : Yes
Single Line Question Option : No Option Orientation : Vertical

Correct Marks : 1 Wrong Marks : 0.25

एक महिला का परिचय कराते हुए, वरुण ने कहा, "उसके अकेले भाई का बेटा मेरी पत्नी का भाई है"। महिला का वरुण से कैसा संबंध है?

Options :

1. ✖ उसकी माँ की बहन
2. ✔ वरुण के ससुर की बहन
3. ✖ सास
4. ✖ माँ

Question Number : 6 Question Id : 16794317969 Question Type : MCQ Option Shuffling : Yes Display Question Number : Yes
Single Line Question Option : No Option Orientation : Vertical

Correct Marks : 1 Wrong Marks : 0.25

In a certain code language, '723' means 'beautiful small toy', '745' means 'big costly toy' and '631' means 'smart small boy'. Which digit in that language means 'beautiful'?

Options :

1. ✔ 2
2. ✖ 3
3. ✖ 5
4. ✖ 7

Question Number : 6 Question Id : 16794317969 Question Type : MCQ Option Shuffling : Yes Display Question Number : Yes
Single Line Question Option : No Option Orientation : Vertical

Correct Marks : 1 Wrong Marks : 0.25

एक निश्चित कोड की भाषा में, '723' का अर्थ 'खूबसूरत छोटा खिलौना' है, '745' का अर्थ 'बड़ा महंगा खिलौना' है तथा '631' का अर्थ 'स्मार्ट छोटा लड़का' है। उस भाषा में किस अंक का अर्थ 'खूबसूरत' है?

Options :

1. ✓ 2

2. ✗ 3

3. ✗ 5

4. ✗ 7

Question Number : 7 Question Id : 16794317970 Question Type : MCQ Option Shuffling : Yes Display Question Number : Yes
Single Line Question Option : No Option Orientation : Vertical

Correct Marks : 1 Wrong Marks : 0.25

You are given a statement and three conclusions. Choose the comment about conclusions from the options below:

Statement:

Politicians arrived at the public function in their cars.

Conclusions:

I. All politicians are rich.

II. Politicians have cars.

III. Politicians came to the public function.

Options :

1. ✗ Only conclusion I follows

2. ✗ Only conclusion II follows

3. ✗ Either conclusion I or II follows

4. ✓ Both conclusions II and III follow

Question Number : 7 Question Id : 16794317970 Question Type : MCQ Option Shuffling : Yes Display Question Number : Yes
Single Line Question Option : No Option Orientation : Vertical

Correct Marks : 1 Wrong Marks : 0.25

आपको एक कथन तथा तीन निष्कर्ष दिए गए हैं। नीचे दिए गए विकल्पों से निष्कर्षों के बारे में टिप्पणी चुनें:

कथन:

राजनेता अपनी कारों से सार्वजनिक समारोह में पहुँचते हैं।

निष्कर्ष:

I. सभी राजनेता धनी हैं।

II. राजनेताओं के पास कार हैं।

III. राजनेता सार्वजनिक समारोह में आए थे।

Options :

1. ✗ केवल निष्कर्ष I पालन होता है।

2. ✖ केवल निष्कर्ष II पालन होता है।
3. ✖ या तो निष्कर्ष I या II पालन होता है।
4. ✔ दोनों निष्कर्ष II और III पालन होते हैं।

Question Number : 8 Question Id : 16794317971 Question Type : MCQ Option Shuffling : Yes Display Question Number : Yes
Single Line Question Option : No Option Orientation : Vertical

Correct Marks : 1 Wrong Marks : 0.25

In a certain code language, SCHOOL is written as TEKSTR. How will SUMMER be written in that code language?

Options :

1. ✖ TWPQJV
2. ✖ TWPQIX
3. ✔ TWPQJX
4. ✖ TWPOJX

Question Number : 8 Question Id : 16794317971 Question Type : MCQ Option Shuffling : Yes Display Question Number : Yes
Single Line Question Option : No Option Orientation : Vertical

Correct Marks : 1 Wrong Marks : 0.25

एक निश्चित कोड भाषा में, SCHOOL को TEKSTR के रूप में लिखा जाता है। उस कोड भाषा में SUMMER को कैसे लिखा जाएगा?

Options :

1. ✖ TWPQJV
2. ✖ TWPQIX
3. ✔ TWPQJX
4. ✖ TWPOJX

Question Number : 9 Question Id : 16794317972 Question Type : MCQ Option Shuffling : Yes Display Question Number : Yes
Single Line Question Option : No Option Orientation : Vertical

Correct Marks : 1 Wrong Marks : 0.25

Read the following information carefully and answer the question given below.

The sum of the incomes of Anitha and Punitha is more than that of Kavi and Mala taken together. The sum of the incomes of Anitha and Kavi is same as that of Punitha and Mala taken together. Moreover, Anitha earns half as much as the sum of the incomes of Punitha and Mala. Whose income is the highest?

Options :

1. ✖ Anitha
2. ✔ Punitha
3. ✖ Mala
4. ✖ Kavi

Question Number : 9 Question Id : 16794317972 Question Type : MCQ Option Shuffling : Yes Display Question Number : Yes
Single Line Question Option : No Option Orientation : Vertical

Correct Marks : 1 Wrong Marks : 0.25

निम्नलिखित जानकारी को सावधानीपूर्वक पढ़ें तथा नीचे दिए गए प्रश्न का उत्तर दें।

अनीथा और पुनीथा की आय का योग कावी और माला दोनों का आय से अधिक है। अनीथा और कावी की आय का योग पुनीथा और माला की कुल आय के बराबर है। इसके अलावा, अनीथा, पुनीथा और माला की आय के कुल योग का आधा कमाती है। किसकी आय सबसे अधिक है?

Options :

1. ✖ अनीथा
2. ✔ पुनीथा
3. ✖ माला
4. ✖ कावी

Question Number : 10 Question Id : 16794317973 Question Type : MCQ Option Shuffling : Yes Display Question Number : Yes
Single Line Question Option : No Option Orientation : Vertical

Correct Marks : 1 Wrong Marks : 0.25

Read the following information carefully and answer the question given below:

$M * N$ means 'M is the sister of N'

$M \% N$ means 'M is the father of N'

$M \# N$ means 'M is the mother of N'

Options :

1. ✔ $N * M \% R$
2. ✖ $N \% R * M$
3. ✖ $R * M \# N$
4. ✖ $N * M \% S \# R$

Question Number : 10 Question Id : 16794317973 Question Type : MCQ Option Shuffling : Yes Display Question Number : Yes
Single Line Question Option : No Option Orientation : Vertical

Correct Marks : 1 Wrong Marks : 0.25

निम्नलिखित जानकारी को सावधानीपूर्वक पढ़ें तथा नीचे दिए गए प्रश्न का उत्तर दें:

$M * N$ का अर्थ है 'M, N की बहन है'

$M \% N$ means 'M, N का पिता है'

$M \# N$ means 'M, N की माँ है'

Options :

1. ☒ $N * M \% R$

2. ☐ $N \% R * M$

3. ☐ $R * M \# N$

4. ☐ $N * M \% S \# R$

Question Number : 11 Question Id : 16794317974 Question Type : MCQ Option Shuffling : Yes Display Question Number : Yes
Single Line Question Option : No Option Orientation : Vertical

Correct Marks : 1 Wrong Marks : 0.25

Choose the alternative that closely resembles the water-image of the below set of letters and numbers.

A1D3b

Options :

1. ☐ $\forall 1D3p$

2. ☒ $\forall 1D3P$

3. ☐ $p1D3\forall$

4. ☐ $\forall 1D3p$

Question Number : 11 Question Id : 16794317974 Question Type : MCQ Option Shuffling : Yes Display Question Number : Yes
Single Line Question Option : No Option Orientation : Vertical

Correct Marks : 1 Wrong Marks : 0.25

उस विकल्प को चुनें जो नीचे दिए गए अक्षरों और संख्याओं के सेट की जल-छवि के घनिष्ठ रूप से सदृश हो।

A1D3b

Options :

1. ☐ $\forall 1D3p$

2. ✓ VID3P

3. ✗ p1Q3V

4. ✗ VID3p

Question Number : 12 Question Id : 16794317975 Question Type : MCQ Option Shuffling : Yes Display Question Number : Yes
Single Line Question Option : No Option Orientation : Vertical

Correct Marks : 1 Wrong Marks : 0.25

Five students are sitting in a row. Raju is not adjacent to Sudhakar or Anil. Ashwin is not adjacent to Sudhakar. Raju is adjacent to Murali. Murali is in the middle of the row. Considering all this information, we can conclude that Ashwin is sitting adjacent to:

Options :

1. ✗ Anil

2. ✓ Raju

3. ✗ Murali

4. ✗ Cannot be determined

Question Number : 12 Question Id : 16794317975 Question Type : MCQ Option Shuffling : Yes Display Question Number : Yes
Single Line Question Option : No Option Orientation : Vertical

Correct Marks : 1 Wrong Marks : 0.25

पाँच छात्र एक पंक्ति में बैठे हुए हैं। राजू सुधाकर या अनिल के बगल में नहीं है। अश्विन सुधाकर के बगल में नहीं है। राजू मुरली के बगल में है। मुरली पंक्ति के मध्य में है। इस सभी जानकारी पर विचार करके, हम निष्कर्ष निकाल सकते हैं कि अश्विन किसके बगल में बैठा है?

Options :

1. ✗ अनिल

2. ✓ राजू

3. ✗ मुरली

4. ✗ सुनिश्चित नहीं किया जा सकता है।

Question Number : 13 Question Id : 16794317976 Question Type : MCQ Option Shuffling : Yes Display Question Number : Yes
Single Line Question Option : No Option Orientation : Vertical

Correct Marks : 1 Wrong Marks : 0.25

Three friends, Vinitha, Mira and Neethu, had lunch at a hotel. When the bill was received, Vinitha paid $\frac{2}{3}$ as much as Mira paid and Mira paid $\frac{1}{2}$ as much as Neethu paid. What fraction of the bill did Mira pay?

Options :

1. ☒ $\frac{3}{11}$

2. ☐ $\frac{2}{13}$

3. ☐ $\frac{5}{7}$

4. ☐ $\frac{9}{11}$

Question Number : 13 Question Id : 16794317976 Question Type : MCQ Option Shuffling : Yes Display Question Number : Yes
Single Line Question Option : No Option Orientation : Vertical

Correct Marks : 1 Wrong Marks : 0.25

तीन सहेलियों, विनीथा, मीरा और नीथू ने एक होटल में लंच किया। जब बिल प्राप्त हुआ, तो जितना मीरा ने भुगतान किया उसका $\frac{2}{3}$ विनीता ने भुगतान किया तथा मीरा ने नीथू द्वारा किए गए भुगतान का $\frac{1}{2}$ भुगतान किया। मीरा ने बिल के किस अंश का भुगतान किया?

Options :

1. ☒ $\frac{3}{11}$

2. ☐ $\frac{2}{13}$

3. ☐ $\frac{5}{7}$

4. ☐ $\frac{9}{11}$

Question Number : 14 Question Id : 16794317977 Question Type : MCQ Option Shuffling : Yes Display Question Number : Yes
Single Line Question Option : No Option Orientation : Vertical

Correct Marks : 1 Wrong Marks : 0.25

The sum of two numbers is 14 and the difference of their squares is 112. Find those numbers.

Options :

1. ☐ 9 and 5

2. ☐ 10 and 4

3. ✖ 2 and 12

4. ✔ 3 and 11

Question Number : 14 Question Id : 16794317977 Question Type : MCQ Option Shuffling : Yes Display Question Number : Yes
Single Line Question Option : No Option Orientation : Vertical

Correct Marks : 1 Wrong Marks : 0.25

दो संख्याओं का योग 14 तथा उनके वर्ग का अंतर 112 है। वे संख्याएं क्या हैं?

Options :

1. ✖ 9 और 5

2. ✖ 10 और 4

3. ✖ 2 और 12

4. ✔ 3 और 11

Question Number : 15 Question Id : 16794317978 Question Type : MCQ Option Shuffling : Yes Display Question Number : Yes
Single Line Question Option : No Option Orientation : Vertical

Correct Marks : 1 Wrong Marks : 0.25

You are given a question and two statements I and II. You have to decide whether the data provided in the statements is sufficient to answer the question.

Arun ranks 10th in his class. How many students are there in his class?

Statements:

I. His friend got 58th rank, which is the last.

II. Arun's rank from the last is 49th.

Options :

1. ✖ Data in statement I alone is sufficient to answer the question

2. ✖ Data in statement II alone is sufficient to answer the question

3. ✔ Data in either statement I or statement II alone is sufficient to answer the question

4. ✖ Both the statements I and II are not sufficient to answer the question

Question Number : 15 Question Id : 16794317978 Question Type : MCQ Option Shuffling : Yes Display Question Number : Yes
Single Line Question Option : No Option Orientation : Vertical

Correct Marks : 1 Wrong Marks : 0.25

आपको एक प्रश्न तथा दो कथन I और II दिए गए हैं। आपको यह सुनिश्चित करना है कि कथनों में उपलब्ध कराया गया डेटा प्रश्न का उत्तर देने के लिए पर्याप्त है कि नहीं?

अपनी कक्षा में अरुण की रैंक 10^{वीं} है। उसकी कक्षा में कितने छात्र हैं?

कथन:

I. उसके मित्र की 58^{वीं} रैंक आयी, जोकि अंतिम है।

II. अरुण की रैंक अंतिम से 49^{वीं} है।

Options :

1. ✖ अकेले कथन I में उपलब्ध डेटा प्रश्न का उत्तर देने के लिए पर्याप्त है।

2. ✖ अकेले कथन II में उपलब्ध डेटा प्रश्न का उत्तर देने के लिए पर्याप्त है।

3. ✔

अकेले या तो कथन I या अकेले कथन II में स्थित डेटा प्रश्न का उत्तर देने के लिए पर्याप्त है।

4. ✖ दोनों कथन I और II प्रश्न का उत्तर देने के लिए पर्याप्त नहीं हैं।

Question Number : 16 Question Id : 16794317979 Question Type : MCQ Option Shuffling : Yes Display Question Number : Yes
Single Line Question Option : No Option Orientation : Vertical

Correct Marks : 1 Wrong Marks : 0.25

A cube, whose two adjacent faces are coloured, is cut into 64 identical small cubes. How many of these small cubes are not coloured at all?

Options :

1. ✖ 16

2. ✖ 32

3. ✔ 36

4. ✖ 48

Question Number : 16 Question Id : 16794317979 Question Type : MCQ Option Shuffling : Yes Display Question Number : Yes
Single Line Question Option : No Option Orientation : Vertical

Correct Marks : 1 Wrong Marks : 0.25

एक घन जिसके दो समीपवर्ती फलक रंगीन हैं, जिसको 64 समान छोटे घनों में काटा जाता है। इनमें से कितने छोटे घन बिल्कुल भी रंगे हुए नहीं हैं?

Options :

1. ✖ 16

2. ✖ 32

3. ✔ 36

4. ✖ 48

Question Number : 17 Question Id : 16794317980 Question Type : MCQ Option Shuffling : Yes Display Question Number : Yes
Single Line Question Option : No Option Orientation : Vertical

Correct Marks : 1 Wrong Marks : 0.25

You are alone in your house and there is a danger of thieves around. You hear a knock on the door. What should be your most logical action?

Options :

1. ✖ Not to open the door

2. ✖ Open the door to see who is there

3. ✖ Ask the servant to see who is there

4. ✔ First peep out of the window to confirm whether you know the person at the door

Question Number : 17 Question Id : 16794317980 Question Type : MCQ Option Shuffling : Yes Display Question Number : Yes
Single Line Question Option : No Option Orientation : Vertical

Correct Marks : 1 Wrong Marks : 0.25

आप अपने घर में अकेले हैं तथा आस-पास चोरों का खतरा है। आप दरवाजे पर दस्तक सुनते हैं। आपकी सबसे अधिक तर्कसंगत क्रिया क्या होगी?

Options :

1. ✖ दरवाजे को न खोलना।

2. ✖ वहाँ कौन है यह देखने के लिए दरवाजा खोलना।

3. ✖ वहाँ कौन है यह देखने के लिए नौकर को कहना।

4. ✔

दरवाजे पर स्थित व्यक्ति को आप जानते हैं कि नहीं इसकी पुष्टि करने के लिए सबसे पहले खिड़की से झाँककर देखना।

Question Number : 18 Question Id : 16794317981 Question Type : MCQ Option Shuffling : Yes Display Question Number : Yes
Single Line Question Option : No Option Orientation : Vertical

Correct Marks : 1 Wrong Marks : 0.25

Find the odd one out from the below options:

Options :

1. ✖

\div

2. ✔

$!$

3. ✖

$-$

4. ✖

$+$

Question Number : 18 Question Id : 16794317981 Question Type : MCQ Option Shuffling : Yes Display Question Number : Yes
Single Line Question Option : No Option Orientation : Vertical

Correct Marks : 1 Wrong Marks : 0.25

नीचे दिए गए विकल्पों से एक विषम का पता लगाएं:

Options :

1. ✖

\div

2. ✔

$!$

3. ✖

$-$

4. ✖

$+$

Question Number : 19 Question Id : 16794317982 Question Type : MCQ Option Shuffling : Yes Display Question Number : Yes
Single Line Question Option : No Option Orientation : Vertical

Correct Marks : 1 Wrong Marks : 0.25

Read the following information carefully and answer the question given below:

Following are the alternative eligibility criteria for short-listing candidates for interview for an entry-level job in a private bank:

- (i) The candidate should have passed SSC with at least 75% marks.
- (ii) The candidate should have passed HSC with at least 65% marks.
- (iii) The candidate should be a/an Arts/Science/Commerce graduate with at least 55% marks.
- (iv) The candidate should be a professor with at least 75% marks.
- (v) The candidate should be post graduate in any discipline with at least 50% marks.

Any candidate can be eligible under any one or more of the above criteria depending upon his/her academic pursuits.

In following question, details of one candidate are given. You have to find out under which the above conditions the candidate is eligible and mark your answer accordingly based on the alternatives provided after the given question.

Nirmala has secured 75% marks in graduation in Science. She has also secured 60% and 75% marks in HSC and post-graduate exams respectively. She is presently pursuing her second post-graduation degree

Options :

- 1. ☒ Eligible under (iii) and (v) only
- 2. ☐ Eligible under (ii), (iii) and (iv) only
- 3. ☐ Eligible under (ii), (iv) and (v) only
- 4. ☐ Eligible under (i) and (v) only

Question Number : 19 Question Id : 16794317982 Question Type : MCQ Option Shuffling : Yes Display Question Number : Yes
Single Line Question Option : No Option Orientation : Vertical

Correct Marks : 1 Wrong Marks : 0.25

निम्नलिखित जानकारी को सावधानीपूर्वक पढ़ें तथा नीचे दिए गए प्रश्न का उत्तर दें:

एक निजी बैंक में प्रवेश स्तर की नौकरी के लिए साक्षात्कार हेतु उम्मीदवारों की संक्षिप्त सूची बनाने हेतु वैकल्पिक पात्रता मापदंड निम्नलिखित हैं:

- (i) उम्मीदवार को कम से कम 75% अंकों के साथ एसएससी उत्तीर्ण होना चाहिए।
- (ii) उम्मीदवार को कम से कम 65% अंकों के साथ एचएससी उत्तीर्ण होना चाहिए।
- (iii) उम्मीदवार को कम से कम 55% अंकों के साथ कला/विज्ञान/वाणिज्य स्नातक होना चाहिए।
- (iv) उम्मीदवार को कम से कम 75% अंकों के साथ प्रोफेसर होना चाहिए।
- (v) उम्मीदवार को कम से कम 50% अंकों के साथ किसी विषय में स्नातकोत्तर होना चाहिए।

कोई उम्मीदवार उपरोक्त किसी एक या अधिक मापदंड के तहत अपने शैक्षिक कार्यों के आधार पर पात्र हो सकता है।

निम्नलिखित प्रश्न में, एक उम्मीदवार का ब्यौरा दिया गया है। आपको पता लगाना है कि उपरोक्त किन स्थितियों के तहत उम्मीदवार पात्र है तथा तथा दिए गए प्रश्न के बाद प्रदान किए गए विकल्पों के आधार पर तदनुसार अपना उत्तर चिह्नित करें।

निर्मला ने विज्ञान में स्नातक में 75% अंक प्राप्त किए हैं। उन्होंने एचएससी तथा स्नातकोत्तर परीक्षाओं में क्रमशः 60% और 75% अंक प्राप्त किए हैं। वे इस समय अपनी दूसरी स्नातकोत्तर डिग्री के लिए प्रयत्नशील हैं।

Options :

- 1. ☒ केवल (iii) और (v) के तहत पात्र
- 2. ☐ केवल (ii), (iii) और (iv) के तहत पात्र
- 3. ☐ केवल (ii), (iv) और (v) के तहत पात्र
- 4. ☐ केवल (i) और (v) के तहत पात्र

Question Number : 20 Question Id : 16794317983 Question Type : MCQ Option Shuffling : Yes Display Question Number : Yes
Single Line Question Option : No Option Orientation : Vertical

Correct Marks : 1 Wrong Marks : 0.25

Find the number that will come next in the below series:

2, 5, 10, 17, 26, 37, 50, 65, 82, _____

Options :

- 1. ☐ 99
- 2. ☐ 100
- 3. ☒ 101
- 4. ☐ 110

Question Number : 20 Question Id : 16794317983 Question Type : MCQ Option Shuffling : Yes Display Question Number : Yes
Single Line Question Option : No Option Orientation : Vertical
Correct Marks : 1 Wrong Marks : 0.25

उस संख्या का पता लगाएं जो इस श्रंखला में इसके बाद आएगी:

2, 5, 10, 17, 26, 37, 50, 65, 82, _____

Options :

1. ✖ 99

2. ✖ 100

3. ✔ 101

4. ✖ 110

General Awareness

Group Number :	2
Group Id :	167943665
Group Maximum Duration :	0
Group Minimum Duration :	0
Revisit allowed for view? :	No
Revisit allowed for edit? :	No
Break time:	0
Group Marks:	20
Revisit allowed for group Instructions? :	Yes
Maximum Instruction Time:	0
Minimum Instruction Time:	0

General Awareness

Section Id :	167943730
Section Number :	1
Section type :	Online
Mandatory or Optional:	Mandatory
Number of Questions:	20
Number of Questions to be attempted:	20
Section Marks:	20
Display Number Panel:	Yes
Group All Questions:	No

Sub-Section Number:	1
Sub-Section Id:	1679431141
Question Shuffling Allowed :	Yes

Question Number : 21 Question Id : 16794317984 Question Type : MCQ Option Shuffling : Yes Display Question Number : Yes
Single Line Question Option : No Option Orientation : Vertical

Correct Marks : 1 Wrong Marks : 0.25

India comprises how many states and union territories?

Options :

1. ✖ 25 states and 5 Union territories
2. ✖ 26 states and 5 Union territories
3. ✖ 28 states and 7 Union territories
4. ✔ 29 states and 7 Union territories

Question Number : 21 Question Id : 16794317984 Question Type : MCQ Option Shuffling : Yes Display Question Number : Yes
Single Line Question Option : No Option Orientation : Vertical

Correct Marks : 1 Wrong Marks : 0.25

भारत में कितने राज्य और केंद्र शासित प्रदेश हैं?

Options :

1. ✖ 25 राज्य और 5 केंद्र शासित प्रदेश
2. ✖ 26 राज्य और 5 केंद्र शासित प्रदेश
3. ✖ 28 राज्य और 7 केंद्र शासित प्रदेश
4. ✔ 29 राज्य और 7 केंद्र शासित प्रदेश

Question Number : 22 Question Id : 16794317985 Question Type : MCQ Option Shuffling : Yes Display Question Number : Yes
Single Line Question Option : No Option Orientation : Vertical

Correct Marks : 1 Wrong Marks : 0.25

The 73rd amendment Act to provide constitutional status to provide constitutional status to the Panchayati Raj institutions was brought into force in:

Options :

1. ✖ March, 1993
2. ✔ April, 1993
3. ✖ May, 1993
4. ✖ June, 1993

Question Number : 22 Question Id : 16794317985 Question Type : MCQ Option Shuffling : Yes Display Question Number : Yes
Single Line Question Option : No Option Orientation : Vertical

Correct Marks : 1 Wrong Marks : 0.25

पंचायती राज संस्थानों को संवैधानिक दर्जा देने के लिए 73वें संशोधन अधिनियम को लागू किया गया था:

Options :

1. ✖ मार्च 1993
2. ✔ अप्रैल 1993
3. ✖ मई 1993
4. ✖ जून 1993

Question Number : 23 Question Id : 16794317986 Question Type : MCQ Option Shuffling : Yes Display Question Number : Yes
Single Line Question Option : No Option Orientation : Vertical

Correct Marks : 1 Wrong Marks : 0.25

In which of the following articles the emoluments and allowances of the President has mentioned?

Options :

1. ✖ Article 59(1)
2. ✖ Article 56
3. ✔ Article 59(3)
4. ✖ Article 65

Question Number : 23 Question Id : 16794317986 Question Type : MCQ Option Shuffling : Yes Display Question Number : Yes
Single Line Question Option : No Option Orientation : Vertical

Correct Marks : 1 Wrong Marks : 0.25

संविधान के निम्नलिखित में से किस अनुच्छेद में राष्ट्रपति के अनुमोदन और भत्ते का उल्लेख किया गया है?

Options :

1. ✖ अनुच्छेद 59 (1)
2. ✖ अनुच्छेद 56
3. ✔ अनुच्छेद 59(3)
4. ✖ अनुच्छेद 65

Question Number : 24 Question Id : 16794317987 Question Type : MCQ Option Shuffling : Yes Display Question Number : Yes
Single Line Question Option : No Option Orientation : Vertical

Correct Marks : 1 Wrong Marks : 0.25

The classical language of India Sanskrit is a derivative of which of the following languages?

Options :

1. ✘ Rig Vedic language
2. ✘ Vedic Sanskrit language
3. ✔ Indo-Aryan languages
4. ✘ Prakrit language

Question Number : 24 Question Id : 16794317987 Question Type : MCQ Option Shuffling : Yes Display Question Number : Yes
Single Line Question Option : No Option Orientation : Vertical

Correct Marks : 1 Wrong Marks : 0.25

भारतीय संस्कृत की शास्त्रीय भाषा निम्नलिखित भाषाओं में से किस भाषा से ली गई है?

Options :

1. ✘ ऋग वैदिक भाषा
2. ✘ वैदिक संस्कृत भाषा
3. ✔ भारत-आर्य भाषाएं
4. ✘ प्राकृत भाषा

Question Number : 25 Question Id : 16794317988 Question Type : MCQ Option Shuffling : Yes Display Question Number : Yes
Single Line Question Option : No Option Orientation : Vertical

Correct Marks : 1 Wrong Marks : 0.25

Who was the founder of the Slave dynasty?

Options :

1. ✘ Behram Shah
2. ✘ Shamsuddin Iltutmish
3. ✔ Qutbuddin Aibak
4. ✘ Giasuddin Balban

Question Number : 25 Question Id : 16794317988 Question Type : MCQ Option Shuffling : Yes Display Question Number : Yes
Single Line Question Option : No Option Orientation : Vertical

Correct Marks : 1 Wrong Marks : 0.25

गुलाम राजवंश के संस्थापक कौन थे?

Options :

1. ✖ बेहराम शाह
2. ✖ शम्सुद्दीन इल्तुतमिश
3. ✔ कुतुबुद्दीन ऐबक
4. ✖ गियासुद्दीन बलबान

Question Number : 26 Question Id : 16794317989 Question Type : MCQ Option Shuffling : Yes Display Question Number : Yes
Single Line Question Option : No Option Orientation : Vertical

Correct Marks : 1 Wrong Marks : 0.25

Who was the founder of Atmiya Sabha?

Options :

1. ✔ Raja Rammohan Roy
2. ✖ Raja Radhakant Deb
3. ✖ Debendra nath Tagore
4. ✖ Keshab Chandra Sen

Question Number : 26 Question Id : 16794317989 Question Type : MCQ Option Shuffling : Yes Display Question Number : Yes
Single Line Question Option : No Option Orientation : Vertical

Correct Marks : 1 Wrong Marks : 0.25

आत्मीय सभा के संस्थापक कौन थे?

Options :

1. ✔ राजा राममोहन रॉय
2. ✖ राजा राधाकांत देव
3. ✖ देवेन्द्र नाथ टैगोर
4. ✖ केशव चंद्र सेन

Question Number : 27 Question Id : 16794317990 Question Type : MCQ Option Shuffling : Yes Display Question Number : Yes
Single Line Question Option : No Option Orientation : Vertical

Correct Marks : 1 Wrong Marks : 0.25

What is the literacy rate of Goa?

Options :

1. ✖ 86.0%
2. ✔ 88.7%
3. ✖ 87.1%
4. ✖ 87.2%

Question Number : 27 Question Id : 16794317990 Question Type : MCQ Option Shuffling : Yes Display Question Number : Yes
Single Line Question Option : No Option Orientation : Vertical

Correct Marks : 1 Wrong Marks : 0.25

गोवा की साक्षरता दर क्या है??

Options :

1. ✖ 86.0%
2. ✔ 88.7%
3. ✖ 87.1%
4. ✖ 87.2%

Question Number : 28 Question Id : 16794317991 Question Type : MCQ Option Shuffling : Yes Display Question Number : Yes
Single Line Question Option : No Option Orientation : Vertical

Correct Marks : 1 Wrong Marks : 0.25

Tista river originates from _____.

Options :

1. ✔ Cholamu lake
2. ✖ Darjeeling hills
3. ✖ Amarkantak Plateau
4. ✖ Chotanagpur Plateau

Question Number : 28 Question Id : 16794317991 Question Type : MCQ Option Shuffling : Yes Display Question Number : Yes
Single Line Question Option : No Option Orientation : Vertical

Correct Marks : 1 Wrong Marks : 0.25

तीस्ता नदी _____ से निकलती है।

Options :

1. ☒ चोलामू झील
2. ☐ दार्जिलिंग पहाड़ी
3. ☐ अमरकंटक पठार
4. ☐ छोटा नागपुर पठार

Question Number : 29 Question Id : 16794317992 Question Type : MCQ Option Shuffling : Yes Display Question Number : Yes
Single Line Question Option : No Option Orientation : Vertical

Correct Marks : 1 Wrong Marks : 0.25

The Industrial development in India started after_____.

Options :

1. ☒ 1854
2. ☐ 1855
3. ☐ 1856
4. ☐ 1857

Question Number : 29 Question Id : 16794317992 Question Type : MCQ Option Shuffling : Yes Display Question Number : Yes
Single Line Question Option : No Option Orientation : Vertical

Correct Marks : 1 Wrong Marks : 0.25

भारत में औद्योगिक विकास _____ के बाद शुरू हुआ।

Options :

1. ☒ 1854
2. ☐ 1855
3. ☐ 1856
4. ☐ 1857

Question Number : 30 Question Id : 16794317993 Question Type : MCQ Option Shuffling : Yes Display Question Number : Yes
Single Line Question Option : No Option Orientation : Vertical

Correct Marks : 1 Wrong Marks : 0.25

Which of the following statements about Gross domestic products (GDP) is correct?

1. The value of final goods and services produced within the boundary and trans -boundary of a country during one-year period.
2. The calendar year is from 1st April to 31st march.

Options :

1. ✖ 1 only
2. ✔ 2 only
3. ✖ 1 and 2 both
4. ✖ Neither 1 nor 2

Question Number : 30 Question Id : 16794317993 Question Type : MCQ Option Shuffling : Yes Display Question Number : Yes
Single Line Question Option : No Option Orientation : Vertical

Correct Marks : 1 Wrong Marks : 0.25

सकल घरेलू उत्पादों (GDP) के बारे में निम्नलिखित में से कौन सा कथन सही है?

1. एक वर्ष की अवधि के दौरान देश की अंतर सीमा और सीमा के अंदर उत्पादित अंतिम सामान और सेवाओं का मूल्य।
2. कैलेंडर वर्ष 1 अप्रैल से 31 मार्च है।

Options :

1. ✖ केवल 1
2. ✔ केवल 2
3. ✖ 1 और 2 दोनों
4. ✖ न तो 1 और न ही 2

Question Number : 31 Question Id : 16794317994 Question Type : MCQ Option Shuffling : Yes Display Question Number : Yes
Single Line Question Option : No Option Orientation : Vertical

Correct Marks : 1 Wrong Marks : 0.25

What does CPI-IW stands for:

Options :

1. ✖ Costumer Price Index for the integrated workers
2. ✔ Costumer Price Index for the industrial workers
3. ✖ Costumer Price Index for the inland workers
4. ✖ Costumer Price Index for the index workers

Question Number : 31 Question Id : 16794317994 Question Type : MCQ Option Shuffling : Yes Display Question Number : Yes
Single Line Question Option : No Option Orientation : Vertical

Correct Marks : 1 Wrong Marks : 0.25

सी.पी.आई.आई.डब्ल्यू का क्या अर्थ है?

Options :

1. ✖ कस्टमर प्राइस इंडेक्स फॉर द इंटीग्रेटेड वर्कर्स
2. ✔ कस्टमर प्राइस इंडेक्स फॉर द इंडस्ट्रियल वर्कर्स
3. ✖ कस्टमर प्राइस इंडेक्स फॉर द इनलैंड वर्कर्स
4. ✖ कस्टमर प्राइस इंडेक्स फॉर द इंडेक्स वर्कर्स

Question Number : 32 Question Id : 16794317995 Question Type : MCQ Option Shuffling : Yes Display Question Number : Yes
Single Line Question Option : No Option Orientation : Vertical

Correct Marks : 1 Wrong Marks : 0.25

What is the Minimum support price of Paddy (common variety) in 2018-2019 season?

Options :

1. ✖ 1700
2. ✖ 1725
3. ✔ 1750
4. ✖ 1775

Question Number : 32 Question Id : 16794317995 Question Type : MCQ Option Shuffling : Yes Display Question Number : Yes
Single Line Question Option : No Option Orientation : Vertical

Correct Marks : 1 Wrong Marks : 0.25

2018-2019 सीज़न में धान (सामान्य किस्म) का न्यूनतम समर्थन मूल्य क्या है?

Options :

1. ✖ ₹ 1700
2. ✖ ₹ 1725
3. ✔ ₹ 1750
4. ✖ ₹ 1775

Question Number : 33 Question Id : 16794317996 Question Type : MCQ Option Shuffling : Yes Display Question Number : Yes
Single Line Question Option : No Option Orientation : Vertical

Correct Marks : 1 Wrong Marks : 0.25

Which of the following is absent in Frog?

Options :

1. ✖ Tympanum
2. ✖ Eye lids
3. ✖ Eyes
4. ✔ Neck

Question Number : 33 Question Id : 16794317996 Question Type : MCQ Option Shuffling : Yes Display Question Number : Yes
Single Line Question Option : No Option Orientation : Vertical
Correct Marks : 1 Wrong Marks : 0.25

मेंढक में निम्नलिखित में से क्या नहीं होताहोता है?

Options :

1. ✖ कान का पर्दा
2. ✖ पलकें
3. ✖ आँख
4. ✔ गरदन

Question Number : 34 Question Id : 16794317997 Question Type : MCQ Option Shuffling : Yes Display Question Number : Yes
Single Line Question Option : No Option Orientation : Vertical
Correct Marks : 1 Wrong Marks : 0.25

Plastic bottles are formed from the chemical substance _____.

Options :

1. ✖ Polymethylene Terephthalate Polyster
2. ✖ Ethyl Terephthalate Polyster
3. ✔ Polyethylene Terephthalate Polyster
4. ✖ Methyl Terephthlate Ester

Question Number : 34 Question Id : 16794317997 Question Type : MCQ Option Shuffling : Yes Display Question Number : Yes
Single Line Question Option : No Option Orientation : Vertical
Correct Marks : 1 Wrong Marks : 0.25

प्लास्टिक की बोतलें रासायनिक पदार्थ _____ से बनाई जाती हैं।

Options :

1. ✖ पॉलिमैथिलीन टैरेफेथलेट पॉलिस्टर
2. ✖ एथिल टैरेफेथलेट पॉलीस्टर
3. ✔ पॉलीथीन टैरेफेथलेट पॉलीस्टर
4. ✖ मेथिल टैरेफेथलेट एस्टर

Question Number : 35 Question Id : 16794317998 Question Type : MCQ Option Shuffling : Yes Display Question Number : Yes
Single Line Question Option : No Option Orientation : Vertical

Correct Marks : 1 Wrong Marks : 0.25

Golden Rice contains high amount of _____.

Options :

1. ✔ Vitamin A
2. ✖ Vitamin B
3. ✖ Vitamin C
4. ✖ Vitamin D

Question Number : 35 Question Id : 16794317998 Question Type : MCQ Option Shuffling : Yes Display Question Number : Yes
Single Line Question Option : No Option Orientation : Vertical

Correct Marks : 1 Wrong Marks : 0.25

गोल्डन राइस (सुनहरा चावल) में उच्च मात्रा में _____ होता है।

Options :

1. ✔ विटामिन A
2. ✖ विटामिन B
3. ✖ विटामिन C
4. ✖ विटामिन D

Question Number : 36 Question Id : 16794317999 Question Type : MCQ Option Shuffling : Yes Display Question Number : Yes
Single Line Question Option : No Option Orientation : Vertical

Correct Marks : 1 Wrong Marks : 0.25

How many permanent members are in BRICS?

Options :

1. ✖ 4

2. ✓ 5

3. ✗ 6

4. ✗ 8

Question Number : 36 Question Id : 16794317999 Question Type : MCQ Option Shuffling : Yes Display Question Number : Yes
Single Line Question Option : No Option Orientation : Vertical

Correct Marks : 1 Wrong Marks : 0.25

ब्रिक्स (BRICS) में कितने स्थायी सदस्य हैं?

Options :

1. ✗ 4

2. ✓ 5

3. ✗ 6

4. ✗ 8

Question Number : 37 Question Id : 16794318000 Question Type : MCQ Option Shuffling : Yes Display Question Number : Yes
Single Line Question Option : No Option Orientation : Vertical

Correct Marks : 1 Wrong Marks : 0.25

What is the acronym of NRC?

Options :

1. ✗ National Regulation of Citizens

2. ✗ National Rights of Citizens

3. ✓ National Register of Citizens

4. ✗ National Records of Citizens

Question Number : 37 Question Id : 16794318000 Question Type : MCQ Option Shuffling : Yes Display Question Number : Yes
Single Line Question Option : No Option Orientation : Vertical

Correct Marks : 1 Wrong Marks : 0.25

एनआरसी (NRC) का संक्षिप्त नाम क्या है?

Options :

1. ✗ नेशनल रेग्युलेशन ऑफ सिटीज़न

2. ✗ नेशनल राइट ऑफ सिटीज़न

3. ✓ नेशनल रजिस्ट्रार ऑफ सिटीज़न

4. ✗ नेशनल रिकॉर्ड ऑफ सिटीज़न

Question Number : 38 Question Id : 16794318001 Question Type : MCQ Option Shuffling : Yes Display Question Number : Yes
Single Line Question Option : No Option Orientation : Vertical

Correct Marks : 1 Wrong Marks : 0.25

Which of the following countries has hosted the Asian Games, 2018?

Options :

1. ✗ Malaysia

2. ✓ Indonesia

3. ✗ Cambodia

4. ✗ Phillipines

Question Number : 38 Question Id : 16794318001 Question Type : MCQ Option Shuffling : Yes Display Question Number : Yes
Single Line Question Option : No Option Orientation : Vertical

Correct Marks : 1 Wrong Marks : 0.25

निम्नलिखित में से किस देश ने एशियाई खेल 2018 की मेजबानी की है?

Options :

1. ✗ मलेशिया

2. ✓ इंडोनेशिया

3. ✗ कंबोडिया

4. ✗ फिलीपींस

Question Number : 39 Question Id : 16794318002 Question Type : MCQ Option Shuffling : Yes Display Question Number : Yes
Single Line Question Option : No Option Orientation : Vertical

Correct Marks : 1 Wrong Marks : 0.25

Moon Jae-In is the President of _____.

Options :

1. ✗ Japan

2. ✓ South Korea

3. ✖ Cambodia

4. ✖ Laos

Question Number : 39 Question Id : 16794318002 Question Type : MCQ Option Shuffling : Yes Display Question Number : Yes
Single Line Question Option : No Option Orientation : Vertical

Correct Marks : 1 Wrong Marks : 0.25

मून जेए-इन _____ के राष्ट्रपति हैं।

Options :

1. ✖ जापान

2. ✔ दक्षिण कोरिया

3. ✖ कंबोडिया

4. ✖ लाओस

Question Number : 40 Question Id : 16794318003 Question Type : MCQ Option Shuffling : Yes Display Question Number : Yes
Single Line Question Option : No Option Orientation : Vertical

Correct Marks : 1 Wrong Marks : 0.25

Manu Bhaker is associated with _____.

Options :

1. ✖ Judo

2. ✖ Table Tennis

3. ✔ Shooting

4. ✖ Swimming

Question Number : 40 Question Id : 16794318003 Question Type : MCQ Option Shuffling : Yes Display Question Number : Yes
Single Line Question Option : No Option Orientation : Vertical

Correct Marks : 1 Wrong Marks : 0.25

मनु भाकर _____ से संबंधित है।

Options :

1. ✖ जूदो

2. ✖ टेबल टेनिस

3. ✓ निशानेबाजी

4. ✗ स्विमिंग

Arithmetic Ability

Group Number :	3
Group Id :	167943666
Group Maximum Duration :	0
Group Minimum Duration :	0
Revisit allowed for view? :	No
Revisit allowed for edit? :	No
Break time:	0
Group Marks:	20
Revisit allowed for group Instructions? :	Yes
Maximum Instruction Time:	0
Minimum Instruction Time:	0

Arithmetic Ability

Section Id :	167943731
Section Number :	1
Section type :	Online
Mandatory or Optional:	Mandatory
Number of Questions:	19
Number of Questions to be attempted:	19
Section Marks:	20
Display Number Panel:	Yes
Group All Questions:	No

Sub-Section Number:	1
Sub-Section Id:	1679431142
Question Shuffling Allowed :	Yes

Question Number : 41 Question Id : 16794318004 Question Type : MCQ Option Shuffling : Yes Display Question Number : Yes
Single Line Question Option : No Option Orientation : Vertical

Correct Marks : 1 Wrong Marks : 0.25

The value of $\frac{(369+731)^2 - (369-731)^2}{36.9 \times 73.1}$ is equal to:

Options :

1. ✗ 20

2. ✗ 40

3. ✗ 200

4. ✓ 400

Question Number : 41 Question Id : 16794318004 Question Type : MCQ Option Shuffling : Yes Display Question Number : Yes
Single Line Question Option : No Option Orientation : Vertical

Correct Marks : 1 Wrong Marks : 0.25

$\frac{(369+731)^2 - (369-731)^2}{36.9 \times 73.1}$ का मान इसके बराबर है:

Options :

1. ✗ 20

2. ✗ 40

3. ✗ 200

4. ✓ 400

Question Number : 42 Question Id : 16794318005 Question Type : MCQ Option Shuffling : Yes Display Question Number : Yes
Single Line Question Option : No Option Orientation : Vertical

Correct Marks : 1 Wrong Marks : 0.25

The unit digit in $(4)^{31} + (36)^{81} - (243)^{26}$ is:

Options :

1. ✓ 1

2. ✗ 3

3. ✗ 4

4. ✗ 9

Question Number : 42 Question Id : 16794318005 Question Type : MCQ Option Shuffling : Yes Display Question Number : Yes
Single Line Question Option : No Option Orientation : Vertical

Correct Marks : 1 Wrong Marks : 0.25

$(4)^{31} + (36)^{81} - (243)^{26}$ में इकाई स्थान में अंक है:

Options :

1. ✓ 1

2. ✗ 3

3. ✗ 4

4. ✗ 9

Question Number : 43 Question Id : 16794318006 Question Type : MCQ Option Shuffling : Yes Display Question Number : Yes
Single Line Question Option : No Option Orientation : Vertical

Correct Marks : 1 Wrong Marks : 0.25

What is the sum of digits of the least number which should be added to 13896 to make it perfect cube?

Options :

- 1. ✖ 8
- 2. ✖ 10
- 3. ✔ 19
- 4. ✖ 21

Question Number : 43 Question Id : 16794318006 Question Type : MCQ Option Shuffling : Yes Display Question Number : Yes
Single Line Question Option : No Option Orientation : Vertical

Correct Marks : 1 Wrong Marks : 0.25

उस न्यूनतम संख्या के अंकों का योग क्या है जिसे पूर्ण घन बनाने के लिए 13896 में जोड़ा जाना चाहिए?

Options :

- 1. ✖ 8
- 2. ✖ 10
- 3. ✔ 19
- 4. ✖ 21

Question Number : 44 Question Id : 16794318007 Question Type : MCQ Option Shuffling : Yes Display Question Number : Yes
Single Line Question Option : No Option Orientation : Vertical

Correct Marks : 1 Wrong Marks : 0.25

The value of $1.\bar{3} + 0.6\bar{9} - 0.5\bar{2}3$ is equal to:

Options :

- 1. ✖ $1.4\bar{1}1$
- 2. ✔ $1.5\bar{1}0$
- 3. ✖ $1.5\bar{2}3$
- 4. ✖ $1.5\bar{5}6$

Question Number : 44 Question Id : 16794318007 Question Type : MCQ Option Shuffling : Yes Display Question Number : Yes
Single Line Question Option : No Option Orientation : Vertical

Correct Marks : 1 Wrong Marks : 0.25

$1.\overline{3} + 0.6\overline{9} - 0.5\overline{23}$ का मान इसके बराबर है:

Options :

1. ✖ $1.4\overline{11}$

2. ✔ $1.5\overline{10}$

3. ✖ $1.5\overline{23}$

4. ✖ $1.5\overline{56}$

Question Number : 45 Question Id : 16794318008 Question Type : MCQ Option Shuffling : Yes Display Question Number : Yes
Single Line Question Option : No Option Orientation : Vertical

Correct Marks : 1 Wrong Marks : 0.25

The H.C.F of two numbers is 17 and their product is 4624. What is the sum of their reciprocals?

Options :

1. ✔ $\frac{1}{16}$

2. ✖ $\frac{1}{17}$

3. ✖ $\frac{1}{272}$

4. ✖ $\frac{1}{289}$

Question Number : 45 Question Id : 16794318008 Question Type : MCQ Option Shuffling : Yes Display Question Number : Yes
Single Line Question Option : No Option Orientation : Vertical

Correct Marks : 1 Wrong Marks : 0.25

दो संख्याओं का महत्तम समापवर्तक 17 है और उनका गुणनफल 4624 है। उनके व्युत्क्रमों का योग क्या है?

Options :

1. ✔ $\frac{1}{16}$

2. ✖ $\frac{1}{17}$

3. ✖ $\frac{1}{272}$

4. ✖ $\frac{1}{289}$

Question Number : 46 Question Id : 16794318009 Question Type : MCQ Option Shuffling : Yes Display Question Number : Yes
Single Line Question Option : No Option Orientation : Vertical

Correct Marks : 1 Wrong Marks : 0.25

The average weight of students in a class is 45kg, when 4 new students whose weights are 42 kg, 36.5 kg, 37.5 kg and 40 kg are admitted, the average weight decreases by 0.75 kg. What is the number of students in the class now?

Options :

1. ✖ 28

2. ✖ 30

3. ✔ 32

4. ✖ 35

Question Number : 46 Question Id : 16794318009 Question Type : MCQ Option Shuffling : Yes Display Question Number : Yes
Single Line Question Option : No Option Orientation : Vertical

Correct Marks : 1 Wrong Marks : 0.25

एक कक्षा में छात्रों का औसत वजन 45 किलोग्राम है, जब 42 किलोग्राम, 36.5 किलोग्राम, 37.5 किलोग्राम और 40 किलोग्राम वजन वाले 4 नए छात्र शामिल किए जाते हैं, औसत वजन 0.75 किलोग्राम कम हो जाता है। कक्षा में छात्रों की संख्या अब क्या है?

Options :

1. ✖ 28

2. ✖ 30

3. ✔ 32

4. ✖ 35

Question Number : 47 Question Id : 16794318010 Question Type : MCQ Option Shuffling : Yes Display Question Number : Yes
Single Line Question Option : No Option Orientation : Vertical

Correct Marks : 1 Wrong Marks : 0.25

₹ 12960 is divided among A, B and C such that 4 times share of A is equal to 6 times share of B and also equal to 3 times share of C. How much did A get?

Options :

1. ✖ ₹ 3920

2. ✔ ₹ 4320

3. ✖ ₹ 5280

4. ✖ ₹ 5760

Question Number : 47 Question Id : 16794318010 Question Type : MCQ Option Shuffling : Yes Display Question Number : Yes
Single Line Question Option : No Option Orientation : Vertical

Correct Marks : 1 Wrong Marks : 0.25

₹ 12960 की राशि A, B और C में इस तरह से वितरित की जाती है कि A का 4 गुना हिस्सा B के 6 गुने हिस्से के बराबर है और C के 3 गुने हिस्से के भी बराबर है। A को कितना मिला?

Options :

1. ✖ ₹ 3920

2. ✔ ₹ 4320

3. ✖ ₹ 5280

4. ✖ ₹ 5760

Question Number : 48 Question Id : 16794318011 Question Type : MCQ Option Shuffling : Yes Display Question Number : Yes
Single Line Question Option : No Option Orientation : Vertical

Correct Marks : 1 Wrong Marks : 0.25

The difference between mean proportion and third proportion of 3 and 12 is:

Options :

1. ✖ $\frac{21}{4}$

2. ✖ 24

3. ✖ 30

4. ✔ 42

Question Number : 48 Question Id : 16794318011 Question Type : MCQ Option Shuffling : Yes Display Question Number : Yes
Single Line Question Option : No Option Orientation : Vertical

Correct Marks : 1 Wrong Marks : 0.25

3 और 12 के माध्य समानुपात और तृतीय समानुपात के बीच अंतर है:

Options :

1. ✖ $\frac{21}{4}$

2. ✖ 24

3. ✖ 30

4. ✔ 42

Question Number : 49 Question Id : 16794318012 Question Type : MCQ Option Shuffling : Yes Display Question Number : Yes
Single Line Question Option : No Option Orientation : Vertical

Correct Marks : 1 Wrong Marks : 0.25

Reena gave 20% of the money she had to Rita. Rita spent 25% of the money received on school fee, 40% on buying books. If she is left with ₹ 1680, how much money Reena had initially?

Options :

1. ✖ ₹ 18000

2. ✖ ₹ 20000

3. ✖ ₹ 22000

4. ✔ ₹ 24000

Question Number : 49 Question Id : 16794318012 Question Type : MCQ Option Shuffling : Yes Display Question Number : Yes
Single Line Question Option : No Option Orientation : Vertical

Correct Marks : 1 Wrong Marks : 0.25

रीना ने रीता को अपनी 20% रकम दी। रीता ने प्राप्त रकम का 25% स्कूल फीस पर और 40% रकम किताबें खरीदने पर खर्च किया। अगर उसके पास ₹1680 बचता है, तो प्रारंभ में रीना के पास कितनी रकम थी?

Options :

1. ✖ ₹ 18000

2. ✖ ₹ 20000

3. ✖ ₹ 22000

4. ✔ ₹ 24000

Question Number : 50 Question Id : 16794318013 Question Type : MCQ Option Shuffling : Yes Display Question Number : Yes
Single Line Question Option : No Option Orientation : Vertical

Correct Marks : 1 Wrong Marks : 0.25

By selling 30 articles a person gains cost price of 5 articles. What is his gain percent?

Options :

1. ✔ $\frac{50}{3}\%$

2. ✖ $\frac{100}{7}\%$

3. ✖ $\frac{70}{3}\%$

4. ✖ $\frac{120}{7}\%$

Question Number : 50 Question Id : 16794318013 Question Type : MCQ Option Shuffling : Yes Display Question Number : Yes
Single Line Question Option : No Option Orientation : Vertical

Correct Marks : 1 Wrong Marks : 0.25

30 वस्तुएं बेचने पर एक व्यक्ति को 5 वस्तुओं के लागत मूल्य का लाभ होता है। उसका लाभ प्रतिशत क्या है?

Options :

1. ✔ $\frac{50}{3}\%$

2. ✖ $\frac{100}{7}\%$

3. ✖ $\frac{70}{3}\%$

4. ✖ $\frac{120}{7}\%$

Question Number : 51 Question Id : 16794318014 Question Type : MCQ Option Shuffling : Yes Display Question Number : Yes
Single Line Question Option : No Option Orientation : Vertical

Correct Marks : 1 Wrong Marks : 0.25

The marked price of an article is ₹ 4500. It is sold at successive discounts of 20% and x%. If selling price of the article is ₹ 3060. What is the value of x?

Options :

1. ✖ 8%

2. ✖ 10%

3. ✖ 12%

4. ✔ 15%

Question Number : 51 Question Id : 16794318014 Question Type : MCQ Option Shuffling : Yes Display Question Number : Yes
Single Line Question Option : No Option Orientation : Vertical

Correct Marks : 1 Wrong Marks : 0.25

एक वस्तु का अंकित मूल्य ₹ 4500 है। उसे 20% और $x\%$ के क्रमिक छूट पर बेचा जाता है। यदि वस्तु का बिक्री मूल्य ₹ 3060 है तो x का मान क्या है?

Options :

- 1. ✖ 8%
- 2. ✖ 10%
- 3. ✖ 12%
- 4. ✔ 15%

Question Number : 52 Question Id : 16794318015 Question Type : MCQ Option Shuffling : Yes Display Question Number : Yes
Single Line Question Option : No Option Orientation : Vertical

Correct Marks : 1 Wrong Marks : 0.25

The difference between compound interest and simple interest on ₹ 4800 for 2 years is ₹ 17.28. What is the rate of interest per annum?

Options :

- 1. ✖ 5%
- 2. ✔ 6%
- 3. ✖ 8%
- 4. ✖ 10%

Question Number : 52 Question Id : 16794318015 Question Type : MCQ Option Shuffling : Yes Display Question Number : Yes
Single Line Question Option : No Option Orientation : Vertical

Correct Marks : 1 Wrong Marks : 0.25

दो वर्ष के लिए ₹ 4800 पर चक्रवृद्धि ब्याज और साधारण ब्याज के बीच अंतर ₹ 17.28 है। प्रति वर्ष ब्याज दर क्या है?

Options :

- 1. ✖ 5%
- 2. ✔ 6%
- 3. ✖ 8%
- 4. ✖ 10%

Question Number : 53 Question Id : 16794318016 Question Type : MCQ Option Shuffling : Yes Display Question Number : Yes
Single Line Question Option : No Option Orientation : Vertical

Correct Marks : 1 Wrong Marks : 0.25

The sides of a triangle are 6 cm, 8 cm, and 10 cm. Circles of radius 1 cm are drawn at each of its vertex. What is the area of the triangle excluding the portion covered by the sectors of the circles? ($\pi = 3.14$)

Options :

1. ☒ 22.43 cm²
2. ☐ 20.86 cm²
3. ☐ 21.32 cm²
4. ☐ 22.95 cm²

Question Number : 53 Question Id : 16794318016 Question Type : MCQ Option Shuffling : Yes Display Question Number : Yes
Single Line Question Option : No Option Orientation : Vertical

Correct Marks : 1 Wrong Marks : 0.25

एक त्रिभुज की भुजाएं 6 cm, 8 cm, और 10 cm हैं। इसके हरेक शीर्ष पर 1 cm त्रिज्या के वृत्त बनाए जाते हैं। वृत्तों के क्षेत्रों से आच्छादित हिस्से को छोड़कर त्रिभुज का क्षेत्रफल क्या है? ($\pi = 3.14$)

Options :

1. ☒ 22.43 cm²
2. ☐ 20.86 cm²
3. ☐ 21.32 cm²
4. ☐ 22.95 cm²

Question Number : 54 Question Id : 16794318017 Question Type : MCQ Option Shuffling : Yes Display Question Number : Yes
Single Line Question Option : No Option Orientation : Vertical

Correct Marks : 1 Wrong Marks : 0.25

The radius of a sphere is increased by 120%. What is percent increase in its volume?

Options :

1. ☐ 72.8%
2. ☐ 728%
3. ☒ 964.8%
4. ☐ 40.49%

Question Number : 54 Question Id : 16794318017 Question Type : MCQ Option Shuffling : Yes Display Question Number : Yes
Single Line Question Option : No Option Orientation : Vertical

Correct Marks : 1 Wrong Marks : 0.25

एक गोले की त्रिज्या 120% बढ़ा दी जाती है। उसके परिमाण में प्रतिशत वृद्धि कितनी है?

Options :

1. ✖ 72.8%
2. ✖ 728%
3. ✔ 964.8%
4. ✖ 40.49%

Question Number : 55 Question Id : 16794318018 Question Type : MCQ Option Shuffling : Yes Display Question Number : Yes
Single Line Question Option : No Option Orientation : Vertical

Correct Marks : 1 Wrong Marks : 0.25

The efficiency of A, B and C are in the ratio 4 : 5 : 6. They can together complete a work in 20 days. In how many days, A alone will complete that work?

Options :

1. ✖ 40
2. ✖ 50
3. ✖ 60
4. ✔ 75

Question Number : 55 Question Id : 16794318018 Question Type : MCQ Option Shuffling : Yes Display Question Number : Yes
Single Line Question Option : No Option Orientation : Vertical

Correct Marks : 1 Wrong Marks : 0.25

A, B और C की कार्यक्षमता 4 : 5 : 6 के अनुपात में है। वे एक साथ मिलकर एक काम को 20 दिन में पूरा कर सकते हैं। अकेले A उस कार्य को कितने दिन में पूरा करेगा?

Options :

1. ✖ 40
2. ✖ 50
3. ✖ 60
4. ✔ 75

Question Number : 56 Question Id : 16794318019 Question Type : MCQ Option Shuffling : Yes Display Question Number : Yes
Single Line Question Option : No Option Orientation : Vertical

Correct Marks : 1 Wrong Marks : 0.25

8 men working 9 hours a day can complete 2 units of work in 20 days. In how many days can 6 men working 10 hours a day to complete 3 unit of work?

Options :

- 1. ✖ 24
- 2. ✖ 30
- 3. ✔ 36
- 4. ✖ 40

Question Number : 56 Question Id : 16794318019 Question Type : MCQ Option Shuffling : Yes Display Question Number : Yes
Single Line Question Option : No Option Orientation : Vertical

Correct Marks : 1 Wrong Marks : 0.25

एक दिन में 9 घंटे काम करने वाले 8 आदमी काम की 2 इकाइयों को 20 दिन में पूरा कर सकते हैं। एक दिन में 10 घंटे काम करने वाले 6 आदमी काम की 3 इकाइयों को कितने दिन में पूरा कर सकते हैं?

Options :

- 1. ✖ 24
- 2. ✖ 30
- 3. ✔ 36
- 4. ✖ 40

Question Number : 57 Question Id : 16794318020 Question Type : MCQ Option Shuffling : Yes Display Question Number : Yes
Single Line Question Option : No Option Orientation : Vertical

Correct Marks : 1 Wrong Marks : 0.25

A boat can travel 15 km upstream and 18 km downstream in 4 hours. Also, it can go 18 km upstream and 15 km downstream in 4 hours 15 minutes. What is the speed of boat in still water?

Options :

- 1. ✖ 8 km/h
- 2. ✔ 9 km/h
- 3. ✖ 10 km/h
- 4. ✖ 12 km/h

Question Number : 57 Question Id : 16794318020 Question Type : MCQ Option Shuffling : Yes Display Question Number : Yes
Single Line Question Option : No Option Orientation : Vertical

Correct Marks : 1 Wrong Marks : 0.25

एक नाव 4 घंटे में 15 km धारा-प्रतिकूल (अपस्ट्रीम) और 18 km धारा-अनूकूल (डाउनस्ट्रीम) जा सकती है। इसके अलावा, यह 4 घंटे 15 मिनट में 18 km अपस्ट्रीम और 15 km डाउनस्ट्रीम जा सकती है। स्थिर पानी में नाव की गति क्या है?

Options :

1. ✖ 8 km/h
2. ✔ 9 km/h
3. ✖ 10 km/h
4. ✖ 12 km/h

Question Number : 58 Question Id : 16794318021 Question Type : MCQ Option Shuffling : Yes Display Question Number : Yes
Single Line Question Option : No Option Orientation : Vertical

Correct Marks : 1 Wrong Marks : 0.25

A train covers 40 km in 45 minutes and next 60 km in 80 minutes. What is its average speed for whole journey in km/h?

Options :

1. ✔ 48
2. ✖ 50
3. ✖ 54
4. ✖ 60

Question Number : 58 Question Id : 16794318021 Question Type : MCQ Option Shuffling : Yes Display Question Number : Yes
Single Line Question Option : No Option Orientation : Vertical

Correct Marks : 1 Wrong Marks : 0.25

एक ट्रेन 40 km की दूरी 45 मिनट में और अगली 60 km दूरी 80 मिनट में तय करती है। पूरी यात्रा के लिए इसकी औसत गति km/h में क्या है?

Options :

1. ✔ 48
2. ✖ 50
3. ✖ 54
4. ✖ 60

Sub-Section Number:	2
Sub-Section Id:	1679431143
Question Shuffling Allowed :	Yes

Question Id : 16794318022 Question Type : COMPREHENSION Sub Question Shuffling Allowed : Yes Group Comprehension
Questions : No

Question Numbers : (59 to 60)

Question Label : Comprehension

The following tables gives the marks obtained by students in a test out of 50 marks.

Class interval of Marks	0-10	10-20	20-30	30-40	40-50
No. of students	5	10	20	25	10


Read the table and answer following questions


Sub questions


Question Number : 59 Question Id : 16794318023 Question Type : MCQ Option Shuffling : Yes Display Question Number : Yes
Single Line Question Option : No Option Orientation : Vertical
Correct Marks : 1 Wrong Marks : 0.25


What is the mean mark obtained by students?

Options :

1.  $\frac{200}{7}$

2.  $\frac{198}{7}$

3.  $\frac{195}{7}$

4.  $\frac{192}{7}$

Question Number : 60 Question Id : 16794318024 Question Type : MCQ Option Shuffling : Yes Display Question Number : Yes
Single Line Question Option : No Option Orientation : Vertical
Correct Marks : 1 Wrong Marks : 0.25

If above information is represented as pie chart, what is the central angle of the sector represents the number of students getting marks more than 40 correct to nearest whole degree?

Options :

1.  26°

2. ✓ 51°

3. ✗ 58°

4. ✗ 62°

Question Id : 16794318022 Question Type : COMPREHENSION Sub Question Shuffling Allowed : Yes Group Comprehension Questions : No

Question Numbers : (59 to 60)

Question Label : Comprehension

निम्नलिखित तालिका एक परीक्षा में छात्रों द्वारा 50 अंकों में से प्राप्तांक दर्शाती है।

वर्ग अंतराल	0-10	10-20	20-30	30-40	40-50
छात्रों की संख्या	5	10	20	25	10

तालिका पढ़कर निम्नलिखित प्रश्नों के उत्तर दें।

Sub questions

Question Number : 59 Question Id : 16794318023 Question Type : MCQ Option Shuffling : Yes Display Question Number : Yes Single Line Question Option : No Option Orientation : Vertical

Correct Marks : 1 Wrong Marks : 0.25

छात्रों द्वारा प्राप्त माध्य अंक क्या है?

Options :

1. ✓ $\frac{200}{7}$

2. ✗ $\frac{198}{7}$

3. ✗ $\frac{195}{7}$

4. ✗ $\frac{192}{7}$

Question Number : 60 Question Id : 16794318024 Question Type : MCQ Option Shuffling : Yes Display Question Number : Yes Single Line Question Option : No Option Orientation : Vertical

Correct Marks : 1 Wrong Marks : 0.25

यदि उपर्युक्त जानकारी पाई चार्ट के रूप में दर्शायी जाती है, तो 40 से अधिक अंक प्राप्त करने वाले छात्रों की संख्या दर्शाने वाले क्षेत्र का केंद्रीय कोण (निकटतम पूर्ण डिग्री में) क्या है?

Options :

1. ✖ 26°

2. ✔ 51°

3. ✖ 58°

4. ✖ 62°

General English

Group Number :	4
Group Id :	167943667
Group Maximum Duration :	0
Group Minimum Duration :	0
Revisit allowed for view? :	No
Revisit allowed for edit? :	No
Break time:	0
Group Marks:	20
Revisit allowed for group Instructions? :	Yes
Maximum Instruction Time:	0
Minimum Instruction Time:	0

General English

Section Id :	167943732
Section Number :	1
Section type :	Online
Mandatory or Optional:	Mandatory
Number of Questions:	16
Number of Questions to be attempted:	16
Section Marks:	20
Display Number Panel:	Yes
Group All Questions:	No

Sub-Section Number:	1
Sub-Section Id:	1679431144
Question Shuffling Allowed :	Yes

Correct Marks : 1 Wrong Marks : 0.25

One of the options from below is a complete sentence.
Identify it.

Options :

1. ✖ Now and then
2. ✖ The child in bed
3. ✖ Bread and Butter
4. ✔ He shut the door

Question Number : 61 Question Id : 16794318025 Question Type : MCQ Option Shuffling : Yes Display Question Number : Yes
Single Line Question Option : No Option Orientation : Vertical

Correct Marks : 1 Wrong Marks : 0.25

One of the options from below is a complete sentence.
Identify it.

Options :

1. ✖ Now and then
2. ✖ The child in bed
3. ✖ Bread and Butter
4. ✔ He shut the door

Question Number : 62 Question Id : 16794318026 Question Type : MCQ Option Shuffling : Yes Display Question Number : Yes
Single Line Question Option : No Option Orientation : Vertical

Correct Marks : 1 Wrong Marks : 0.25

Choose a suitable ending for this sentence.

He sprinted all the way but _____.

Options :

1. ✖ he caught the bus
2. ✖ he caught a cold
3. ✖ he laughed
4. ✔ he missed the bus

Question Number : 62 Question Id : 16794318026 Question Type : MCQ Option Shuffling : Yes Display Question Number : Yes
Single Line Question Option : No Option Orientation : Vertical

Correct Marks : 1 Wrong Marks : 0.25

Choose a suitable ending for this sentence.

He sprinted all the way but _____.

Options :

1. ✖ he caught the bus
2. ✖ he caught a cold
3. ✖ he laughed
4. ✔ he missed the bus

Question Number : 63 Question Id : 16794318027 Question Type : MCQ Option Shuffling : Yes Display Question Number : Yes
Single Line Question Option : No Option Orientation : Vertical

Correct Marks : 1 Wrong Marks : 0.25

Which sentence is most appropriate grammatically?

Options :

1. ✖ I went to the grocer but I bought some toffees and I dropped them on the way home.
2. ✔ I went to the grocer and I bought some toffees but I dropped them on the way home.
3. ✖ I went to the grocer and I bought some toffees or I dropped them on the way home.
4. ✖ I went to the grocer and I bought some toffees and I dropped them on the way home.

Question Number : 63 Question Id : 16794318027 Question Type : MCQ Option Shuffling : Yes Display Question Number : Yes
Single Line Question Option : No Option Orientation : Vertical

Correct Marks : 1 Wrong Marks : 0.25

Which sentence is most appropriate grammatically?

Options :

1. ✖ I went to the grocer but I bought some toffees and I dropped them on the way home.

I went to the grocer and I bought some toffees but
2. ☒ I dropped them on the way home.

I went to the grocer and I bought some toffees or
3. ☐ I dropped them on the way home.

I went to the grocer and I bought some toffees and
4. ☐ I dropped them on the way home.

Question Number : 64 Question Id : 16794318028 Question Type : MCQ Option Shuffling : Yes Display Question Number : Yes
Single Line Question Option : No Option Orientation : Vertical
Correct Marks : 1 Wrong Marks : 0.25

Fill in the blank with the most appropriate option.

What would you do if it _____ on the day of your engagement?

Options :

- 1. ☒ rained
- 2. ☐ would rain
- 3. ☐ will rain
- 4. ☐ rain

Question Number : 64 Question Id : 16794318028 Question Type : MCQ Option Shuffling : Yes Display Question Number : Yes
Single Line Question Option : No Option Orientation : Vertical
Correct Marks : 1 Wrong Marks : 0.25

Fill in the blank with the most appropriate option.

What would you do if it _____ on the day of your engagement?

Options :

- 1. ☒ rained
- 2. ☐ would rain
- 3. ☐ will rain
- 4. ☐ rain

Question Number : 65 Question Id : 16794318029 Question Type : MCQ Option Shuffling : Yes Display Question Number : Yes
Single Line Question Option : No Option Orientation : Vertical
Correct Marks : 1 Wrong Marks : 0.25

Fill in the blank with the most appropriate option.

My little nephew dislikes _____ his hair brushed.

Options :

1. ✖ to had
2. ✔ having
3. ✖ had
4. ✖ have

Question Number : 65 Question Id : 16794318029 Question Type : MCQ Option Shuffling : Yes Display Question Number : Yes
Single Line Question Option : No Option Orientation : Vertical

Correct Marks : 1 Wrong Marks : 0.25

Fill in the blank with the most appropriate option.

My little nephew dislikes _____ his hair brushed.

Options :

1. ✖ to had
2. ✔ having
3. ✖ had
4. ✖ have

Question Number : 66 Question Id : 16794318030 Question Type : MCQ Option Shuffling : Yes Display Question Number : Yes
Single Line Question Option : No Option Orientation : Vertical

Correct Marks : 1 Wrong Marks : 0.25

"Where is it?" said Maria. The reported speech of this sentence is:
Maria _____

Options :

1. ✖ said where it is.
2. ✔ asked where it was.
3. ✖ asked if it was there.
4. ✖ asked whether it was there.

Question Number : 66 Question Id : 16794318030 Question Type : MCQ Option Shuffling : Yes Display Question Number : Yes
Single Line Question Option : No Option Orientation : Vertical

Correct Marks : 1 Wrong Marks : 0.25

"Where is it?" said Maria. The reported speech of this sentence is:
Maria _____

Options :

1. ✗ said where it is.
2. ✓ asked where it was.
3. ✗ asked if it was there.
4. ✗ asked whether it was there.

Question Number : 67 Question Id : 16794318031 Question Type : MCQ Option Shuffling : Yes Display Question Number : Yes
Single Line Question Option : No Option Orientation : Vertical

Correct Marks : 1 Wrong Marks : 0.25

Provide the appropriate question tag for the question given below:

We must lock the gate, _____

Options :

1. ✗ mustn't they?
2. ✗ shouldn't we?
3. ✓ mustn't we?
4. ✗ oughtn't we?

Question Number : 67 Question Id : 16794318031 Question Type : MCQ Option Shuffling : Yes Display Question Number : Yes
Single Line Question Option : No Option Orientation : Vertical

Correct Marks : 1 Wrong Marks : 0.25

Provide the appropriate question tag for the question given below:

We must lock the gate, _____

Options :

1. ✗ mustn't they?
2. ✗ shouldn't we?
3. ✓ mustn't we?
4. ✗ oughtn't we?

Question Number : 68 Question Id : 16794318032 Question Type : MCQ Option Shuffling : Yes Display Question Number : Yes
Single Line Question Option : No Option Orientation : Vertical

Correct Marks : 1 Wrong Marks : 0.25

Provide the appropriate synonym for the underlined word in the sentence given below:

She will initiate the process.

Options :

1. ✖ Conclude
2. ✖ Discontinue
3. ✖ Intimate
4. ✔ Commence

Question Number : 68 Question Id : 16794318032 Question Type : MCQ Option Shuffling : Yes Display Question Number : Yes
Single Line Question Option : No Option Orientation : Vertical

Correct Marks : 1 Wrong Marks : 0.25

Provide the appropriate synonym for the underlined word in the sentence given below:

She will initiate the process.

Options :

1. ✖ Conclude
2. ✖ Discontinue
3. ✖ Intimate
4. ✔ Commence

Question Number : 69 Question Id : 16794318033 Question Type : MCQ Option Shuffling : Yes Display Question Number : Yes
Single Line Question Option : No Option Orientation : Vertical

Correct Marks : 1 Wrong Marks : 0.25

Provide the appropriate synonym for the underlined word in the sentence given below:

The object hovered over us.

Options :

1. ✔ floated
2. ✖ waned
3. ✖ declined

4. ✖ rejected

Question Number : 69 Question Id : 16794318033 Question Type : MCQ Option Shuffling : Yes Display Question Number : Yes
Single Line Question Option : No Option Orientation : Vertical

Correct Marks : 1 Wrong Marks : 0.25

Provide the appropriate synonym for the underlined word in the sentence given below:

The object hovered over us.

Options :

1. ✔ floated

2. ✖ waned

3. ✖ declined

4. ✖ rejected

Question Number : 70 Question Id : 16794318034 Question Type : MCQ Option Shuffling : Yes Display Question Number : Yes
Single Line Question Option : No Option Orientation : Vertical

Correct Marks : 1 Wrong Marks : 0.25

Provide the appropriate synonym for the underlined word in the sentence given below:

The boys strolled across the hall.

Options :

1. ✔ wandered

2. ✖ stooped

3. ✖ stopped

4. ✖ galloped

Question Number : 70 Question Id : 16794318034 Question Type : MCQ Option Shuffling : Yes Display Question Number : Yes
Single Line Question Option : No Option Orientation : Vertical

Correct Marks : 1 Wrong Marks : 0.25

Provide the appropriate synonym for the underlined word in the sentence given below:

The boys strolled across the hall.

Options :

1. ✔ wandered

- 2. ✖ stooped
- 3. ✖ stopped
- 4. ✖ galloped

Question Number : 71 Question Id : 16794318035 Question Type : MCQ Option Shuffling : Yes Display Question Number : Yes
Single Line Question Option : No Option Orientation : Vertical
Correct Marks : 1 Wrong Marks : 0.25

Provide the appropriate antonym for the underlined word in the sentence given below:

His colossal frame stood out among the contestants.

Options :

- 1. ✖ ample
- 2. ✖ veteran
- 3. ✔ petite
- 4. ✖ broad

Question Number : 71 Question Id : 16794318035 Question Type : MCQ Option Shuffling : Yes Display Question Number : Yes
Single Line Question Option : No Option Orientation : Vertical
Correct Marks : 1 Wrong Marks : 0.25

Provide the appropriate antonym for the underlined word in the sentence given below:

His colossal frame stood out among the contestants.

Options :

- 1. ✖ ample
- 2. ✖ veteran
- 3. ✔ petite
- 4. ✖ broad

Question Number : 72 Question Id : 16794318036 Question Type : MCQ Option Shuffling : Yes Display Question Number : Yes
Single Line Question Option : No Option Orientation : Vertical
Correct Marks : 1 Wrong Marks : 0.25

Provide the appropriate antonym for the underlined word in the sentence given below:

The currency recovered was counterfeit.

Options :

1. ✖ improper
2. ✖ unsuitable
3. ✖ rapid
4. ✔ valid

Question Number : 72 Question Id : 16794318036 Question Type : MCQ Option Shuffling : Yes Display Question Number : Yes
Single Line Question Option : No Option Orientation : Vertical

Correct Marks : 1 Wrong Marks : 0.25

Provide the appropriate antonym for the underlined word in the sentence given below:

The currency recovered was counterfeit.

Options :

1. ✖ improper
2. ✖ unsuitable
3. ✖ rapid
4. ✔ valid

Question Number : 73 Question Id : 16794318037 Question Type : MCQ Option Shuffling : Yes Display Question Number : Yes
Single Line Question Option : No Option Orientation : Vertical

Correct Marks : 1 Wrong Marks : 0.25

Provide the appropriate antonym for the underlined word in the sentence given below:

His conventional methods were appreciated.

Options :

1. ✖ run-of-the-mill
2. ✔ uncommon
3. ✖ plain
4. ✖ nonexistent

Question Number : 73 Question Id : 16794318037 Question Type : MCQ Option Shuffling : Yes Display Question Number : Yes
Single Line Question Option : No Option Orientation : Vertical

Correct Marks : 1 Wrong Marks : 0.25

Provide the appropriate antonym for the underlined word in the sentence given below:

His conventional methods were appreciated.

Options :

1. ✖ run-of-the-mill
2. ✔ uncommon
3. ✖ plain
4. ✖ nonexistent

Question Number : 74 Question Id : 16794318038 Question Type : MCQ Option Shuffling : Yes Display Question Number : Yes
Single Line Question Option : No Option Orientation : Vertical

Correct Marks : 1 Wrong Marks : 0.25

Fill in the blank with the most appropriate option.

Mani lives in New York, _____ his brother lives in California.

Options :

1. ✖ unless
2. ✔ while
3. ✖ despite
4. ✖ if

Question Number : 74 Question Id : 16794318038 Question Type : MCQ Option Shuffling : Yes Display Question Number : Yes
Single Line Question Option : No Option Orientation : Vertical

Correct Marks : 1 Wrong Marks : 0.25

Fill in the blank with the most appropriate option.

Mani lives in New York, _____ his brother lives in California.

Options :

1. ✖ unless
2. ✔ while
3. ✖ despite
4. ✖ if



Question Number : 75 Question Id : 16794318039 Question Type : MCQ Option Shuffling : Yes Display Question Number : Yes
Single Line Question Option : No Option Orientation : Vertical

Correct Marks : 1 Wrong Marks : 0.25

Fill in the blank with the most appropriate option.

I did not have the correct visa. _____, I could not enter Romania.

Options :

1.  consequently
2.  because
3.  although
4.  even though





Question Number : 75 Question Id : 16794318039 Question Type : MCQ Option Shuffling : Yes Display Question Number : Yes
Single Line Question Option : No Option Orientation : Vertical

Correct Marks : 1 Wrong Marks : 0.25

Fill in the blank with the most appropriate option.

I did not have the correct visa. _____, I could not enter Romania.

Options :

1.  consequently
2.  because
3.  although
4.  even though

Sub-Section Number:	2
Sub-Section Id:	1679431145
Question Shuffling Allowed :	Yes

Question Id : 16794318040 Question Type : COMPREHENSION Sub Question Shuffling Allowed : Yes Group Comprehension
Questions : No

Question Numbers : (76 to 80)

Question Label : Comprehension

Provide the appropriate tense form the verbs in brackets.

Anjali _____ (lose) her keys. She doesn't have them with her now. Robin too _____ (misplace) his keys, but presently has the keys in his pocket. Many of our friends _____ (forget) stuff. While you are reading this passage, many people _____ (try) to find ways to get rid of this problem. It _____ (become) a universal problem with stress being a major cause for it.

Sub questions

Question Number : 76 Question Id : 16794318041 Question Type : MCQ Option Shuffling : Yes Display Question Number : Yes
Single Line Question Option : No Option Orientation : Vertical
Correct Marks : 1 Wrong Marks : 0.25

lose

Options :

1. ✖ lost
2. ✔ has lost
3. ✖ has been losing
4. ✖ loose

Question Number : 77 Question Id : 16794318042 Question Type : MCQ Option Shuffling : Yes Display Question Number : Yes
Single Line Question Option : No Option Orientation : Vertical
Correct Marks : 1 Wrong Marks : 0.25

misplace

Options :

1. ✖ have misplaced
2. ✔ misplaced
3. ✖ Has misplaced
4. ✖ misplacing

Question Number : 78 Question Id : 16794318043 Question Type : MCQ Option Shuffling : Yes Display Question Number : Yes
Single Line Question Option : No Option Orientation : Vertical
Correct Marks : 1 Wrong Marks : 0.25

forget

Options :

1. ✖ Forgotten

2. ✖ Has forgotten

3. ✖ forgot

4. ✔ forget

Question Number : 79 Question Id : 16794318044 Question Type : MCQ Option Shuffling : Yes Display Question Number : Yes
Single Line Question Option : No Option Orientation : Vertical

Correct Marks : 1 Wrong Marks : 0.25

try

Options :

1. ✖ tried

2. ✖ try

3. ✖ have been trying

4. ✔ are trying

Question Number : 80 Question Id : 16794318045 Question Type : MCQ Option Shuffling : Yes Display Question Number : Yes
Single Line Question Option : No Option Orientation : Vertical

Correct Marks : 1 Wrong Marks : 0.25

become

Options :

1. ✖ have become

2. ✖ became

3. ✔ has become

4. ✖ will become

Question Id : 16794318040 Question Type : COMPREHENSION Sub Question Shuffling Allowed : Yes Group Comprehension
Questions : No

Question Numbers : (76 to 80)

Question Label : Comprehension

Provide the appropriate tense form the verbs in brackets.

Anjali _____ (lose) her keys. She doesn't have them with her now. Robin too _____ (misplace) his keys, but presently has the keys in his pocket. Many of our friends _____ (forget) stuff. While you are reading this passage, many people _____ (try) to find ways to get rid of this problem. It _____ (become) a universal problem with stress being a major cause for it.

Sub questions

Question Number : 76 Question Id : 16794318041 Question Type : MCQ Option Shuffling : Yes Display Question Number : Yes
Single Line Question Option : No Option Orientation : Vertical

Correct Marks : 1 Wrong Marks : 0.25

lose

Options :

1. ✖ lost
2. ✔ has lost
3. ✖ has been losing
4. ✖ loose

Question Number : 77 Question Id : 16794318042 Question Type : MCQ Option Shuffling : Yes Display Question Number : Yes
Single Line Question Option : No Option Orientation : Vertical

Correct Marks : 1 Wrong Marks : 0.25

misplace

Options :

1. ✖ have misplaced
2. ✔ misplaced
3. ✖ Has misplaced
4. ✖ misplacing

Question Number : 78 Question Id : 16794318043 Question Type : MCQ Option Shuffling : Yes Display Question Number : Yes
Single Line Question Option : No Option Orientation : Vertical

Correct Marks : 1 Wrong Marks : 0.25

forget

Options :

1. ✖ Forgotten

2. ✖ Has forgotten

3. ✖ forgot

4. ✔ forget

Question Number : 79 Question Id : 16794318044 Question Type : MCQ Option Shuffling : Yes Display Question Number : Yes
Single Line Question Option : No Option Orientation : Vertical

Correct Marks : 1 Wrong Marks : 0.25

try

Options :

1. ✖ tried

2. ✖ try

3. ✖ have been trying

4. ✔ are trying

Question Number : 80 Question Id : 16794318045 Question Type : MCQ Option Shuffling : Yes Display Question Number : Yes
Single Line Question Option : No Option Orientation : Vertical

Correct Marks : 1 Wrong Marks : 0.25

become

Options :

1. ✖ have become

2. ✖ became

3. ✔ has become

4. ✖ will become

General Hindi

Group Number :	5
Group Id :	167943668
Group Maximum Duration :	0
Group Minimum Duration :	0
Revisit allowed for view? :	No
Revisit allowed for edit? :	No
Break time:	0
Group Marks:	20
Revisit allowed for group Instructions? :	Yes

Maximum Instruction Time: 0
Minimum Instruction Time: 0

General Hindi

Section Id : 167943733
Section Number : 1
Section type : Online
Mandatory or Optional: Mandatory
Number of Questions: 16
Number of Questions to be attempted: 16
Section Marks: 20
Display Number Panel: Yes
Group All Questions: No

Sub-Section Number: 1
Sub-Section Id: 1679431146
Question Shuffling Allowed : Yes

Question Id : 16794318046 Question Type : COMPREHENSION Sub Question Shuffling Allowed : Yes Group Comprehension Questions : No

Question Numbers : (81 to 85)

Question Label : Comprehension

नीचे दिये गए गद्यांश को पढ़कर पूछे गये प्रश्नों के उत्तर दीजिए।

रामचंद्र शुक्ल के निबंध पं महावीरप्रसाद द्विवेदी द्वारा संपादित सरस्वती में छपने लगे थे। उन्होंने निबंध में प्रस्तुत सूत्रों की उपमा पत्ते की नसों से दी है, जो परस्पर गुँथी होती हैं। शुक्ल जी के अधिकांश प्रसिद्ध निबंध मनोविकारों पर हैं। उन्होंने भारतेंदु, प्रेमघन, फ्रेडरिक पिंकाट पर भी लिखा है, लेकिन वे या तो व्यक्तित्व कृतित्व का परिचय देने वाले हैं, या संस्मरण या जीवनी परक। निबंधकार के रूप में शुक्ल जी का योगदान मनोविकार संबंधी निबंधों के कारण है। इन निबंधों का संग्रह पहले विचार-वीथी के नाम से 1930 ई में प्रकाशित हुआ था। बाद में चिन्तामणि (पहला भाग) नाम से 1939 ई में परिवर्धित और संशोधित संस्करण प्रकाशित हुआ।

Sub questions

Question Number : 81 Question Id : 16794318047 Question Type : MCQ Option Shuffling : Yes Display Question Number : Yes
Single Line Question Option : No Option Orientation : Vertical
Correct Marks : 1 Wrong Marks : 0.25

सरस्वती के संपादक कौन थे?

Options :

1. ✖ रामचन्द्र शुक्ल
2. ✔ महावीर प्रसाद द्विवेदी
3. ✖ हजारी प्रसाद द्विवेदी
4. ✖ जयशंकर प्रसाद

Question Number : 82 Question Id : 16794318048 Question Type : MCQ Option Shuffling : Yes Display Question Number : Yes
Single Line Question Option : No Option Orientation : Vertical

Correct Marks : 1 Wrong Marks : 0.25

शुक्ल जी के अधिकांश निबंध किससे सम्बंधित हैं:

Options :

1. ✖ इतिहास
2. ✖ दर्शन
3. ✔ मनोविकार
4. ✖ समाजशास्त्र

Question Number : 83 Question Id : 16794318049 Question Type : MCQ Option Shuffling : Yes Display Question Number : Yes
Single Line Question Option : No Option Orientation : Vertical

Correct Marks : 1 Wrong Marks : 0.25

शुक्ल जी के निबंधों का संग्रह पहले किस नाम से प्रकाशित हुआ था?

Options :

1. ✔ विचार-वीथी
2. ✖ विचार सागर
3. ✖ चिंतामणि
4. ✖ चिंता सागर

Question Number : 84 Question Id : 16794318050 Question Type : MCQ Option Shuffling : Yes Display Question Number : Yes
Single Line Question Option : No Option Orientation : Vertical

Correct Marks : 1 Wrong Marks : 0.25

चिंतामणि (पहला भाग) कब प्रकाशित हुआ?

Options :

1. ✖ 1930 ई

2. ✖ 1933 ई

3. ✖ 1936 ई

4. ✔ 1939 ई

Question Number : 85 Question Id : 16794318051 Question Type : MCQ Option Shuffling : Yes Display Question Number : Yes
Single Line Question Option : No Option Orientation : Vertical

Correct Marks : 1 Wrong Marks : 0.25

गद्यांश में शुक्ल जी के किस रूप का उल्लेख है?

Options :

1. ✖ कवि

2. ✖ कथाकार

3. ✔ निबंधकार

4. ✖ नाटककार

Question Id : 16794318046 Question Type : COMPREHENSION Sub Question Shuffling Allowed : Yes Group Comprehension
Questions : No

Question Numbers : (81 to 85)

Question Label : Comprehension

नीचे दिये गए गद्यांश को पढ़कर पूछे गये प्रश्नों के उत्तर दीजिए।

रामचंद्र शुक्ल के निबंध पं महावीरप्रसाद द्विवेदी द्वारा संपादित सरस्वती में छपने लगे थे। उन्होंने निबंध में प्रस्तुत सूत्रों की उपमा पत्ते की नसों से दी है, जो परस्पर गुँथी होती हैं। शुक्ल जी के अधिकांश प्रसिद्ध निबंध मनोविकारों पर हैं। उन्होंने भारतेन्दु, प्रेमघन, फ्रेडरिक पिंकाट पर भी लिखा है, लेकिन वे या तो व्यक्तित्व कृतित्व का परिचय देने वाले हैं, या संस्मरण या जीवनी परक। निबंधकार के रूप में शुक्ल जी का योगदान मनोविकार संबंधी निबंधों के कारण है। इन निबंधों का संग्रह पहले विचार-वीथी के नाम से 1930 ई में प्रकाशित हुआ था। बाद में चिन्तामणि (पहला भाग) नाम से 1939 ई में परिवर्धित और संशोधित संस्करण प्रकाशित हुआ।

Sub questions

Question Number : 81 Question Id : 16794318047 Question Type : MCQ Option Shuffling : Yes Display Question Number : Yes
Single Line Question Option : No Option Orientation : Vertical

Correct Marks : 1 Wrong Marks : 0.25

सरस्वती के संपादक कौन थे?

Options :

1. ✖ रामचन्द्र शुक्ल
2. ✔ महावीर प्रसाद द्विवेदी
3. ✖ हजारी प्रसाद द्विवेदी
4. ✖ जयशंकर प्रसाद

Question Number : 82 Question Id : 16794318048 Question Type : MCQ Option Shuffling : Yes Display Question Number : Yes
Single Line Question Option : No Option Orientation : Vertical

Correct Marks : 1 Wrong Marks : 0.25

शुक्ल जी के अधिकांश निबंध किससे सम्बंधित हैं:

Options :

1. ✖ इतिहास

2. ✖ दर्शन

3. ✔ मनोविकार

4. ✖ समाजशास्त्र

Question Number : 83 Question Id : 16794318049 Question Type : MCQ Option Shuffling : Yes Display Question Number : Yes
Single Line Question Option : No Option Orientation : Vertical

Correct Marks : 1 Wrong Marks : 0.25

शुक्ल जी के निबंधों का संग्रह पहले किस नाम से प्रकाशित हुआ था?

Options :

1. ✔ विचार-वीथी

2. ✖ विचार सागर

3. ✖ चिंतामणि

4. ✖ चिंता सागर

Question Number : 84 Question Id : 16794318050 Question Type : MCQ Option Shuffling : Yes Display Question Number : Yes
Single Line Question Option : No Option Orientation : Vertical

Correct Marks : 1 Wrong Marks : 0.25

चिंतामणि (पहला भाग) कब प्रकाशित हुआ?

Options :

1. ✖ 1930 ई

2. ✖ 1933 ई

3. ✖ 1936 ई

4. ✔ 1939 ई

Question Number : 85 Question Id : 16794318051 Question Type : MCQ Option Shuffling : Yes Display Question Number : Yes
Single Line Question Option : No Option Orientation : Vertical

Correct Marks : 1 Wrong Marks : 0.25

गद्यांश में शुक्ल जी के किस रूप का उल्लेख है?

Options :

1. ✖ कवि
2. ✖ कथाकार
3. ✔ निबंधकार
4. ✖ नाटककार

Sub-Section Number: 2
Sub-Section Id: 1679431147
Question Shuffling Allowed : Yes

Question Number : 86 Question Id : 16794318052 Question Type : MCQ Option Shuffling : Yes Display Question Number : Yes
Single Line Question Option : No Option Orientation : Vertical

Correct Marks : 1 Wrong Marks : 0.25

निम्न में तत्सम शब्द कौन सा है?

Options :

1. ✖ नीबू
2. ✖ नीम
3. ✖ नेवला
4. ✔ लवण

Question Number : 86 Question Id : 16794318052 Question Type : MCQ Option Shuffling : Yes Display Question Number : Yes
Single Line Question Option : No Option Orientation : Vertical

Correct Marks : 1 Wrong Marks : 0.25

निम्न में तत्सम शब्द कौन सा है?

Options :

1. ✖ नीबू
2. ✖ नीम
3. ✖ नेवला
4. ✔ लवण

Question Number : 87 Question Id : 16794318053 Question Type : MCQ Option Shuffling : Yes Display Question Number : Yes
Single Line Question Option : No Option Orientation : Vertical

Correct Marks : 1 Wrong Marks : 0.25

निम्न में कौन सा शब्द तद्रव है?

Options :

1. ☒ तलवार
2. ☐ ताम्र
3. ☐ शिथिल
4. ☐ धृष्ट

Question Number : 87 Question Id : 16794318053 Question Type : MCQ Option Shuffling : Yes Display Question Number : Yes
Single Line Question Option : No Option Orientation : Vertical

Correct Marks : 1 Wrong Marks : 0.25

निम्न में कौन सा शब्द तद्रव है?

Options :

1. ☒ तलवार
2. ☐ ताम्र
3. ☐ शिथिल
4. ☐ धृष्ट

Question Number : 88 Question Id : 16794318054 Question Type : MCQ Option Shuffling : Yes Display Question Number : Yes
Single Line Question Option : No Option Orientation : Vertical

Correct Marks : 1 Wrong Marks : 0.25

निम्न में कौन सा शब्द देशज है?

Options :

1. ☐ अफसोस
2. ☒ तेंदुआ
3. ☐ अदा
4. ☐ अपील

Question Number : 88 Question Id : 16794318054 Question Type : MCQ Option Shuffling : Yes Display Question Number : Yes
Single Line Question Option : No Option Orientation : Vertical

Correct Marks : 1 Wrong Marks : 0.25

निम्न में कौन सा शब्द देशज है?

Options :

1. ✖ अफसोस
2. ✔ तेंदुआ
3. ✖ अदा
4. ✖ अपील

Question Number : 89 Question Id : 16794318055 Question Type : MCQ Option Shuffling : Yes Display Question Number : Yes
Single Line Question Option : No Option Orientation : Vertical
Correct Marks : 1 Wrong Marks : 0.25

‘शीतलता’ किस प्रकार की संज्ञा है?

Options :

1. ✖ व्यक्तिवाचक
2. ✖ जातिवाचक
3. ✔ भाववाचक
4. ✖ पदार्थवाचक

Question Number : 89 Question Id : 16794318055 Question Type : MCQ Option Shuffling : Yes Display Question Number : Yes
Single Line Question Option : No Option Orientation : Vertical
Correct Marks : 1 Wrong Marks : 0.25

‘शीतलता’ किस प्रकार की संज्ञा है?

Options :

1. ✖ व्यक्तिवाचक
2. ✖ जातिवाचक
3. ✔ भाववाचक
4. ✖ पदार्थवाचक

Question Number : 90 Question Id : 16794318056 Question Type : MCQ Option Shuffling : Yes Display Question Number : Yes
Single Line Question Option : No Option Orientation : Vertical
Correct Marks : 1 Wrong Marks : 0.25

‘नया’ किस प्रकार का विशेषण है?

Options :

1. ☒ गुणवाचक

2. ☐ परिमाण बोधक

3. ☐ सार्वनामिक

4. ☐ संख्यावाचक

Question Number : 90 Question Id : 16794318056 Question Type : MCQ Option Shuffling : Yes Display Question Number : Yes
Single Line Question Option : No Option Orientation : Vertical

Correct Marks : 1 Wrong Marks : 0.25

‘नया’ किस प्रकार का विशेषण है?

Options :

1. ☒ गुणवाचक

2. ☐ परिमाण बोधक

3. ☐ सार्वनामिक

4. ☐ संख्यावाचक

Question Number : 91 Question Id : 16794318057 Question Type : MCQ Option Shuffling : Yes Display Question Number : Yes
Single Line Question Option : No Option Orientation : Vertical

Correct Marks : 1 Wrong Marks : 0.25

‘अभ्यागत’ का संधि विच्छेद होगा:

Options :

1. ☐ अभि + गत

2. ☒ अभि + आगत

3. ☐ अभ्य + गत

4. ☐ अभ्या + गत

Question Number : 91 Question Id : 16794318057 Question Type : MCQ Option Shuffling : Yes Display Question Number : Yes
Single Line Question Option : No Option Orientation : Vertical

Correct Marks : 1 Wrong Marks : 0.25

‘अभ्यागत’ का संधि विच्छेद होगा:

Options :

1. ✖ अभि + गत
2. ✔ अभि + आगत
3. ✖ अभ्य + गत
4. ✖ अभ्या + गत

Question Number : 92 Question Id : 16794318058 Question Type : MCQ Option Shuffling : Yes Display Question Number : Yes
Single Line Question Option : No Option Orientation : Vertical

Correct Marks : 1 Wrong Marks : 0.25

‘बखूबी’ में कौन सा समास है?

Options :

1. ✖ तत्पुरुष
2. ✖ द्वंद्व
3. ✖ द्विगु
4. ✔ अव्ययीभाव

Question Number : 92 Question Id : 16794318058 Question Type : MCQ Option Shuffling : Yes Display Question Number : Yes
Single Line Question Option : No Option Orientation : Vertical

Correct Marks : 1 Wrong Marks : 0.25

‘बखूबी’ में कौन सा समास है?

Options :

1. ✖ तत्पुरुष
2. ✖ द्वंद्व
3. ✖ द्विगु
4. ✔ अव्ययीभाव

Question Number : 93 Question Id : 16794318059 Question Type : MCQ Option Shuffling : Yes Display Question Number : Yes
Single Line Question Option : No Option Orientation : Vertical

Correct Marks : 1 Wrong Marks : 0.25

निम्न में से कौन सा शब्द स्त्रीलिंग है?

Options :

1. ✖ हुंकार
2. ✖ हक
3. ✔ हकीकत
4. ✖ हड़कम्प

Question Number : 93 Question Id : 16794318059 Question Type : MCQ Option Shuffling : Yes Display Question Number : Yes
Single Line Question Option : No Option Orientation : Vertical

Correct Marks : 1 Wrong Marks : 0.25

निम्न में से कौन सा शब्द स्त्रीलिंग है?

Options :

1. ✖ हुंकार
2. ✖ हक
3. ✔ हकीकत
4. ✖ हड़कम्प

Question Number : 94 Question Id : 16794318060 Question Type : MCQ Option Shuffling : Yes Display Question Number : Yes
Single Line Question Option : No Option Orientation : Vertical

Correct Marks : 1 Wrong Marks : 0.25

‘संकल्प’ में उपसर्ग है?

Options :

1. ✖ स
2. ✔ सम्
3. ✖ सन्
4. ✖ कल्प

Question Number : 94 Question Id : 16794318060 Question Type : MCQ Option Shuffling : Yes Display Question Number : Yes
Single Line Question Option : No Option Orientation : Vertical

Correct Marks : 1 Wrong Marks : 0.25

‘संकल्प’ में उपसर्ग है?

Options :

1. ✖ स
2. ✔ सम्
3. ✖ सन्
4. ✖ कल्प

Question Number : 95 Question Id : 16794318061 Question Type : MCQ Option Shuffling : Yes Display Question Number : Yes
Single Line Question Option : No Option Orientation : Vertical

Correct Marks : 1 Wrong Marks : 0.25

‘आग्नेय’ में प्रत्यय है:

Options :

1. ✔ एय
2. ✖ नेय
3. ✖ अय
4. ✖ य

Question Number : 95 Question Id : 16794318061 Question Type : MCQ Option Shuffling : Yes Display Question Number : Yes
Single Line Question Option : No Option Orientation : Vertical

Correct Marks : 1 Wrong Marks : 0.25

‘आग्नेय’ में प्रत्यय है:

Options :

1. ✔ एय
2. ✖ नेय
3. ✖ अय
4. ✖ य

Question Number : 96 Question Id : 16794318062 Question Type : MCQ Option Shuffling : Yes Display Question Number : Yes
Single Line Question Option : No Option Orientation : Vertical

Correct Marks : 1 Wrong Marks : 0.25

‘अनुपम’ का पर्याय नहीं है:

Options :

1. ✖ अपूर्व
2. ✖ अनोखा
3. ✖ अनूठा
4. ✔ मनोहर

Question Number : 96 Question Id : 16794318062 Question Type : MCQ Option Shuffling : Yes Display Question Number : Yes
Single Line Question Option : No Option Orientation : Vertical

Correct Marks : 1 Wrong Marks : 0.25

‘अनुपम’ का पर्याय नहीं है:

Options :

1. ✖ अपूर्व
2. ✖ अनोखा
3. ✖ अनूठा
4. ✔ मनोहर

Question Number : 97 Question Id : 16794318063 Question Type : MCQ Option Shuffling : Yes Display Question Number : Yes
Single Line Question Option : No Option Orientation : Vertical

Correct Marks : 1 Wrong Marks : 0.25

‘आगत’ का विलोम होगा:

Options :

1. ✖ गत
2. ✖ विगत
3. ✔ अनागत
4. ✖ स्वागत

Question Number : 97 Question Id : 16794318063 Question Type : MCQ Option Shuffling : Yes Display Question Number : Yes
Single Line Question Option : No Option Orientation : Vertical

Correct Marks : 1 Wrong Marks : 0.25

‘आगत’ का विलोम होगा:

Options :

1. ✖ गत
2. ✖ विगत
3. ✔ अनागत
4. ✖ स्वागत

Question Number : 98 Question Id : 16794318064 Question Type : MCQ Option Shuffling : Yes Display Question Number : Yes
Single Line Question Option : No Option Orientation : Vertical

Correct Marks : 1 Wrong Marks : 0.25

‘गोद में स्थान पाया हुआ’ के लिए एक शब्द होगा:

Options :

1. ✖ अंकशायी
2. ✔ अंकस्थ
3. ✖ अंडज
4. ✖ पाल्य

Question Number : 98 Question Id : 16794318064 Question Type : MCQ Option Shuffling : Yes Display Question Number : Yes
Single Line Question Option : No Option Orientation : Vertical

Correct Marks : 1 Wrong Marks : 0.25

‘गोद में स्थान पाया हुआ’ के लिए एक शब्द होगा:

Options :

1. ✖ अंकशायी
2. ✔ अंकस्थ
3. ✖ अंडज
4. ✖ पाल्य

Question Number : 99 Question Id : 16794318065 Question Type : MCQ Option Shuffling : Yes Display Question Number : Yes
Single Line Question Option : No Option Orientation : Vertical

Correct Marks : 1 Wrong Marks : 0.25

‘धन के रहित जीवन व्यर्थ है।’ वाक्य में अशुद्ध अंश है:

Options :

1. ✓ धन के रहित

2. ✗ जीवन

3. ✗ व्यर्थ

4. ✗ है।

Question Number : 99 Question Id : 16794318065 Question Type : MCQ Option Shuffling : Yes Display Question Number : Yes
Single Line Question Option : No Option Orientation : Vertical

Correct Marks : 1 Wrong Marks : 0.25

‘धन के रहित जीवन व्यर्थ है।’ वाक्य में अशुद्ध अंश है:

Options :

1. ✓ धन के रहित

2. ✗ जीवन

3. ✗ व्यर्थ

4. ✗ है।

Question Number : 100 Question Id : 16794318066 Question Type : MCQ Option Shuffling : Yes Display Question Number : Yes
Single Line Question Option : No Option Orientation : Vertical

Correct Marks : 1 Wrong Marks : 0.25

निम्न में कौन सा शब्द वर्तनी की दृष्टि से शुद्ध है?

Options :

1. ✗ पुर्णीमा

2. ✗ पुर्णिमा

3. ✗ पूर्णीमा

4. ✓ पूर्णिमा

Question Number : 100 Question Id : 16794318066 Question Type : MCQ Option Shuffling : Yes Display Question Number : Yes
Single Line Question Option : No Option Orientation : Vertical

Correct Marks : 1 Wrong Marks : 0.25

निम्न में कौन सा शब्द वर्तनी की दृष्टि से शुद्ध है?

Options :

1. ✖ पुर्णीमा
2. ✖ पुर्णिमा
3. ✖ पूर्णीमा
4. ✔ पूर्णिमा

Subject Related

Group Number :	6
Group Id :	167943669
Group Maximum Duration :	0
Group Minimum Duration :	0
Revisit allowed for view? :	No
Revisit allowed for edit? :	No
Break time:	0
Group Marks:	20
Revisit allowed for group Instructions? :	Yes
Maximum Instruction Time:	0
Minimum Instruction Time:	0

Subject Related

Section Id :	167943734
Section Number :	1
Section type :	Online
Mandatory or Optional:	Mandatory
Number of Questions:	20
Number of Questions to be attempted:	20
Section Marks:	20
Display Number Panel:	Yes
Group All Questions:	No

Sub-Section Number:	1
Sub-Section Id:	1679431148
Question Shuffling Allowed :	Yes

Question Number : 101 Question Id : 16794318067 Question Type : MCQ Option Shuffling : Yes Display Question Number : Yes
Single Line Question Option : No Option Orientation : Vertical

Correct Marks : 1 Wrong Marks : 0.25

What does development imply?

Options :

1. ✖ Quantitative changes
2. ✔ Qualitative changes
3. ✖ Unfolding of individual's inherent traits
4. ✖ Increase in height, weight and length

Question Number : 101 Question Id : 16794318067 Question Type : MCQ Option Shuffling : Yes Display Question Number : Yes
Single Line Question Option : No Option Orientation : Vertical

Correct Marks : 1 Wrong Marks : 0.25

विकास का क्या तात्पर्य है?

Options :

1. ✖ मात्रात्मक परिवर्तन
2. ✔ गुणात्मक परिवर्तन
3. ✖ व्यक्ति के अंतर्निहित गुणों का विकास
4. ✖ ऊँचाई, वजन और लंबाई में वृद्धि

Question Number : 102 Question Id : 16794318068 Question Type : MCQ Option Shuffling : Yes Display Question Number : Yes
Single Line Question Option : No Option Orientation : Vertical

Correct Marks : 1 Wrong Marks : 0.25

Who identified four cognitive stages of child development?

Options :

1. ✖ Watson
2. ✖ Skinner
3. ✔ Piaget
4. ✖ Vygotsky

Question Number : 102 Question Id : 16794318068 Question Type : MCQ Option Shuffling : Yes Display Question Number : Yes
Single Line Question Option : No Option Orientation : Vertical

Correct Marks : 1 Wrong Marks : 0.25

बाल विकास के चार संज्ञानात्मक चरणों की पहचान किसने की थी?

Options :

1. ✖ वाटसन
2. ✖ स्किनर
3. ✔ प्याज़े
4. ✖ व्यागोस्की

Question Number : 103 Question Id : 16794318069 Question Type : MCQ Option Shuffling : Yes Display Question Number : Yes
Single Line Question Option : No Option Orientation : Vertical

Correct Marks : 1 Wrong Marks : 0.25

What is prominent for children in the age group of 0 to 2 years?

Options :

1. ✖ They love to talk and listen
2. ✖ They inhibit improvement of verbal ability and develop concepts
3. ✖ They acquire a sense of discipline
4. ✔ They experience the environment through their senses

Question Number : 103 Question Id : 16794318069 Question Type : MCQ Option Shuffling : Yes Display Question Number : Yes
Single Line Question Option : No Option Orientation : Vertical

Correct Marks : 1 Wrong Marks : 0.25

0 से 2 साल के आयु वर्ग के बच्चों के लिए प्रमुख क्या होता है?

Options :

1. ✖ वे बात करना और सुनना पसंद करते हैं
2. ✖ वे मौखिक क्षमता और अवधारणाओं को विकसित में सुधार को रोकते हैं
3. ✖ वे अनुशासन की भावना ग्रहण करते हैं
4. ✔ वे अपने इंद्रियों के माध्यम से पर्यावरण का अनुभव करते हैं

Question Number : 104 Question Id : 16794318070 Question Type : MCQ Option Shuffling : Yes Display Question Number : Yes
Single Line Question Option : No Option Orientation : Vertical

Correct Marks : 1 Wrong Marks : 0.25

Children's needs are broadly classified into:

Options :

1. ✓ 4 types

2. ✗ 3 types

3. ✗ 2 types

4. ✗ 5 types

Question Number : 104 Question Id : 16794318070 Question Type : MCQ Option Shuffling : Yes Display Question Number : Yes
Single Line Question Option : No Option Orientation : Vertical

Correct Marks : 1 Wrong Marks : 0.25

बच्चों की जरूरतों को व्यापक रूप से कितने प्रकार से वर्गीकृत किया जाता है?

Options :

1. ✓ 4 प्रकार

2. ✗ 3 प्रकार

3. ✗ 2 प्रकार

4. ✗ 5 प्रकार

Question Number : 105 Question Id : 16794318071 Question Type : MCQ Option Shuffling : Yes Display Question Number : Yes
Single Line Question Option : No Option Orientation : Vertical

Correct Marks : 1 Wrong Marks : 0.25

What are the major characteristics and developmental changes that are found/occur in the children in the age group of 2 to 7 years?

Options :

1. ✗ Children learn about the world through basic actions such as suckling, grasping

2. ✓ Children begin to think symbolically, and use words and pictures to represent objects

3. ✗ Children begin to understand the concept of conservation

4. ✗ Abstract thoughts emerge in children

Question Number : 105 Question Id : 16794318071 Question Type : MCQ Option Shuffling : Yes Display Question Number : Yes
Single Line Question Option : No Option Orientation : Vertical

Correct Marks : 1 Wrong Marks : 0.25

2 से 7 साल के आयु वर्ग के बच्चों में पाई जाने वाली प्रमुख विशेषताएं और विकासात्मक परिवर्तन क्या होते हैं?

Options :

1. ✖ बच्चे चूसने, पकड़ने जैसी मूल हरकतों से दुनिया के बारे में सीखते हैं

2. ✔

बच्चे प्रतीकात्मक रूप से सोचना शुरू करते हैं, और वस्तुओं को दर्शाने के लिए शब्दों और चित्रों का उपयोग करते हैं

3. ✖ बच्चे संरक्षण की अवधारणा को समझना शुरू करते हैं

4. ✖ बच्चों में अमूर्त विचार उभरते हैं

Question Number : 106 Question Id : 16794318072 Question Type : MCQ Option Shuffling : Yes Display Question Number : Yes
Single Line Question Option : No Option Orientation : Vertical

Correct Marks : 1 Wrong Marks : 0.25

As a teacher, it is necessary for us to understand the easiest way to quantify child poverty by setting an absolute or 'relative monetary threshold'. This 'relative monetary threshold':

Options :

1. ✖ Is fixed and generally only updated for price change

2. ✖ US dollar 1 a day to measure poverty in developing country

3. ✖ Is adjusted for family size and composition to determine the population that is living in poverty

4. ✔ Is developed with reference to the actual income of the population and reflects changes in consumption

Question Number : 106 Question Id : 16794318072 Question Type : MCQ Option Shuffling : Yes Display Question Number : Yes
Single Line Question Option : No Option Orientation : Vertical

Correct Marks : 1 Wrong Marks : 0.25

एक शिक्षक के रूप में, हमारे लिए एक पूर्ण या 'सापेक्ष प्रबोधक सीमारेखा (रिलेटिव मॉनिटरी थ्रेशोल्ड)' सेट करके बाल गरीबी को मापने का सबसे आसान तरीका समझना जरूरी है। यह 'सापेक्ष प्रबोधक सीमारेखा' क्या है?

Options :

1. ✖ क्या यह स्थिर और आम तौर पर केवल मूल्य परिवर्तन के लिए अद्यतन किया जाता है

2. ✖ विकासशील देश में गरीबी को मापने के लिए एक दिन 1 अमेरिकी डॉलर

3. ✖ क्या गरीबी में रहने वाली आबादी को निर्धारित करने के लिए पारिवारिक आकार और संरचना के लिए समायोजित किया गया है

4. ✓

क्या जनसंख्या की वास्तविक आय के संदर्भ में विकसित किया गया है और उपभोग में परिवर्तन को दर्शाता है

Question Number : 107 Question Id : 16794318073 Question Type : MCQ Option Shuffling : Yes Display Question Number : Yes
Single Line Question Option : No Option Orientation : Vertical

Correct Marks : 1 Wrong Marks : 0.25

Is one of the factors that influences how children learn and grow Assimilation means:

Options :

1. ✗ Changing or altering our existing schemas in light of new information
2. ✗ Modifying existing schemas, or ideas, as a result of new information or new experiences
3. ✗ Moving from one stage of thought to the next
4. ✓ Process of taking in new information into our already existing schemas

Question Number : 107 Question Id : 16794318073 Question Type : MCQ Option Shuffling : Yes Display Question Number : Yes
Single Line Question Option : No Option Orientation : Vertical

Correct Marks : 1 Wrong Marks : 0.25

निम्नलिखित में से कौन सा उन कारकों में से एक है जो बच्चों को सिखने और बढ़ने के आत्मसात्करण को प्रभावित करते हैं?

Options :

1. ✗ नई जानकारी के प्रकाश में हमारे मौजूदा योजना को बदलना या फेरबदल करना
2. ✗ नई जानकारी या नए अनुभवों के परिणामस्वरूप मौजूदा योजना या विचारों को संशोधित करना
3. ✗ विचार के एक चरण से अगले तक आगे बढ़ना
4. ✓ हमारी पहले से मौजूद योजना में नई जानकारी लेने की प्रक्रिया


Question Number : 108 Question Id : 16794318074 Question Type : MCQ Option Shuffling : Yes Display Question Number : Yes
Single Line Question Option : No Option Orientation : Vertical


Correct Marks : 1 Wrong Marks : 0.25

What is maturation?

Options :

1. ✗ Exercise and effort taken
2. ✗ Capable of learning

3.  Unfolding of individual's inherent traits


4.  Biological and genetically


Question Number : 108 Question Id : 16794318074 Question Type : MCQ Option Shuffling : Yes Display Question Number : Yes
Single Line Question Option : No Option Orientation : Vertical


Correct Marks : 1 Wrong Marks : 0.25


परिपक्वता का क्या तात्पर्य है?

Options :

1.  व्यायाम और किया गया प्रयास

2.  सीखने की क्षमता

3.  व्यक्ति के अंतर्निहित गुणों का विकास करना


4.  जैविक और आनुवंशिक रूप से

Question Number : 109 Question Id : 16794318075 Question Type : MCQ Option Shuffling : Yes Display Question Number : Yes
Single Line Question Option : No Option Orientation : Vertical

Correct Marks : 1 Wrong Marks : 0.25


What is the definition of cognition?


Options :

1.  The process of biological and psychological changes

2. 

The process of acquiring and understanding knowledge through our thoughts, experience and senses

3.  Structural and physiological changes


4.  Developing attitude and interest

Question Number : 109 Question Id : 16794318075 Question Type : MCQ Option Shuffling : Yes Display Question Number : Yes
Single Line Question Option : No Option Orientation : Vertical

Correct Marks : 1 Wrong Marks : 0.25

संज्ञान की परिभाषा क्या है?

Options :

1.  जैविक और मनोवैज्ञानिक परिवर्तन की प्रक्रिया

2. ✓ हमारे विचारों, अनुभव और इंद्रियों के माध्यम से ज्ञान ग्रहण करने और समझने की प्रक्रिया
3. ✗ संरचनात्मक और शारीरिक परिवर्तन
4. ✗ दृष्टिकोण और रुचि का विकास

Question Number : 110 Question Id : 16794318076 Question Type : MCQ Option Shuffling : Yes Display Question Number : Yes
Single Line Question Option : No Option Orientation : Vertical

Correct Marks : 1 Wrong Marks : 0.25

What is the meaning of the following expression "learning is product of environment"?

Options :

1. ✗ Learning is the modification of behaviour
2. ✗ Learning is a process that happens through experiences
3. ✓ Learning is through the modification and re-modification by the objects and individuals in the environment
4. ✗ Learning is a process that happens through both physical and mental development of the learner

Question Number : 110 Question Id : 16794318076 Question Type : MCQ Option Shuffling : Yes Display Question Number : Yes
Single Line Question Option : No Option Orientation : Vertical

Correct Marks : 1 Wrong Marks : 0.25

निम्नलिखित अभिव्यक्ति "सीखना पर्यावरण का परिणाम है" का अर्थ क्या है?

Options :

1. ✗ सीखना व्यवहार का संशोधन है
2. ✗ सीखना एक प्रक्रिया है जो अनुभवों के माध्यम से होती है
3. ✓ सीखना पर्यावरण में वस्तुओं और व्यक्तियों द्वारा संशोधन और पुनः संशोधन के माध्यम से है
4. ✗ सीखना एक ऐसी प्रक्रिया है जो शिक्षार्थी के शारीरिक और मानसिक दोनों विकास के माध्यम से होती है

Question Number : 111 Question Id : 16794318077 Question Type : MCQ Option Shuffling : Yes Display Question Number : Yes
Single Line Question Option : No Option Orientation : Vertical

Correct Marks : 1 Wrong Marks : 0.25

Which psychologist gave the three domains of learning?

Options :

1. ☒ Benjamin Bloom
2. ☐ Vygotsky
3. ☐ Jean Piaget
4. ☐ Chomsky

Question Number : 111 Question Id : 16794318077 Question Type : MCQ Option Shuffling : Yes Display Question Number : Yes
Single Line Question Option : No Option Orientation : Vertical

Correct Marks : 1 Wrong Marks : 0.25

किस मनोवैज्ञानिक ने सीखने के तीन ज्ञानक्षेत्र (डोमेन) दिए?

Options :

1. ☒ बेंजामिन ब्लूम
2. ☐ व्यागोस्की
3. ☐ जॉन प्याज़े
4. ☐ चोमस्की

Question Number : 112 Question Id : 16794318078 Question Type : MCQ Option Shuffling : Yes Display Question Number : Yes
Single Line Question Option : No Option Orientation : Vertical

Correct Marks : 1 Wrong Marks : 0.25

What does cognitive domain involve?

Options :

1. ☐ Growth in feelings or emotional areas
2. ☐ Manual or physical skills
3. ☐ Physical growth
4. ☒ Mental skills

Question Number : 112 Question Id : 16794318078 Question Type : MCQ Option Shuffling : Yes Display Question Number : Yes
Single Line Question Option : No Option Orientation : Vertical

Correct Marks : 1 Wrong Marks : 0.25

संज्ञानात्मक डोमेन में क्या शामिल होता है?

Options :

1. ✖ भावनाओं या मनोभाव क्षेत्रों में वृद्धि
2. ✖ मैनुअल या शारीरिक कौशल
3. ✖ शारीरिक विकास
4. ✔ मानसिक कौशल

Question Number : 113 Question Id : 16794318079 Question Type : MCQ Option Shuffling : Yes Display Question Number : Yes
Single Line Question Option : No Option Orientation : Vertical

Correct Marks : 1 Wrong Marks : 0.25

Which category does this specification belongs to – "Builds a structure or pattern from diverse elements"?

Options :

1. ✔ Creating
2. ✖ Remembering
3. ✖ Analysing
4. ✖ Evaluating

Question Number : 113 Question Id : 16794318079 Question Type : MCQ Option Shuffling : Yes Display Question Number : Yes
Single Line Question Option : No Option Orientation : Vertical

Correct Marks : 1 Wrong Marks : 0.25

"विभिन्न तत्वों से संरचना या प्रतिरूप (पैटर्न) बनता है", यह विनिर्देश किस श्रेणी से संबंधित है?

Options :

1. ✔ रचना करना
2. ✖ याद करना
3. ✖ विश्लेषण करना
4. ✖ मूल्यांकन करना

Question Number : 114 Question Id : 16794318080 Question Type : MCQ Option Shuffling : Yes Display Question Number : Yes
Single Line Question Option : No Option Orientation : Vertical

Correct Marks : 1 Wrong Marks : 0.25

The key words 'defines', 'knows', 'labels' and 'lists' belong to which category?

Options :

1. ✖ Evaluating
2. ✔ Remembering
3. ✖ Understanding
4. ✖ Applying

Question Number : 114 Question Id : 16794318080 Question Type : MCQ Option Shuffling : Yes Display Question Number : Yes
Single Line Question Option : No Option Orientation : Vertical

Correct Marks : 1 Wrong Marks : 0.25

मुख्य शब्द 'परिभाषित', 'जानता है', 'लेबल' और 'सूचियां' किस श्रेणी से संबंधित हैं?

Options :

1. ✖ मूल्यांकन
2. ✔ याद करना
3. ✖ समझना
4. ✖ लागू करना

Question Number : 115 Question Id : 16794318081 Question Type : MCQ Option Shuffling : Yes Display Question Number : Yes
Single Line Question Option : No Option Orientation : Vertical

Correct Marks : 1 Wrong Marks : 0.25

What does this phrase mean: "socialisation is a continuous process"?

Options :

1. ✖ Society intends to control the behaviour of its members unconsciously
2. ✖ Children learn their language, customs, norms and values in the family
3. ✔ Members of a society transmit its culture to the next generation and thus society continues to exist

4. ✖ It refers to the knowledge or skill acquired by instruction or study

Question Number : 115 Question Id : 16794318081 Question Type : MCQ Option Shuffling : Yes Display Question Number : Yes
Single Line Question Option : No Option Orientation : Vertical

Correct Marks : 1 Wrong Marks : 0.25

"सामाजीकरण एक सतत प्रक्रिया है", इस वाक्यांश का क्या अर्थ है?

Options :

1. ✖ समाज अपने सदस्यों के व्यवहार को अकस्मात नियंत्रित करना चाहता है
2. ✖ बच्चे परिवार में अपनी भाषा, रीति-रिवाजों, मानदंडों और मूल्यों को सीखते हैं
3. ✔ समाज के सदस्य अपनी संस्कृति को अगली पीढ़ी तक पहुंचाते हैं और इस प्रकार समाज चलता रहता है
4. ✖ यह निर्देश या अध्ययन द्वारा प्राप्त ज्ञान या कौशल को संदर्भित करता है

Question Number : 116 Question Id : 16794318082 Question Type : MCQ Option Shuffling : Yes Display Question Number : Yes
Single Line Question Option : No Option Orientation : Vertical

Correct Marks : 1 Wrong Marks : 0.25

What is the explanation George Herbert Mead gave for socialisation?

Options :

1. ✖ He believed that people learn the cultural values and norms that make up a part of the personality that he called superego
2. ✖ He believed in the important reaction of others to the developing self-concept, which he called as 'looking-glass self'
3. ✔ He believed that an individual's social experience was a primary determinant of individual identity, which he called as 'the self'
4. ✖ He believed that human development is the result of both biological maturation and increasing social experience

Question Number : 116 Question Id : 16794318082 Question Type : MCQ Option Shuffling : Yes Display Question Number : Yes
Single Line Question Option : No Option Orientation : Vertical

Correct Marks : 1 Wrong Marks : 0.25

जॉर्ज हर्बर्ट मीड ने सामाजीकरण के लिए क्या स्पष्टीकरण दिया है?

Options :

1. ✖ उनका मानना था कि लोग सांस्कृतिक मूल्यों और मानदंडों को सीखते हैं जो उनके व्यक्तित्व का एक हिस्सा बनाता है जिसे उन्होंने सुपरइगो कहा
2. ✖ उनका मानना था कि विकासशील आत्म-अवधारणा के लिए दूसरों की महत्वपूर्ण प्रतिक्रिया स्वाभाविक है, जिसे उन्होंने 'आत्म-दर्पण' कहा
3. ✔ उनका मानना था कि किसी व्यक्ति का सामाजिक अनुभव व्यक्तिगत पहचान का प्राथमिक निर्धारक है, जिसे उसने 'स्वयं' कहा

4. ✖

उनका मानना था कि मानव विकास दोनों जैविक परिपक्वता और सामाजिक अनुभव में वृद्धि का परिणाम है

Question Number : 117 Question Id : 16794318083 Question Type : MCQ Option Shuffling : Yes Display Question Number : Yes
Single Line Question Option : No Option Orientation : Vertical

Correct Marks : 1 Wrong Marks : 0.25

How do we have cultural diversity?

Options :

1. ✖ By behaving differently due to educational difference
2. ✖ By varying background respond and develop themselves differently
3. ✖ By virtue of economic knowledge and decision taking in financial matters
4. ✔ It is the result of geographical location, religious beliefs, and life style

Question Number : 117 Question Id : 16794318083 Question Type : MCQ Option Shuffling : Yes Display Question Number : Yes
Single Line Question Option : No Option Orientation : Vertical

Correct Marks : 1 Wrong Marks : 0.25

हमारे पास सांस्कृतिक विविधता किस तरह है?

Options :

1. ✖ शैक्षणिक अंतर के कारण अलग-अलग व्यवहार करके
2. ✖ बदलती पृष्ठभूमि प्रतिक्रिया और खुद को अलग तरीके से विकसित करके
3. ✖ वित्तीय मामलों में आर्थिक ज्ञान और निर्णय ले करके
4. ✔ यह भौगोलिक स्थान, धार्मिक मान्यताओं और जीवन शैली का परिणाम है

Question Number : 118 Question Id : 16794318084 Question Type : MCQ Option Shuffling : Yes Display Question Number : Yes
Single Line Question Option : No Option Orientation : Vertical

Correct Marks : 1 Wrong Marks : 0.25

What do you mean by secondary socialisation?

Options :

1. ✔ It refers to the growing child who learns very important lesson in social conduct from his peers
2. ✖ It refers to the process of discarding former behaviour patterns and accepting new ones as a part of transition in one's life

3. ✖ It refers to socialisation of the infant in the primary or earliest years of his life

4. ✖

It refers to the process by which men learn the culture of a group with the anticipation of joining the group

Question Number : 118 Question Id : 16794318084 Question Type : MCQ Option Shuffling : Yes Display Question Number : Yes
Single Line Question Option : No Option Orientation : Vertical

Correct Marks : 1 Wrong Marks : 0.25

द्वितीयक समाजीकरण से आपका क्या तात्पर्य है?

Options :

1. ✔

यह बढ़ते बच्चे को संदर्भित करता है जो अपने साथियों से सामाजिक आचरण में बहुत महत्वपूर्ण सबक सीखता है

2. ✖

यह पूर्व व्यवहार पैटर्न को हटाने और किसी के जीवन में संक्रमण के हिस्से के रूप में नए लोगों को स्वीकार करने की प्रक्रिया को संदर्भित करता है

3. ✖

यह शिशु के सामाजिक या उसके जीवन के शुरुआती वर्षों में सामाजिककरण को संदर्भित करता है

4. ✖

यह उस प्रक्रिया को संदर्भित करता है जिसके द्वारा पुरुष समूह में शामिल होने की प्रत्याशा के साथ समूह की संस्कृति सीखता है

Question Number : 119 Question Id : 16794318085 Question Type : MCQ Option Shuffling : Yes Display Question Number : Yes
Single Line Question Option : No Option Orientation : Vertical

Correct Marks : 1 Wrong Marks : 0.25

What is child rearing also called?

Options :

1. ✖ Adulthood

2. ✔ Parenting

3. ✖ Adolescence

4. ✖ Teaching

Question Number : 119 Question Id : 16794318085 Question Type : MCQ Option Shuffling : Yes Display Question Number : Yes
Single Line Question Option : No Option Orientation : Vertical

Correct Marks : 1 Wrong Marks : 0.25

बाल पोषण को और क्या कहा जाता है?

Options :

1. ✖ वयस्कता
2. ✔ परवरिश
3. ✖ किशोरावस्था
4. ✖ शिक्षण

Question Number : 120 Question Id : 16794318086 Question Type : MCQ Option Shuffling : Yes Display Question Number : Yes
Single Line Question Option : No Option Orientation : Vertical

Correct Marks : 1 Wrong Marks : 0.25

What do you understand by school culture?

Options :

1. ✔ It refers to the beliefs, perceptions, relationships, attitudes and written and unwritten rules
2. ✖ It refers to the interaction with the peer in school
3. ✖ It refers to the resources and information that help the student to be socially competent
4. ✖ It refers to the social competencies and skills

Question Number : 120 Question Id : 16794318086 Question Type : MCQ Option Shuffling : Yes Display Question Number : Yes
Single Line Question Option : No Option Orientation : Vertical

Correct Marks : 1 Wrong Marks : 0.25

स्कूल संस्कृति से आप क्या समझते हैं?

Options :

1. ✔ यह विश्वासों, धारणाओं, रिश्ते, दृष्टिकोण और लिखित एवं अलिखित नियमों को संदर्भित करता है
2. ✖ यह स्कूल में सहकर्मी के साथ बातचीत को संदर्भित करता है
3. ✖ यह उन संसाधनों और सूचनाओं को संदर्भित करता है जो छात्र को सामाजिक रूप से सक्षम होने में मदद करते हैं
4. ✖ यह सामाजिक दक्षताओं और कौशल को संदर्भित करता है

Subject Related

Group Number :

7

Group Id :

167943670

Group Maximum Duration :	0
Group Minimum Duration :	0
Revisit allowed for view? :	No
Revisit allowed for edit? :	No
Break time:	0
Group Marks:	20
Revisit allowed for group Instructions? :	Yes
Maximum Instruction Time:	0
Minimum Instruction Time:	0

Subject Related

Section Id :	167943735
Section Number :	1
Section type :	Online
Mandatory or Optional:	Mandatory
Number of Questions:	20
Number of Questions to be attempted:	20
Section Marks:	20
Display Number Panel:	Yes
Group All Questions:	No

Sub-Section Number:	1
Sub-Section Id:	1679431149
Question Shuffling Allowed :	Yes

Question Number : 121 Question Id : 16794318087 Question Type : MCQ Option Shuffling : Yes Display Question Number : Yes
Single Line Question Option : No Option Orientation : Vertical

Correct Marks : 1 Wrong Marks : 0.25

What do you understand by 'promote the child's mental development'?

Options :

1. ✖ Keeping the child safe and free from harm, providing shelter and clothing, preventing and attending to illness
2. ✔ Providing emotional security, socialisation, nurturing and giving affection to the child
3. ✖ Interaction, stimulation and play
4. ✖ Interaction within the community, at health clinics, at school

Question Number : 121 Question Id : 16794318087 Question Type : MCQ Option Shuffling : Yes Display Question Number : Yes
Single Line Question Option : No Option Orientation : Vertical

Correct Marks : 1 Wrong Marks : 0.25

'बच्चे के मानसिक विकास को बढ़ावा देने' से आप क्या समझते हैं?

Options :

1. ✖

बच्चे को सुरक्षित और नुकसानमुक्त रखना, आश्रय और कपड़े प्रदान करना, बीमारी से बचाव और देखभाल करना

2. ✔

भावनात्मक सुरक्षा, सामाजिककरण, पोषण और बच्चे को स्नेह प्रदान करना

3. ✖

बातचीत, उत्तेजना और खेल

4. ✖

स्कूल में स्वास्थ्य क्लीनिक पर समुदाय के बीच बातचीत

Question Number : 122 Question Id : 16794318088 Question Type : MCQ Option Shuffling : Yes Display Question Number : Yes
Single Line Question Option : No Option Orientation : Vertical

Correct Marks : 1 Wrong Marks : 0.25

What is the method of socialisation in play-way level school?

Options :

1. ✖

Teacher makes the children learn good habits, civic responsibility and how to mingle with the society

2. ✖

Teacher provides the opportunities to improve socialisation by conducting discussions and activities such as mutual understanding with the peer group

3. ✖

Children learn the skills, which they can use in future to actively participate in co-curricular activities

4. ✔

There are/is no strict rules/method to learn, but education is learnt by the way of playing

Question Number : 122 Question Id : 16794318088 Question Type : MCQ Option Shuffling : Yes Display Question Number : Yes
Single Line Question Option : No Option Orientation : Vertical

Correct Marks : 1 Wrong Marks : 0.25

प्ले-वे लेवल स्कूल में सामाजिककरण की विधि क्या है?

Options :

1. ✖

शिक्षक बच्चों को अच्छी आदतें, नागरिक जिम्मेदारी और समाज के साथ मिलना सीखाते हैं

2. ✖

शिक्षक सहकर्मी समूह के साथ आपसी समझ जैसे चर्चाओं और गतिविधियों के जरिए सामाजिककरण में सुधार के अवसर प्रदान करता है

3. ✖

बच्चे कौशल सीखते हैं, जिसे वे भविष्य में सह-पाठ्यचर्या गतिविधियों में सक्रिय रूप से भाग लेने के लिए उपयोग कर सकते हैं

4. ✓

सीखने के लिए कोई सख्त नियम / विधि नहीं है, लेकिन शिक्षा के तरीके से शिक्षा ली जाती है

Question Number : 123 Question Id : 16794318089 Question Type : MCQ Option Shuffling : Yes Display Question Number : Yes
Single Line Question Option : No Option Orientation : Vertical

Correct Marks : 1 Wrong Marks : 0.25

What does Educatum mean?

Options :

1. ✗ To raise

2. ✗ To develop

3. ✓ To grow

4. ✗ To learn

Question Number : 123 Question Id : 16794318089 Question Type : MCQ Option Shuffling : Yes Display Question Number : Yes
Single Line Question Option : No Option Orientation : Vertical

Correct Marks : 1 Wrong Marks : 0.25

शिक्षा का क्या मतलब है?

Options :

1. ✗ पालन-पोषण करना

2. ✗ विकास करना

3. ✓ बढ़ाना

4. ✗ सीखना

Question Number : 124 Question Id : 16794318090 Question Type : MCQ Option Shuffling : Yes Display Question Number : Yes
Single Line Question Option : No Option Orientation : Vertical

Correct Marks : 1 Wrong Marks : 0.25

Learning through correspondence is a type of:

Options :

1. ✗ Informal education

2. ✗ Formal education

3. ✓ Non-formal education

4. ✖ Life-long education

Question Number : 124 Question Id : 16794318090 Question Type : MCQ Option Shuffling : Yes Display Question Number : Yes
Single Line Question Option : No Option Orientation : Vertical

Correct Marks : 1 Wrong Marks : 0.25

पत्राचार के माध्यम से सीखना एक प्रकार की शिक्षा है?

Options :

1. ✖ अनौपचारिक शिक्षा
2. ✖ औपचारिक शिक्षा
3. ✔ गैर-औपचारिक शिक्षा
4. ✖ जीवनभर शिक्षा

Question Number : 125 Question Id : 16794318091 Question Type : MCQ Option Shuffling : Yes Display Question Number : Yes
Single Line Question Option : No Option Orientation : Vertical

Correct Marks : 1 Wrong Marks : 0.25

Equitable ratio of men and women represents:

Options :

1. ✔ Gender diversity
2. ✖ Unity in diversity
3. ✖ Diversity of education
4. ✖ Diversity in culture

Question Number : 125 Question Id : 16794318091 Question Type : MCQ Option Shuffling : Yes Display Question Number : Yes
Single Line Question Option : No Option Orientation : Vertical

Correct Marks : 1 Wrong Marks : 0.25

पुरुषों और महिलाओं का न्यायसंगत अनुपात क्या दर्शाता है?

Options :

1. ✔ लैंगिक विविधता
2. ✖ विविधता में एकता
3. ✖ शिक्षा की विविधता

4. ✖ संस्कृति में विविधता

Question Number : 126 Question Id : 16794318092 Question Type : MCQ Option Shuffling : Yes Display Question Number : Yes
Single Line Question Option : No Option Orientation : Vertical

Correct Marks : 1 Wrong Marks : 0.25

If the student is unable to walk and talk properly, this is referred to as:

Options :

1. ✖ Learning disabilities

2. ✖ Mental disabilities

3. ✔ Loco motor disabilities

4. ✖ Physical disabilities

Question Number : 126 Question Id : 16794318092 Question Type : MCQ Option Shuffling : Yes Display Question Number : Yes
Single Line Question Option : No Option Orientation : Vertical

Correct Marks : 1 Wrong Marks : 0.25

यदि छात्र ठीक से चलने और बात करने में असमर्थ है, तो इसे किस प्रकार संदर्भित किया जाता है?

Options :

1. ✖ सीखने की अयोग्यता

2. ✖ मानसिक विकलांगता

3. ✔ लोकोमोटर विकलांगता

4. ✖ शारीरिक विकलांगता

Question Number : 127 Question Id : 16794318093 Question Type : MCQ Option Shuffling : Yes Display Question Number : Yes
Single Line Question Option : No Option Orientation : Vertical

Correct Marks : 1 Wrong Marks : 0.25

What do you refer to the social difference in between men and women as?

Options :

1. ✔ Gender difference

2. ✖ Biological difference

3. ✖ Cosmological difference

4. ✖ Cultural difference

Question Number : 127 Question Id : 16794318093 Question Type : MCQ Option Shuffling : Yes Display Question Number : Yes
Single Line Question Option : No Option Orientation : Vertical

Correct Marks : 1 Wrong Marks : 0.25

पुरुषों और महिलाओं के बीच सामाजिक अंतर का क्या तात्पर्य है?

Options :

1. ✔ लैंगिक अंतर
2. ✖ जैविक अंतर
3. ✖ ब्रह्मांड संबंधी अंतर
4. ✖ सांस्कृतिक अंतर

Question Number : 128 Question Id : 16794318094 Question Type : MCQ Option Shuffling : Yes Display Question Number : Yes
Single Line Question Option : No Option Orientation : Vertical

Correct Marks : 1 Wrong Marks : 0.25

Universal access and enrolment is the important objective of:

Options :

1. ✖ NCERT
2. ✔ NPE-1986
3. ✖ NPEGEL 2003
4. ✖ N.R.E.P

Question Number : 128 Question Id : 16794318094 Question Type : MCQ Option Shuffling : Yes Display Question Number : Yes
Single Line Question Option : No Option Orientation : Vertical

Correct Marks : 1 Wrong Marks : 0.25

सार्वभौमिक पहुंच और नामांकन किसका मुख्य उद्देश्य है?

Options :

1. ✖ एन.सी.ई.आर.टी.
2. ✔ एन.पी.ई. -1986
3. ✖ एन.पी.ई.जी.ई.एल. 2003

4. ✖ एन.आर.ई.पी

Question Number : 129 Question Id : 16794318095 Question Type : MCQ Option Shuffling : Yes Display Question Number : Yes
Single Line Question Option : No Option Orientation : Vertical

Correct Marks : 1 Wrong Marks : 0.25

What is the expansion of IPC?

Options :

1. ✖ Indian Plastic Code

2. ✔ Indian Penal Code

3. ✖ International Penal Code

4. ✖ Indian Practice Code

Question Number : 129 Question Id : 16794318095 Question Type : MCQ Option Shuffling : Yes Display Question Number : Yes
Single Line Question Option : No Option Orientation : Vertical

Correct Marks : 1 Wrong Marks : 0.25

आई.पी.सी. का विस्तार क्या है?

Options :

1. ✖ भारतीय प्लास्टिक संहिता

2. ✔ भारतीय दंड संहिता

3. ✖ अंतर्राष्ट्रीय दंड संहिता

4. ✖ भारतीय अभ्यास संहिता

Question Number : 130 Question Id : 16794318096 Question Type : MCQ Option Shuffling : Yes Display Question Number : Yes
Single Line Question Option : No Option Orientation : Vertical

Correct Marks : 1 Wrong Marks : 0.25

A preference towards one gender over the other is called as:

Options :

1. ✖ Gender stereotype

2. ✖ Gender diversity

3. ✖ Gender difference

4. ✓ Gender bias

Question Number : 130 Question Id : 16794318096 Question Type : MCQ Option Shuffling : Yes Display Question Number : Yes
Single Line Question Option : No Option Orientation : Vertical

Correct Marks : 1 Wrong Marks : 0.25

एक लैंगिक पर दूसरे लैंगिक को प्राथमिकता देने को क्या कहा जाता है?

Options :

1. ✗ लैंगिक रूढ़िवाद
2. ✗ लैंगिक विविधता
3. ✗ लैंगिक अंतर
4. ✓ लैंगिक पक्षपात

Question Number : 131 Question Id : 16794318097 Question Type : MCQ Option Shuffling : Yes Display Question Number : Yes
Single Line Question Option : No Option Orientation : Vertical

Correct Marks : 1 Wrong Marks : 0.25

What is the full form of IDEA?

Options :

1. ✓ Individuals With Disabilities Education Act
2. ✗ Indian Developmental Education Act
3. ✗ Indian Disability Education Act
4. ✗ Individuals With Distance Education Act

Question Number : 131 Question Id : 16794318097 Question Type : MCQ Option Shuffling : Yes Display Question Number : Yes
Single Line Question Option : No Option Orientation : Vertical

Correct Marks : 1 Wrong Marks : 0.25

आई.डी.ई.ए. का पूरा रूप क्या है?

Options :

1. ✓ इंडिविजुअल विथ डिसेबिलिटीज एजुकेशन एक्ट
2. ✗ इंडियन डेवलपमेंटल एजुकेशन एक्ट
3. ✗ इंडियन डिसेबिलिटी एजुकेशन एक्ट

4. ✖ इंडिविजुअल विथ डिस्टेंस एजुकेशन एक्ट

Question Number : 132 Question Id : 16794318098 Question Type : MCQ Option Shuffling : Yes Display Question Number : Yes
Single Line Question Option : No Option Orientation : Vertical

Correct Marks : 1 Wrong Marks : 0.25

The difficulty with learning math is called:

Options :

- 1. ✖ Dyslexia
- 2. ✔ Dyscalculia
- 3. ✖ Dysgraphia
- 4. ✖ Dyspraxia

Question Number : 132 Question Id : 16794318098 Question Type : MCQ Option Shuffling : Yes Display Question Number : Yes
Single Line Question Option : No Option Orientation : Vertical

Correct Marks : 1 Wrong Marks : 0.25

गणित सीखने में कठिनाई को क्या कहा जाता है?

Options :

- 1. ✖ डिस्लेक्सिया
- 2. ✔ डाइस्कलकुलिया
- 3. ✖ डिसग्राफिया
- 4. ✖ डिस्प्राक्सिया

Question Number : 133 Question Id : 16794318099 Question Type : MCQ Option Shuffling : Yes Display Question Number : Yes
Single Line Question Option : No Option Orientation : Vertical

Correct Marks : 1 Wrong Marks : 0.25

What is the full form of ADHD?

Options :

- 1. ✖ Auto Deficit Hyperactivity Disorder
- 2. ✖ Autism Deficit Hyperactivity Disorder
- 3. ✔ Attention Deficit Hyperactive Disorder

4. ✖ Attention Deficit High Disease

Question Number : 133 Question Id : 16794318099 Question Type : MCQ Option Shuffling : Yes Display Question Number : Yes
Single Line Question Option : No Option Orientation : Vertical

Correct Marks : 1 Wrong Marks : 0.25

ए.डी.एच.डी. का पूरा रूप क्या है?

Options :

1. ✖ ऑटो डेफिसिट हाइपरएक्टिविटी डिसऑर्डर
2. ✖ आटिज्म डेफिसिट हाइपरएक्टिविटी डिसऑर्डर
3. ✔ अटेंशन डेफिसिट हाइपरएक्टिविटी डिसऑर्डर
4. ✖ अटेंशन डेफिसिट हाई डिसीज

Question Number : 134 Question Id : 16794318100 Question Type : MCQ Option Shuffling : Yes Display Question Number : Yes
Single Line Question Option : No Option Orientation : Vertical

Correct Marks : 1 Wrong Marks : 0.25

Ramu is a boy with hearing impairment. Somu is a normal boy. Both get enrolled into the same school. What do you call such type of schools?

Options :

1. ✖ Separate schools
2. ✖ Special schools
3. ✔ Inclusive schools
4. ✖ Vocational schools

Question Number : 134 Question Id : 16794318100 Question Type : MCQ Option Shuffling : Yes Display Question Number : Yes
Single Line Question Option : No Option Orientation : Vertical

Correct Marks : 1 Wrong Marks : 0.25

रामू एक बधिर लड़का है। सोमू एक सामान्य लड़का है। दोनों एक ही स्कूल में दाखिला लेते हैं। आप इस तरह के स्कूलों को क्या कहते हैं?

Options :

1. ✖ अलग स्कूल
2. ✖ विशेष स्कूल

3. ✓ समावेशी स्कूल

4. ✗ व्यावसायिक स्कूल

Question Number : 135 Question Id : 16794318101 Question Type : MCQ Option Shuffling : Yes Display Question Number : Yes
Single Line Question Option : No Option Orientation : Vertical

Correct Marks : 1 Wrong Marks : 0.25

Which of the following statements does not relate to curriculum?

Options :

1. ✗ It is the structure of a programme of study
2. ✗ It refers to the content of a programme of study
3. ✗ It is students' experience of learning
4. ✓ It refers to teacher's professional development

Question Number : 135 Question Id : 16794318101 Question Type : MCQ Option Shuffling : Yes Display Question Number : Yes
Single Line Question Option : No Option Orientation : Vertical

Correct Marks : 1 Wrong Marks : 0.25

निम्नलिखित में से कौन सा कथन पाठ्यक्रम से संबंधित नहीं है?

Options :

1. ✗ यह अध्ययन के कार्यक्रम की संरचना है
2. ✗ यह अध्ययन के कार्यक्रम की सामग्री को संदर्भित करता है
3. ✗ यह छात्रों का सीखने का अनुभव है
4. ✓ यह शिक्षक के व्यावसायिक विकास को संदर्भित करता है

Question Number : 136 Question Id : 16794318102 Question Type : MCQ Option Shuffling : Yes Display Question Number : Yes
Single Line Question Option : No Option Orientation : Vertical

Correct Marks : 1 Wrong Marks : 0.25

What is epistemology?

Options :

1. ✓ Theory of knowledge
2. ✗ Source of knowledge

3. ✖ Utility of knowledge

4. ✖ Occurrence of knowledge

Question Number : 136 Question Id : 16794318102 Question Type : MCQ Option Shuffling : Yes Display Question Number : Yes
Single Line Question Option : No Option Orientation : Vertical

Correct Marks : 1 Wrong Marks : 0.25

ज्ञान-पद्धति शास्त्र क्या है?

Options :

1. ✔ ज्ञान का सिद्धांत

2. ✖ ज्ञान का स्रोत

3. ✖ ज्ञान की उपयोगिता

4. ✖ ज्ञान की उपस्थिति

Question Number : 137 Question Id : 16794318103 Question Type : MCQ Option Shuffling : Yes Display Question Number : Yes
Single Line Question Option : No Option Orientation : Vertical

Correct Marks : 1 Wrong Marks : 0.25

The process of observation under controlled conditions can be termed as:

Options :

1. ✖ Survey

2. ✔ Experimentation

3. ✖ Interviews

4. ✖ Ethnography

Question Number : 137 Question Id : 16794318103 Question Type : MCQ Option Shuffling : Yes Display Question Number : Yes
Single Line Question Option : No Option Orientation : Vertical

Correct Marks : 1 Wrong Marks : 0.25

नियंत्रित परिस्थितियों में अवलोकन की प्रक्रिया को क्या कहा जा सकता है?

Options :

1. ✖ सर्वेक्षण

2. ✔ प्रयोग

3. ✖ साक्षात्कार

4. ✖ नृवंशविज्ञान

Question Number : 138 Question Id : 16794318104 Question Type : MCQ Option Shuffling : Yes Display Question Number : Yes
Single Line Question Option : No Option Orientation : Vertical

Correct Marks : 1 Wrong Marks : 0.25

One of the most personal way of knowing someone could be through:

Options :

1. ✔ Intuition

2. ✖ Reading

3. ✖ Lecture

4. ✖ Some authority

Question Number : 138 Question Id : 16794318104 Question Type : MCQ Option Shuffling : Yes Display Question Number : Yes
Single Line Question Option : No Option Orientation : Vertical

Correct Marks : 1 Wrong Marks : 0.25

किसी को जानने का सबसे व्यक्तिगत तरीका क्या हो सकता है?

Options :

1. ✔ अंतर्ज्ञान

2. ✖ पढ़ना

3. ✖ व्याख्यान

4. ✖ कुछ अधिकार

Question Number : 139 Question Id : 16794318105 Question Type : MCQ Option Shuffling : Yes Display Question Number : Yes
Single Line Question Option : No Option Orientation : Vertical

Correct Marks : 1 Wrong Marks : 0.25

Which one of the following is not a common technology used in education?

Options :

1. ✖ CDs

2. ✖ Green boards

3. ✔ e-boards

4. ✖ Audio tapes

Question Number : 139 Question Id : 16794318105 Question Type : MCQ Option Shuffling : Yes Display Question Number : Yes
Single Line Question Option : No Option Orientation : Vertical

Correct Marks : 1 Wrong Marks : 0.25

निम्नलिखित में से कौन सी शिक्षा में उपयोग की जाने वाली एक आम तकनीक नहीं है?

Options :

1. ✖ सीडी

2. ✖ ग्रीन बोर्ड

3. ✔ ई-बोर्ड

4. ✖ ऑडियो टेप

Question Number : 140 Question Id : 16794318106 Question Type : MCQ Option Shuffling : Yes Display Question Number : Yes
Single Line Question Option : No Option Orientation : Vertical

Correct Marks : 1 Wrong Marks : 0.25

Systematic application of scientific knowledge to the practical tasks is termed as:

Options :

1. ✖ Philosophy

2. ✔ Technology

3. ✖ Science

4. ✖ Education

Question Number : 140 Question Id : 16794318106 Question Type : MCQ Option Shuffling : Yes Display Question Number : Yes
Single Line Question Option : No Option Orientation : Vertical

Correct Marks : 1 Wrong Marks : 0.25

व्यावहारिक कार्यों के लिए वैज्ञानिक ज्ञान के व्यवस्थित अनुप्रयोग को क्या कहा जाता है?

Options :

1. ✖ दर्शन

2. ✔ प्रौद्योगिकी

3. ✖ विज्ञान

4. ❌ शिक्षा

Subject Related

Group Number :	8
Group Id :	167943671
Group Maximum Duration :	0
Group Minimum Duration :	0
Revisit allowed for view? :	No
Revisit allowed for edit? :	No
Break time:	0
Group Marks:	20
Revisit allowed for group Instructions? :	Yes
Maximum Instruction Time:	0
Minimum Instruction Time:	0

Subject Related

Section Id :	167943736
Section Number :	1
Section type :	Online
Mandatory or Optional:	Mandatory
Number of Questions:	20
Number of Questions to be attempted:	20
Section Marks:	20
Display Number Panel:	Yes
Group All Questions:	No

Sub-Section Number:	1
Sub-Section Id:	1679431150
Question Shuffling Allowed :	Yes

Question Number : 141 Question Id : 16794318107 Question Type : MCQ Option Shuffling : Yes Display Question Number : Yes
Single Line Question Option : No Option Orientation : Vertical
Correct Marks : 1 Wrong Marks : 0.25

Demonstrating close to real life situations is possible through which of the following?

Options :

1. ❌ Interactive learning programme
2. ❌ Programmed learning
3. ✅ Simulated learning
4. ❌ Experiments

Question Number : 141 Question Id : 16794318107 Question Type : MCQ Option Shuffling : Yes Display Question Number : Yes
Single Line Question Option : No Option Orientation : Vertical

Correct Marks : 1 Wrong Marks : 0.25

वास्तविक जीवन स्थितियों के करीब प्रदर्शन करना निम्नलिखित में से किसके माध्यम से संभव है?

Options :

1. ✖ संवादात्मक अध्ययन कार्यक्रम
2. ✖ योजनाबद्ध अध्ययन
3. ✔ कृत्रिम अध्ययन
4. ✖ प्रयोग

Question Number : 142 Question Id : 16794318108 Question Type : MCQ Option Shuffling : Yes Display Question Number : Yes
Single Line Question Option : No Option Orientation : Vertical

Correct Marks : 1 Wrong Marks : 0.25

Which of the following is not the characteristic of educational technology?

Options :

1. ✖ It is based on application of scientific knowledge
2. ✖ It helps making teaching process objective
3. ✔ It makes the teaching process monotonous
4. ✖ It encourages learning by controlling the environment

Question Number : 142 Question Id : 16794318108 Question Type : MCQ Option Shuffling : Yes Display Question Number : Yes
Single Line Question Option : No Option Orientation : Vertical

Correct Marks : 1 Wrong Marks : 0.25

निम्नलिखित में से कौन सा शैक्षणिक तकनीक की विशेषता नहीं है?

Options :

1. ✖ यह वैज्ञानिक ज्ञान के उपयोग पर आधारित है
2. ✖ यह शिक्षण प्रक्रिया उद्देश्य बनाने में मदद करता है
3. ✔ यह शिक्षण प्रक्रिया को समस्वर बनाता है
4. ✖ यह पर्यावरण को नियंत्रित करके अध्ययन को प्रोत्साहित करता है

Question Number : 143 Question Id : 16794318109 Question Type : MCQ Option Shuffling : Yes Display Question Number : Yes
Single Line Question Option : No Option Orientation : Vertical

Correct Marks : 1 Wrong Marks : 0.25

Use of educational technology is advantageous over many other methods because:

Options :

1. ✖ It allows proper guidance
2. ✖ It allows time for thinking
3. ✖ It provides scope for understanding
4. ✔ It provides wider range of sensory involvement

Question Number : 143 Question Id : 16794318109 Question Type : MCQ Option Shuffling : Yes Display Question Number : Yes
Single Line Question Option : No Option Orientation : Vertical

Correct Marks : 1 Wrong Marks : 0.25

शैक्षिक प्रौद्योगिकी का उपयोग कई अन्य तरीकों से क्यों फायदेमंद है?

Options :

1. ✖ यह उचित मार्गदर्शन की अनुमति देता है
2. ✖ यह सोचने के लिए समय की अनुमति देता है
3. ✖ यह समझने के लिए गुंजाइश प्रदान करता है
4. ✔ यह संवेदी भागीदारी की विस्तृत श्रृंखला प्रदान करता है

Question Number : 144 Question Id : 16794318110 Question Type : MCQ Option Shuffling : Yes Display Question Number : Yes
Single Line Question Option : No Option Orientation : Vertical

Correct Marks : 1 Wrong Marks : 0.25

What does CCTV stand for?

Options :

1. ✖ Common Class Television
2. ✔ Closed Circuit Television
3. ✖ Classroom Centered Television
4. ✖ Centralised Classroom Television

Question Number : 144 Question Id : 16794318110 Question Type : MCQ Option Shuffling : Yes Display Question Number : Yes
Single Line Question Option : No Option Orientation : Vertical

Correct Marks : 1 Wrong Marks : 0.25

सी.सी.टी.वी. का पूर्ण रूप क्या है?

Options :

1. ✖ कॉमन क्लास टेलीविजन
2. ✔ क्लोज सर्किट टेलीविजन
3. ✖ क्लासरूम सेंटर्ड टेलीविजन
4. ✖ सेंट्रलाइज्ड क्लासरूम टेलीविजन

Question Number : 145 Question Id : 16794318111 Question Type : MCQ Option Shuffling : Yes Display Question Number : Yes
Single Line Question Option : No Option Orientation : Vertical

Correct Marks : 1 Wrong Marks : 0.25

Which of these technology-aided learning methods could be a good substitute for a field trip?

Options :

1. ✖ Telephonic interviews
2. ✖ Internet
3. ✖ Web seminar
4. ✔ Interactive learning programme

Question Number : 145 Question Id : 16794318111 Question Type : MCQ Option Shuffling : Yes Display Question Number : Yes
Single Line Question Option : No Option Orientation : Vertical

Correct Marks : 1 Wrong Marks : 0.25

इनमें से कौन सी तकनीक सहायकयुक्त अध्ययन विधि अध्ययन यात्रा के लिए एक अच्छा विकल्प हो सकता है?

Options :

1. ✖ टेलीफ़ोनिक साक्षात्कार
2. ✖ इंटरनेट
3. ✖ वेब सेमिनार
4. ✔ संवादात्मक अध्ययन कार्यक्रम

Question Number : 146 Question Id : 16794318112 Question Type : MCQ Option Shuffling : Yes Display Question Number : Yes
Single Line Question Option : No Option Orientation : Vertical

Correct Marks : 1 Wrong Marks : 0.25

How does technology help a teacher in improving teaching?

Options :

1. ✖ Using TLM in lessons
2. ✔ AV recording and reflecting on teaching
3. ✖ Maintaining student records
4. ✖ Communicating with parents

Question Number : 146 Question Id : 16794318112 Question Type : MCQ Option Shuffling : Yes Display Question Number : Yes
Single Line Question Option : No Option Orientation : Vertical

Correct Marks : 1 Wrong Marks : 0.25

तकनीक किसी शिक्षक की शिक्षण में सुधार करने के लिए मदद कैसे करती है?

Options :

1. ✖ अध्याय में टी.एल.एम. का उपयोग करना
2. ✔ ए.वी. रिकॉर्डिंग और शिक्षण पर केंद्रित करना
3. ✖ छात्रों का रिकॉर्ड बनाए रखना
4. ✖ माता-पिता के साथ संवाद

Question Number : 147 Question Id : 16794318113 Question Type : MCQ Option Shuffling : Yes Display Question Number : Yes
Single Line Question Option : No Option Orientation : Vertical

Correct Marks : 1 Wrong Marks : 0.25

What should learning objective identify?

Options :

1. ✔ A learning outcome
2. ✖ The time for learning
3. ✖ Information shared by the teacher
4. ✖ Method of teaching

Question Number : 147 Question Id : 16794318113 Question Type : MCQ Option Shuffling : Yes Display Question Number : Yes
Single Line Question Option : No Option Orientation : Vertical

Correct Marks : 1 Wrong Marks : 0.25

अध्ययन उद्देश्य पहचान क्या होनी चाहिए?

Options :

1. ☒ सीखने का परिणाम
2. ☐ सीखने का समय
3. ☐ शिक्षक द्वारा साझा की गई सूचना
4. ☐ शिक्षण विधि

Question Number : 148 Question Id : 16794318114 Question Type : MCQ Option Shuffling : Yes Display Question Number : Yes
Single Line Question Option : No Option Orientation : Vertical

Correct Marks : 1 Wrong Marks : 0.25

How does specific objectives help the teacher?

Options :

1. ☐ They are end-view of the possible achievement
2. ☐ They give direction to the entire educational system
3. ☒ They help in the selection of the subject matter and also teaching learning activities
4. ☐ They help to go beyond the school programme

Question Number : 148 Question Id : 16794318114 Question Type : MCQ Option Shuffling : Yes Display Question Number : Yes
Single Line Question Option : No Option Orientation : Vertical

Correct Marks : 1 Wrong Marks : 0.25

विशिष्ट उद्देश्य शिक्षक की मदद कैसे करता है?

Options :

1. ☐ वे संभावित उपलब्धि के अंत-दृष्टिकोण हैं
2. ☐ वे संपूर्ण शैक्षिक तंत्र को दिशा देते हैं
3. ☒ वे विषय वस्तु के चयन और शिक्षण सीखना गतिविधियों में भी मदद करते हैं
4. ☐ वे स्कूल कार्यक्रम से परे जाने में मदद करते हैं

Question Number : 149 Question Id : 16794318115 Question Type : MCQ Option Shuffling : Yes Display Question Number : Yes
Single Line Question Option : No Option Orientation : Vertical

Correct Marks : 1 Wrong Marks : 0.25

What is the correct full form of ELT?

Options :

1. ✖ Expression for Language Teaching
2. ✖ Evaluation of Learning and Teaching
3. ✔ English Language Teaching
4. ✖ English Learning Time

Question Number : 149 Question Id : 16794318115 Question Type : MCQ Option Shuffling : Yes Display Question Number : Yes
Single Line Question Option : No Option Orientation : Vertical

Correct Marks : 1 Wrong Marks : 0.25

ई.एल.टी. का सही पूर्ण रूप क्या है?

Options :

1. ✖ एक्सप्रेसशन फॉर लैंग्वेज टीचिंग
2. ✖ इवैल्यूएशन ऑफ लर्निंग एंड टीचिंग
3. ✔ इंग्लिश लैंग्वेज टीचिंग
4. ✖ इंग्लिश लर्निंग टाइम

Question Number : 150 Question Id : 16794318116 Question Type : MCQ Option Shuffling : Yes Display Question Number : Yes
Single Line Question Option : No Option Orientation : Vertical

Correct Marks : 1 Wrong Marks : 0.25

West's method aims at the development of ____, which is an essential and salient feature of language learning.

Options :

1. ✖ reading skills
2. ✖ writing skills
3. ✖ grammar skills
4. ✔ vocabulary

Question Number : 150 Question Id : 16794318116 Question Type : MCQ Option Shuffling : Yes Display Question Number : Yes
Single Line Question Option : No Option Orientation : Vertical

Correct Marks : 1 Wrong Marks : 0.25

पश्चिम की विधि लक्ष्य _____ के विकास पर है, जो भाषा सीखने की एक आवश्यक और मुख्य विशेषता है।

Options :

1. ✖ पढ़ने के कौशल
2. ✖ लेखन कौशल
3. ✖ व्याकरण कौशल
4. ✔ शब्दावली

Question Number : 151 Question Id : 16794318117 Question Type : MCQ Option Shuffling : Yes Display Question Number : Yes
Single Line Question Option : No Option Orientation : Vertical

Correct Marks : 1 Wrong Marks : 0.25

The students will be acquainted with the language more easily, lively and interestingly when language is taught using the:

Options :

1. ✖ Structural approach
2. ✔ Situational approach
3. ✖ Oral approach
4. ✖ Translational approach

Question Number : 151 Question Id : 16794318117 Question Type : MCQ Option Shuffling : Yes Display Question Number : Yes
Single Line Question Option : No Option Orientation : Vertical

Correct Marks : 1 Wrong Marks : 0.25

जब भाषा किसका उपयोग करके सिखाई जाती है तो छात्र भाषा से अधिक आसानी, जीवंत और दिलचस्प तरीके से परिचित होंगे?

Options :

1. ✖ संरचनात्मक दृष्टिकोण
2. ✔ परिस्थिति दृष्टिकोण
3. ✖ मौखिक दृष्टिकोण
4. ✖ अनुवादक दृष्टिकोण

Question Number : 152 Question Id : 16794318118 Question Type : MCQ Option Shuffling : Yes Display Question Number : Yes
Single Line Question Option : No Option Orientation : Vertical

Correct Marks : 1 Wrong Marks : 0.25

What is the use of a big book in the classroom?

Options :

1. ✖ If the book is big, it is easy for the young learners to carry
2. ✖ It has a number of colourful pictures to attract the learners
3. ✔ It helps the children to engage and actively discuss what they think the story is going to be
4. ✖ It is based on a number of theoretical principles

Question Number : 152 Question Id : 16794318118 Question Type : MCQ Option Shuffling : Yes Display Question Number : Yes
Single Line Question Option : No Option Orientation : Vertical

Correct Marks : 1 Wrong Marks : 0.25

कक्षा में किसी बड़ी किताब का क्या उपयोग है?

Options :

1. ✖ यदि पुस्तक बड़ी है, तो युवा शिक्षार्थियों को ले जाने में आसान होगी
2. ✖ शिक्षार्थियों को आकर्षित करने के लिए इसमें कई रंगीन चित्र होंगे
3. ✔ यह बच्चों को व्यस्त होने और सक्रिय रूप से चर्चा करने में मदद करता है कि वे किसी बात को लेकर क्या सोचते हैं
4. ✖ यह कई सैद्धांतिक सिद्धांतों पर आधारित है

Question Number : 153 Question Id : 16794318119 Question Type : MCQ Option Shuffling : Yes Display Question Number : Yes
Single Line Question Option : No Option Orientation : Vertical

Correct Marks : 1 Wrong Marks : 0.25

Who is the most influential exponent of cognitivism?

Options :

1. ✖ John Dewey
2. ✖ Abraham Maslow
3. ✔ Jean Piaget
4. ✖ Benjamin Bloom

Question Number : 153 Question Id : 16794318119 Question Type : MCQ Option Shuffling : Yes Display Question Number : Yes
Single Line Question Option : No Option Orientation : Vertical

Correct Marks : 1 Wrong Marks : 0.25

संज्ञानात्मकता का सबसे प्रभावशाली व्यख्याता कौन है?

Options :

1. ✖ जॉन ड्यूई
2. ✖ अब्राहम मेस्लो
3. ✔ जॉन प्याज़े
4. ✖ बेंजामिन ब्लूम

Question Number : 154 Question Id : 16794318120 Question Type : MCQ Option Shuffling : Yes Display Question Number : Yes
Single Line Question Option : No Option Orientation : Vertical

Correct Marks : 1 Wrong Marks : 0.25

What do children need to learn when they acquire a language?

Options :

1. ✔ Phonology, lexicon, grammar and pragmatics
2. ✖ Confidence in speaking of the language
3. ✖ Complex and powerful system to learn the language
4. ✖ Communication skills in the language

Question Number : 154 Question Id : 16794318120 Question Type : MCQ Option Shuffling : Yes Display Question Number : Yes
Single Line Question Option : No Option Orientation : Vertical

Correct Marks : 1 Wrong Marks : 0.25

जब बच्चे कोई भाषा सीखते हैं तो उन्हें क्या सीखने की ज़रूरत होती है?

Options :

1. ✔ स्वर-शास्त्र, शब्दकोश, व्याकरण और अभ्यास
2. ✖ भाषा बोलने में आत्मविश्वास
3. ✖ भाषा सीखने के लिए जटिल और शक्तिशाली प्रणाली
4. ✖ भाषा में संचार कौशल

Question Number : 155 Question Id : 16794318121 Question Type : MCQ Option Shuffling : Yes Display Question Number : Yes
Single Line Question Option : No Option Orientation : Vertical

Correct Marks : 1 Wrong Marks : 0.25

Why is the second language acquisition in childhood unique?

Options :

1. ☒ Children can speak more than one language
2. ☐ Children learn in a native like attainment
3. ☐ Second language acquisition is different from first language acquisition
4. ☐ Second language acquisition is the same as First language acquisition

Question Number : 155 Question Id : 16794318121 Question Type : MCQ Option Shuffling : Yes Display Question Number : Yes
Single Line Question Option : No Option Orientation : Vertical

Correct Marks : 1 Wrong Marks : 0.25

बचपन में दूसरी भाषा अधिग्रहण अद्वितीय क्यों कहलाती है?

Options :

1. ☒ बच्चे एक से अधिक भाषा बोल सकते हैं
2. ☐ बच्चे पैदाइश में अपार्जन की तरह सीखते हैं
3. ☐ दूसरी भाषा अधिग्रहण पहली भाषा अधिग्रहण से अलग है
4. ☐ दूसरी भाषा अधिग्रहण पहली भाषा अधिग्रहण के समान है

Question Number : 156 Question Id : 16794318122 Question Type : MCQ Option Shuffling : Yes Display Question Number : Yes
Single Line Question Option : No Option Orientation : Vertical

Correct Marks : 1 Wrong Marks : 0.25

What is full form of STM?

Options :

1. ☐ Standard Technical Measurement of language
2. ☒ Phonological Short-Term Memory
3. ☐ Phonological Standard Tense Memory
4. ☐ Standard Time Management

Question Number : 156 Question Id : 16794318122 Question Type : MCQ Option Shuffling : Yes Display Question Number : Yes
Single Line Question Option : No Option Orientation : Vertical

Correct Marks : 1 Wrong Marks : 0.25

एस.टी.एम. का पूरा रूप क्या है?

Options :

1. ✖ स्टैंडर्ड टेक्निकल मेज़रमेंट ऑफ लैंग्वेज
2. ✔ फोनोलॉजिकल शार्ट-टर्म मेमोरी
3. ✖ फोनोलॉजिकल स्टैंडर्ड टेंस मेमोरी
4. ✖ स्टैंडर्ड टाइम मैनेजमेंट

Question Number : 157 Question Id : 16794318123 Question Type : MCQ Option Shuffling : Yes Display Question Number : Yes
Single Line Question Option : No Option Orientation : Vertical

Correct Marks : 1 Wrong Marks : 0.25

What is the academic style of language expected in the classroom context?

Options :

1. ✖ Replying to the questions asked in the class
2. ✖ Listening to the overload of information from the teacher
3. ✖ Reviewing the input given by the teacher in the classroom
4. ✔ Interpersonal stance - discussion and negotiation in the class

Question Number : 157 Question Id : 16794318123 Question Type : MCQ Option Shuffling : Yes Display Question Number : Yes
Single Line Question Option : No Option Orientation : Vertical

Correct Marks : 1 Wrong Marks : 0.25

कक्षा संदर्भ में अपेक्षित भाषा की अकादमिक शैली क्या होती है?

Options :

1. ✖ कक्षा में पूछे गए सवालों के जवाब देना
2. ✖ शिक्षक से अत्यधिक जानकारी सुनना
3. ✖ कक्षा में शिक्षक द्वारा दिए गए इनपुट की समीक्षा करना
4. ✔ पारस्परिक रुख - कक्षा में चर्चा और संवाद

Question Number : 158 Question Id : 16794318124 Question Type : MCQ Option Shuffling : Yes Display Question Number : Yes
Single Line Question Option : No Option Orientation : Vertical

Correct Marks : 1 Wrong Marks : 0.25

Who is regarded the father of Demonstrative Geometry?

Options :

1. ✖ P. Samuel
2. ✖ Cunning Ham
3. ✔ Euclid
4. ✖ Bertrand Russel

Question Number : 158 Question Id : 16794318124 Question Type : MCQ Option Shuffling : Yes Display Question Number : Yes
Single Line Question Option : No Option Orientation : Vertical

Correct Marks : 1 Wrong Marks : 0.25

भावप्रदर्शक ज्यामिति का जनक किसे माना जाता है?

Options :

1. ✖ पी. सैमुअल
2. ✖ कनिंग हैम
3. ✔ यूक्लिड
4. ✖ बर्टेंड रसेल

Question Number : 159 Question Id : 16794318125 Question Type : MCQ Option Shuffling : Yes Display Question Number : Yes
Single Line Question Option : No Option Orientation : Vertical

Correct Marks : 1 Wrong Marks : 0.25

“Teaching is done in a practical manner which is systematically worked out.” Which of the following terms corresponds to the above description?

Options :

1. ✖ Social approach
2. ✖ Incidental approach
3. ✔ Meaningful approach
4. ✖ Drill approach

Question Number : 159 Question Id : 16794318125 Question Type : MCQ Option Shuffling : Yes Display Question Number : Yes
Single Line Question Option : No Option Orientation : Vertical

Correct Marks : 1 Wrong Marks : 0.25

"शिक्षण व्यावहारिक तरीके से किया जाता है जो व्यवस्थित ढंग से काम करता है।" निम्नलिखित में से कौन सा शब्द उपर्युक्त वर्णन से मेल खाता है?

Options :

1. ✖ सामाजिक दृष्टिकोण
2. ✖ आकस्मिक दृष्टिकोण
3. ✔ अर्थपूर्ण दृष्टिकोण
4. ✖ अभ्यास (ड्रिल) दृष्टिकोण

Question Number : 160 Question Id : 16794318126 Question Type : MCQ Option Shuffling : Yes Display Question Number : Yes
Single Line Question Option : No Option Orientation : Vertical

Correct Marks : 1 Wrong Marks : 0.25

"Puzzles are also called as brain teasers." Puzzles in mathematics help students in a math class to:

Options :

1. ✖ Overcome fear of maths
2. ✔ Develop power of thinking and reasoning in the students
3. ✖ Learn the pre-number concepts thoroughly
4. ✖ Feel good about maths as a subject

Question Number : 160 Question Id : 16794318126 Question Type : MCQ Option Shuffling : Yes Display Question Number : Yes
Single Line Question Option : No Option Orientation : Vertical

Correct Marks : 1 Wrong Marks : 0.25

"पहेलियों को मस्तिष्क को तंग करने वाला भी कहा जाता है।" गणित में पहेलियाँ गणित वर्ग में छात्रों की कैसे सहायता करती हैं?

Options :

1. ✖ गणित के डर को खत्म करना
2. ✔ छात्रों में सोच और तर्क की शक्ति विकसित करना
3. ✖ पूर्व-संख्या अवधारणाओं को अच्छी तरह से जानना

4. ✖ एक विषय के रूप में गणित के बारे में अच्छा सोचना

Subject Related	
Group Number :	9
Group Id :	167943672
Group Maximum Duration :	0
Group Minimum Duration :	0
Revisit allowed for view? :	No
Revisit allowed for edit? :	No
Break time:	0
Group Marks:	20
Revisit allowed for group Instructions? :	Yes
Maximum Instruction Time:	0
Minimum Instruction Time:	0

Subject Related	
Section Id :	167943737
Section Number :	1
Section type :	Online
Mandatory or Optional:	Mandatory
Number of Questions:	20
Number of Questions to be attempted:	20
Section Marks:	20
Display Number Panel:	Yes
Group All Questions:	No

Sub-Section Number:	1
Sub-Section Id:	1679431151
Question Shuffling Allowed :	Yes

Question Number : 161 Question Id : 16794318127 Question Type : MCQ Option Shuffling : Yes Display Question Number : Yes
Single Line Question Option : No Option Orientation : Vertical
Correct Marks : 1 Wrong Marks : 0.25

स्कूलों में उपाख्यानात्मक रिकॉर्ड बनाए रखा जाता है। छात्रों के लाभ के लिए शिक्षक इस मूल्यांकन उपकरण का उपयोग किस तरह कर सकता है?

Options :

1. ✖ अभिभावक-शिक्षक बैठक में माता-पिता के सामने सचित्र करना
2. ✖ अचीवमेंट प्रोफाइल में उपयुक्त ग्रेड प्रदान करना
3. ✔ छात्र के हित का आकलन करना और मार्गदर्शन देना

4. ✖ छात्र को उनकी कमजोरी के बारे में बताना

Question Number : 161 Question Id : 16794318127 Question Type : MCQ Option Shuffling : Yes Display Question Number : Yes
Single Line Question Option : No Option Orientation : Vertical

Correct Marks : 1 Wrong Marks : 0.25

Anecdotal records are maintained in schools. How can a teacher use this evaluation tool for the benefit of students?

Options :

1. ✖ To illustrate to the parents during the parent-teacher meet
2. ✖ To provide appropriate grades in the achievement profile
3. ✔ To assess a student's interest and provide guidance
4. ✖ To make the student aware of his/her weakness

Question Number : 162 Question Id : 16794318128 Question Type : MCQ Option Shuffling : Yes Display Question Number : Yes
Single Line Question Option : No Option Orientation : Vertical

Correct Marks : 1 Wrong Marks : 0.25

"To remove the weakness of present day mathematics education, the mathematics laboratory can be the best place. "Do you feel the above statement is correct? If you feel it is correct, then state why.

Options :

1. ✖ Mathematics is a very difficult subject to teach on a regular class.
2. ✖ Every school is trying to establish a maths laboratory in the school.
3. ✖ Students are passive learners and they enjoy learning in the mathematics laboratory.
4. ✔

The lab setup can provide scope for greater involvement of both mind and the hand, which facilitates cognition

Question Number : 162 Question Id : 16794318128 Question Type : MCQ Option Shuffling : Yes Display Question Number : Yes
Single Line Question Option : No Option Orientation : Vertical

Correct Marks : 1 Wrong Marks : 0.25

"गणित शिक्षा की उस (वर्तमान) दिन की कमजोरी को दूर करने के लिए, गणित प्रयोगशाला सबसे अच्छी जगह हो सकती है।" क्या आपको लगता है कि उपर्युक्त कथन सही है? अगर आपको लगता है कि यह सही है, तो बताएं क्यों?

Options :

1. ✖ नियमित वर्ग पर पढ़ाने के लिए गणित एक बहुत मुश्किल विषय है
2. ✖ हर स्कूल स्कूल में गणित प्रयोगशाला स्थापित करने की कोशिश कर रहा है

3. ✖ छात्र निष्क्रिय शिक्षार्थी हैं और वे गणित प्रयोगशाला में सीखने का आनंद लेते हैं

4. ✔

लैब सेटअप दिमाग और हाथ दोनों की अधिक भागीदारी के लिए गुंजाइश प्रदान कर सकता है, जो संज्ञान की सुविधा देता है

Question Number : 163 Question Id : 16794318129 Question Type : MCQ Option Shuffling : Yes Display Question Number : Yes
Single Line Question Option : No Option Orientation : Vertical

Correct Marks : 1 Wrong Marks : 0.25

Developing national parks and wildlife sanctuaries in relatively undisturbed areas is an outcome of which of these values?

Options :

1. ✖ Civic values
2. ✖ Social values
3. ✔ Aesthetic values
4. ✖ Cultural values

Question Number : 163 Question Id : 16794318129 Question Type : MCQ Option Shuffling : Yes Display Question Number : Yes
Single Line Question Option : No Option Orientation : Vertical

Correct Marks : 1 Wrong Marks : 0.25

विकासशील राष्ट्रीय उद्यान और अपेक्षाकृत निर्विवाद क्षेत्रों में वन्यजीव अभयारण्य किस महत्व (वैल्यू) का परिणाम है?

Options :

1. ✖ नागरिक महत्व
2. ✖ सामाजिक महत्व
3. ✔ सौंदर्य महत्व
4. ✖ सांस्कृतिक महत्व

Question Number : 164 Question Id : 16794318130 Question Type : MCQ Option Shuffling : Yes Display Question Number : Yes
Single Line Question Option : No Option Orientation : Vertical

Correct Marks : 1 Wrong Marks : 0.25

The various aspects such as language, technology, economic system, education and various aspects of human civilisation, etc. are collectively called as:

Options :

1. ✖ Life-assisting environment

2. ✓ Biophysical environment

3. ✗ Natural environment

4. ✗ Social environment

Question Number : 164 Question Id : 16794318130 Question Type : MCQ Option Shuffling : Yes Display Question Number : Yes
Single Line Question Option : No Option Orientation : Vertical

Correct Marks : 1 Wrong Marks : 0.25

भाषा, प्रौद्योगिकी, आर्थिक प्रणाली, शिक्षा और मानव सभ्यता के विभिन्न पहलुओं को सामूहिक रूप से क्या कहा जाता है?

Options :

1. ✗ जीवन-सहायक वातावरण

2. ✓ जैवभौतिक पर्यावरण

3. ✗ प्राकृतिक वातावरण

4. ✗ सामाजिक वातावरण

Question Number : 165 Question Id : 16794318131 Question Type : MCQ Option Shuffling : Yes Display Question Number : Yes
Single Line Question Option : No Option Orientation : Vertical

Correct Marks : 1 Wrong Marks : 0.25

Refuse, reduce, reuse and recycle is the main theme of:

Options :

1. ✗ Ecological education

2. ✗ Ecological balance

3. ✓ Environmental education

4. ✗ Environmental balance

Question Number : 165 Question Id : 16794318131 Question Type : MCQ Option Shuffling : Yes Display Question Number : Yes
Single Line Question Option : No Option Orientation : Vertical

Correct Marks : 1 Wrong Marks : 0.25

अस्वीकृत, कम करना, पुनः उपयोग करना और पुनर्चक्रण किसके मुख्य विषय हैं?

Options :

1. ✗ पारिस्थितिक शिक्षा

2. ✖ पारिस्थितिकी संतुलन

3. ✔ पर्यावरण शिक्षा

4. ✖ पर्यावरण संतुलन

Question Number : 166 Question Id : 16794318132 Question Type : MCQ Option Shuffling : Yes Display Question Number : Yes
Single Line Question Option : No Option Orientation : Vertical

Correct Marks : 1 Wrong Marks : 0.25

‘Gestures’ in microteaching are categorised under which of the following?

Options :

1. ✖ Skill of stimulus variation

2. ✔ Skill of reinforcement

3. ✖ Skill of motivation

4. ✖ Skill of questioning

Question Number : 166 Question Id : 16794318132 Question Type : MCQ Option Shuffling : Yes Display Question Number : Yes
Single Line Question Option : No Option Orientation : Vertical

Correct Marks : 1 Wrong Marks : 0.25

सूक्ष्म शिक्षण (माइक्रोटीचिंग) में 'हाव-भाव (जेस्चर)' को किसके तहत वर्गीकृत किया गया है?

Options :

1. ✖ प्रोत्साहन भिन्नता का कौशल

2. ✔ मजबूती के कौशल

3. ✖ प्रेरणा का कौशल

4. ✖ पूछताछ का कौशल

Question Number : 167 Question Id : 16794318133 Question Type : MCQ Option Shuffling : Yes Display Question Number : Yes
Single Line Question Option : No Option Orientation : Vertical

Correct Marks : 1 Wrong Marks : 0.25

The concept of core elements in social studies curriculum is given by:

Options :

1. ✔ NPE-1986

2. ✖ NCF 2005

3. ✖ SCF-2011

4. ✖ NCERT

Question Number : 167 Question Id : 16794318133 Question Type : MCQ Option Shuffling : Yes Display Question Number : Yes
Single Line Question Option : No Option Orientation : Vertical

Correct Marks : 1 Wrong Marks : 0.25

सामाजिक अध्ययन पाठ्यक्रम में मूल तत्वों की अवधारणा किसके द्वारा दी गई है?

Options :

1. ✔ एन.पी.ई. - 1986

2. ✖ एन.सी.एफ. - 2005

3. ✖ एस.सी.एफ. - 2011

4. ✖ एन.सी.ई.आर.टी.

Question Number : 168 Question Id : 16794318134 Question Type : MCQ Option Shuffling : Yes Display Question Number : Yes
Single Line Question Option : No Option Orientation : Vertical

Correct Marks : 1 Wrong Marks : 0.25

"A project is a bit of real life that has been imported into the school." This was stated by:

Options :

1. ✖ J.A. Stevenson

2. ✖ Kilpartic

3. ✔ Ballard

4. ✖ John Dewy

Question Number : 168 Question Id : 16794318134 Question Type : MCQ Option Shuffling : Yes Display Question Number : Yes
Single Line Question Option : No Option Orientation : Vertical

Correct Marks : 1 Wrong Marks : 0.25

"एक परियोजना वास्तविक जीवन का एक छोटा सा हिस्सा होती है जिसे स्कूल में आयात किया गया है।" यह कथन किसका है?

Options :

1. ✖ जे.ए. स्टीवेंसन

2. ✖ किलपार्टिक

3. ✔ बेलाई

4. ✖ जॉन डेवी

Question Number : 169 Question Id : 16794318135 Question Type : MCQ Option Shuffling : Yes Display Question Number : Yes
Single Line Question Option : No Option Orientation : Vertical

Correct Marks : 1 Wrong Marks : 0.25

A model or a three-dimensional representation of the surface of the Earth is called as:

Options :

1. ✔ Globe

2. ✖ Map

3. ✖ Atlas

4. ✖ Charts

Question Number : 169 Question Id : 16794318135 Question Type : MCQ Option Shuffling : Yes Display Question Number : Yes
Single Line Question Option : No Option Orientation : Vertical

Correct Marks : 1 Wrong Marks : 0.25

पृथ्वी की सतह के एक मॉडल या त्रि-आयामी निरूपण को क्या कहा जाता है?

Options :

1. ✔ विश्व (ग्लोब)

2. ✖ नक्शा

3. ✖ एटलस

4. ✖ चार्ट

Question Number : 170 Question Id : 16794318136 Question Type : MCQ Option Shuffling : Yes Display Question Number : Yes
Single Line Question Option : No Option Orientation : Vertical

Correct Marks : 1 Wrong Marks : 0.25

Evaluation is the highest stage of the knowledge under which domain?

Options :

1. ✖ Skill domain

2. ✖ Affective domain

3. ✖ Psycho motor domain

4. ✔ Cognitive domain

Question Number : 170 Question Id : 16794318136 Question Type : MCQ Option Shuffling : Yes Display Question Number : Yes
Single Line Question Option : No Option Orientation : Vertical

Correct Marks : 1 Wrong Marks : 0.25

मूल्यांकन ज्ञान के उच्चतम चरण किस डोमेन के अंतर्गत है?

Options :

1. ✖ कौशल डोमेन

2. ✖ प्रभावी डोमेन

3. ✖ साइको मोटर डोमेन

4. ✔ संज्ञानात्मक डोमेन

Question Number : 171 Question Id : 16794318137 Question Type : MCQ Option Shuffling : Yes Display Question Number : Yes
Single Line Question Option : No Option Orientation : Vertical

Correct Marks : 1 Wrong Marks : 0.25

In arts-infused classrooms, students can be more productively active, physically as well as mentally, because:

Options :

1. ✔ The arts offer additional learning modes

2. ✖ The art classes are effective outdoors

3. ✖ The art teachers are usually more active

4. ✖ The art classes utilise colourful resources

Question Number : 171 Question Id : 16794318137 Question Type : MCQ Option Shuffling : Yes Display Question Number : Yes
Single Line Question Option : No Option Orientation : Vertical

Correct Marks : 1 Wrong Marks : 0.25

कला-प्रेरित कक्षाओं में छात्र शारीरिक और मानसिक रूप से क्यों उत्पादक तरीके से सक्रिय हो सकते हैं?

Options :

1. ✔ कला अतिरिक्त शिक्षण मोड प्रदान करते हैं

2. ✖ कला कक्षाएं प्रभावी आउटडोर होती हैं

3. ✖ कला शिक्षक आमतौर पर अधिक सक्रिय होते हैं

4. ✖ कला वर्ग रंगीन संसाधनों का उपयोग करते हैं

Question Number : 172 Question Id : 16794318138 Question Type : MCQ Option Shuffling : Yes Display Question Number : Yes
Single Line Question Option : No Option Orientation : Vertical

Correct Marks : 1 Wrong Marks : 0.25

Drama is a valuable tool for use in a class room. It caters to:

Options :

1. ✖ Students who are very active and expressive

2. ✔ Students who are challenged by reading and writing

3. ✖ Students who can memorise and speak well

4. ✖ Students who like to move and interact with others

Question Number : 172 Question Id : 16794318138 Question Type : MCQ Option Shuffling : Yes Display Question Number : Yes
Single Line Question Option : No Option Orientation : Vertical

Correct Marks : 1 Wrong Marks : 0.25

नाटक कक्षा में उपयोग किया जाने वाला मूल्यवान उपकरण है। यह पूरा कैसे होता है?

Options :

1. ✖ छात्र जो बहुत सक्रिय और अभिव्यक्तिपूर्ण होते हैं

2. ✔ छात्र जिन्हें पठन और लेखन से चुनौती मिलती है

3. ✖ छात्र जो याद कर सकते हैं और अच्छी तरह से बोल सकते हैं

4. ✖ छात्र जो जाना पसंद करते हैं और दूसरों के साथ संवाद करते हैं

Question Number : 173 Question Id : 16794318139 Question Type : MCQ Option Shuffling : Yes Display Question Number : Yes
Single Line Question Option : No Option Orientation : Vertical

Correct Marks : 1 Wrong Marks : 0.25

Cartoons are described as humorous drawings. Why do you think these arts are helpful for children?

Options :

1. ✖ Children love watching cartoons

2. ✖ Cartoons are mostly based on fairy tales

3. ✓ Cartoons draw children's attention and create comfortable learning environment

4. ✗ Cartoons are the most popular entertainment for children

Question Number : 173 Question Id : 16794318139 Question Type : MCQ Option Shuffling : Yes Display Question Number : Yes
Single Line Question Option : No Option Orientation : Vertical

Correct Marks : 1 Wrong Marks : 0.25

कार्टून को विनोदी चित्रों के रूप में वर्णित किया गया है। क्या आपको लगता है कि ये कला बच्चों के लिए सहायक होते हैं?

Options :

1. ✗ बच्चों को कार्टून देखना पसंद है

2. ✗ कार्टून ज्यादातर परी कथाओं पर आधारित होते हैं

3. ✓ कार्टून बच्चों का ध्यान आकर्षित करते हैं और सीखने का आरामदायक माहौल बनाते हैं

4. ✗ कार्टून बच्चों के लिए सबसे लोकप्रिय मनोरंजन है

Question Number : 174 Question Id : 16794318140 Question Type : MCQ Option Shuffling : Yes Display Question Number : Yes
Single Line Question Option : No Option Orientation : Vertical

Correct Marks : 1 Wrong Marks : 0.25

Why gardening with kids in school helps learning?

Options :

1. ✓ It addresses multiple learning styles.

2. ✗ It makes school look beautiful so that children are happy.

3. ✗ Teachers can have some relaxing time with kids.

4. ✗ Students can grow fresh fruits and vegetables in schools.

Question Number : 174 Question Id : 16794318140 Question Type : MCQ Option Shuffling : Yes Display Question Number : Yes
Single Line Question Option : No Option Orientation : Vertical

Correct Marks : 1 Wrong Marks : 0.25

स्कूल में बच्चों के साथ बागवानी सीखने में मदद क्यों करती है?

Options :

1. ✓ इसमें कई सीखने की शैलियां होती हैं

2. ✖ यह स्कूल को सुंदर बनाता है ताकि बच्चे खुश हों
3. ✖ शिक्षकों के पास बच्चों के साथ कुछ आराम का समय हो सकता है
4. ✖ छात्र स्कूलों में ताजा फल और सब्जियां उगा सकते हैं

Question Number : 175 Question Id : 16794318141 Question Type : MCQ Option Shuffling : Yes Display Question Number : Yes
Single Line Question Option : No Option Orientation : Vertical

Correct Marks : 1 Wrong Marks : 0.25

Being a teacher, why do you think physical education is as important as school work?

Options :

1. ✖ In today's world, many school children eat unhealthy food items
2. ✔ A physically active individual is more likely to be happy and healthy, which makes them a better student in the classroom
3. ✖ Students like to play and are always energetic during play
4. ✖ School life is hectic for every individual

Question Number : 175 Question Id : 16794318141 Question Type : MCQ Option Shuffling : Yes Display Question Number : Yes
Single Line Question Option : No Option Orientation : Vertical

Correct Marks : 1 Wrong Marks : 0.25

एक शिक्षक होने के नाते, आपको क्यों लगता है कि शारीरिक शिक्षा स्कूल के काम के रूप में महत्वपूर्ण होती है?

Options :

1. ✖ आज की दुनिया में कई स्कूल के बच्चे अस्वास्थ्यकर खाद्य पदार्थ खाते हैं
2. ✔ शारीरिक रूप से सक्रिय व्यक्ति अधिक खुश और स्वस्थ हो सकता है, जो उन्हें कक्षा में बेहतर छात्र बनाता है
3. ✖ छात्र खेलना पसंद करते हैं और खेल के दौरान हमेशा ऊर्जावान रहते हैं
4. ✖ स्कूल जीवन हर व्यक्ति के लिए व्यस्तता वाला होता है

Question Number : 176 Question Id : 16794318142 Question Type : MCQ Option Shuffling : Yes Display Question Number : Yes
Single Line Question Option : No Option Orientation : Vertical

Correct Marks : 1 Wrong Marks : 0.25

"The increasing amount of time children in the age group of eight or nine are now spending on screens means they have shorter attention spans." What do you suggest for the development of children in schools?

Options :

1. ✖ Replace yoga with physical activities in schools.
2. ✖ Appoint a good physical education and yoga teacher in school.
3. ✔
Introduce yoga and mindfulness classes either as part of the PE curriculum or as an optional lunch time or afterschool activity.
4. ✖ Make parents aware of the importance of yoga for their kids.

Question Number : 176 Question Id : 16794318142 Question Type : MCQ Option Shuffling : Yes Display Question Number : Yes
Single Line Question Option : No Option Orientation : Vertical

Correct Marks : 1 Wrong Marks : 0.25

"आठ या नौ वर्ष आयु वर्ग के बच्चों की बढ़ती संख्या अब स्क्रीन पर समय बिता रही है, इसका मतलब उनके पास कम ध्यान अवधि है।" स्कूलों में बच्चों के विकास के लिए आप क्या सुझाव देते हैं?

Options :

1. ✖ स्कूलों में शारीरिक गतिविधियों की जगह योग करना
2. ✖ स्कूल में एक अच्छी शारीरिक शिक्षा और योग शिक्षक की नियुक्ति करना
3. ✔
पी.ई. पाठ्यक्रम के हिस्से के रूप में या वैकल्पिक लंच समय या स्कूली गतिविधि के बाद योग और सचेतन कक्षाएं लेना
4. ✖ बच्चों के लिए योग के महत्व के बारे में माता-पिता को जागरूक करना

Question Number : 177 Question Id : 16794318143 Question Type : MCQ Option Shuffling : Yes Display Question Number : Yes
Single Line Question Option : No Option Orientation : Vertical

Correct Marks : 1 Wrong Marks : 0.25

What did UNICEF and NCERT include in sex education?

Options :

1. ✖ Cognitive development
2. ✔ Information about sexually transmitted diseases
3. ✖ Taking care of feelings and emotions
4. ✖ Social etiquettes

Question Number : 177 Question Id : 16794318143 Question Type : MCQ Option Shuffling : Yes Display Question Number : Yes
Single Line Question Option : No Option Orientation : Vertical

Correct Marks : 1 Wrong Marks : 0.25

यूनीसेफ और एन.सी.ई.आर.टी. ने यौन शिक्षा को किस लिए शामिल करने को कहा है?

Options :

1. ✖ संज्ञानात्मक विकास
2. ✔ यौन संक्रमित बीमारियों के बारे में जानकारी
3. ✖ भावनाओं और भावनाओं का ख्याल रखना
4. ✖ सामाजिक शिष्टाचार

Question Number : 178 Question Id : 16794318144 Question Type : MCQ Option Shuffling : Yes Display Question Number : Yes
Single Line Question Option : No Option Orientation : Vertical

Correct Marks : 1 Wrong Marks : 0.25

Why is sex education not discussed enough in our country?

Options :

1. ✖ Sex education should not be discussed in teenage years
2. ✖ Individuals above 18 years of age need sex education not the ones below that age
3. ✔ Discussing sex education in our country is a taboo, not acceptable in our society
4. ✖ College is the correct platform for including sex education in our country

Question Number : 178 Question Id : 16794318144 Question Type : MCQ Option Shuffling : Yes Display Question Number : Yes
Single Line Question Option : No Option Orientation : Vertical

Correct Marks : 1 Wrong Marks : 0.25

यौन शिक्षा पर हमारे देश में पर्याप्त चर्चा क्यों नहीं की जाती है?

Options :

1. ✖ किशोरावस्था में सेक्स शिक्षा पर चर्चा नहीं होनी चाहिए
2. ✖ 18 वर्ष से ऊपर के व्यक्तियों को यौन शिक्षा की आवश्यकता होती है जो उस उम्र से नीचे है उन्हें नहीं
3. ✔ हमारे देश में यौन शिक्षा पर चर्चा करना वर्जित है, यह हमारे समाज को स्वीकार्य नहीं है
4. ✖ कॉलेज हमारे देश में यौन शिक्षा शामिल करने के लिए सही मंच है

Question Number : 179 Question Id : 16794318145 Question Type : MCQ Option Shuffling : Yes Display Question Number : Yes
Single Line Question Option : No Option Orientation : Vertical

Correct Marks : 1 Wrong Marks : 0.25

What is the meaning of the Latin verb "Adolescere"?

Options :

1. ✖ Affective development in teenagers
2. ✖ Growing up in the right way
3. ✖ Cognitive development in teenagers
4. ✔ To grow to become mature

Question Number : 179 Question Id : 16794318145 Question Type : MCQ Option Shuffling : Yes Display Question Number : Yes
Single Line Question Option : No Option Orientation : Vertical

Correct Marks : 1 Wrong Marks : 0.25

लैटिन क्रिया "Adolescere" का अर्थ क्या है?

Options :

1. ✖ किशोरों में प्रभावी विकास
2. ✖ सही तरीके से विकास
3. ✖ किशोरों में जन्मजात विकास
4. ✔ परिपक्व होने के लिए विकास

Question Number : 180 Question Id : 16794318146 Question Type : MCQ Option Shuffling : Yes Display Question Number : Yes
Single Line Question Option : No Option Orientation : Vertical

Correct Marks : 1 Wrong Marks : 0.25

What is the meaning of adolescent in sociological interpretation?

Options :

1. ✔
It is a transitional period between childhood and adulthood when a child moves from dependency upon parents or other adults of the family.
2. ✖
It represents a young person in transition between the behaviours that are typical of children and the behaviours that are typical of adults.
3. ✖
It is a period of identity formation. At this stage, the individual begins to place himself/herself in egospace time.
4. ✖
It is a period in which the individual becomes free from adult constraints.

Question Number : 180 Question Id : 16794318146 Question Type : MCQ Option Shuffling : Yes Display Question Number : Yes
Single Line Question Option : No Option Orientation : Vertical

Correct Marks : 1 Wrong Marks : 0.25

सामाजिक व्याख्या में किशोरावस्था का क्या तात्पर्य है?

Options :

1. ✓

यह बचपन और वयस्कता के बीच एक संक्रमणकालीन अवधि है जब कोई बच्चा माता-पिता या परिवार के अन्य वयस्कों पर निर्भरता से आगे बढ़ता है

2. ✗

यह एक युवा व्यक्ति को उन व्यवहारों के बीच संक्रमण में दर्शाता है जो बच्चों की तरह विशिष्ट हैं और व्यवहार में वयस्कों के समान हैं

3. ✗

यह पहचान गठन की अवधि है। इस स्तर पर, व्यक्ति इगो स्पेस समय में खुद को रखना शुरू कर देता है।

4. ✗

यह वह अवधि है जिसमें व्यक्ति वयस्क बाधाओं से मुक्त हो जाता है

Subject Related

Group Number :	10
Group Id :	167943673
Group Maximum Duration :	0
Group Minimum Duration :	120
Revisit allowed for view? :	No
Revisit allowed for edit? :	No
Break time:	0
Group Marks:	20
Revisit allowed for group Instructions? :	Yes
Maximum Instruction Time:	0
Minimum Instruction Time:	0

Subject Related

Section Id :	167943738
Section Number :	1
Section type :	Online
Mandatory or Optional:	Mandatory
Number of Questions:	20
Number of Questions to be attempted:	20
Section Marks:	20
Display Number Panel:	Yes
Group All Questions:	No

Sub-Section Number:	1
Sub-Section Id:	1679431152
Question Shuffling Allowed :	Yes

Question Number : 181 Question Id : 16794318147 Question Type : MCQ Option Shuffling : Yes Display Question Number : Yes
Single Line Question Option : No Option Orientation : Vertical

Correct Marks : 1 Wrong Marks : 0.25

What does physical development mean in case of adolescents?

Options :

1. ✖ Maturation process in which the individual grows tall and strong

2. ✔

Maturation process that leads to various physical changes: growth is accelerated; bodily shape changes; primary and secondary sexual characteristics become marked

3. ✖

Maturation process in which an individual's cognitive development happens and individual becomes socially active

4. ✖ Maturation process where emotional changes happen

Question Number : 181 Question Id : 16794318147 Question Type : MCQ Option Shuffling : Yes Display Question Number : Yes
Single Line Question Option : No Option Orientation : Vertical

Correct Marks : 1 Wrong Marks : 0.25

किशोरावस्था के मामले में शारीरिक विकास का क्या तात्पर्य है?

Options :

1. ✖ परिपक्वता प्रक्रिया जिसमें व्यक्ति बढ़ता और मजबूत हो जाता है

2. ✔

परिपक्वता प्रक्रिया जो विभिन्न शारीरिक परिवर्तनों की ओर ले जाती है: त्वरित विकास; शारीरिक आकार में परिवर्तन; प्राथमिक और द्वितीयक यौन विशेषताएं चिह्नित होती हैं

3. ✖

परिपक्वता प्रक्रिया जिसमें व्यक्ति का संज्ञानात्मक विकास होता है और व्यक्ति सामाजिक रूप से सक्रिय हो जाता है

4. ✖ परिपक्वता प्रक्रिया जहां भावनात्मक परिवर्तन होते हैं

Question Number : 182 Question Id : 16794318148 Question Type : MCQ Option Shuffling : Yes Display Question Number : Yes
Single Line Question Option : No Option Orientation : Vertical

Correct Marks : 1 Wrong Marks : 0.25

How does cognitive development happen in adolescents?

Options :

1. ✖ The cognitive development takes place in getting knowledge about the world

2. ✖ The cognitive development has already taken place

3. ✔

The cognitive development takes place mainly in areas of perception, handling of logical problem & reasoning

4. ✖ No further cognitive development takes place

Question Number : 182 Question Id : 16794318148 Question Type : MCQ Option Shuffling : Yes Display Question Number : Yes
Single Line Question Option : No Option Orientation : Vertical

Correct Marks : 1 Wrong Marks : 0.25

किशोरावस्था में संज्ञानात्मक विकास कैसे घटित होता है?

Options :

1. ✖ संज्ञानात्मक विकास दुनिया के बारे में ज्ञान प्राप्त करते हुए होता है

2. ✖ संज्ञानात्मक विकास पहले से ही हो चुका है

3. ✔

संज्ञानात्मक विकास मुख्य रूप से धारणा के क्षेत्रों, तार्किक समस्या और कारण से निपटने में होता है

4. ✖ कोई और संज्ञानात्मक विकास नहीं होता है

Question Number : 183 Question Id : 16794318149 Question Type : MCQ Option Shuffling : Yes Display Question Number : Yes
Single Line Question Option : No Option Orientation : Vertical

Correct Marks : 1 Wrong Marks : 0.25

"Education is manifestation of perfection already in man." Who said this?

Options :

1. ✔ Swami Vivekananda

2. ✖ Mahatma Gandhi

3. ✖ JP Thomas

4. ✖ Cassidy

Question Number : 183 Question Id : 16794318149 Question Type : MCQ Option Shuffling : Yes Display Question Number : Yes
Single Line Question Option : No Option Orientation : Vertical

Correct Marks : 1 Wrong Marks : 0.25

"शिक्षा पहले से ही मनुष्य में पूर्णता की अभिव्यक्ति है।" यह किसने कहा है?

Options :

1. ✔ स्वामी विवेकानंद

2. ✖ महात्मा गांधी

3. ✖ जे.पी. थॉमस

4. ✖ कासिडी

Question Number : 184 Question Id : 16794318150 Question Type : MCQ Option Shuffling : Yes Display Question Number : Yes
Single Line Question Option : No Option Orientation : Vertical

Correct Marks : 1 Wrong Marks : 0.25

One of the important aims of physical education is to develop:

Options :

1. ✖ Employability skills

2. ✔ Emotional adjustment

3. ✖ Obedience

4. ✖ Spirituality

Question Number : 184 Question Id : 16794318150 Question Type : MCQ Option Shuffling : Yes Display Question Number : Yes
Single Line Question Option : No Option Orientation : Vertical

Correct Marks : 1 Wrong Marks : 0.25

शारीरिक शिक्षा के महत्वपूर्ण उद्देश्यों में से एक क्या विकसित करना है?

Options :

1. ✖ रोज़गार कौशल

2. ✔ भावनात्मक समायोजन

3. ✖ आज्ञाकारिता

4. ✖ आध्यात्मिकता

Question Number : 185 Question Id : 16794318151 Question Type : MCQ Option Shuffling : Yes Display Question Number : Yes
Single Line Question Option : No Option Orientation : Vertical

Correct Marks : 1 Wrong Marks : 0.25

Which of the following is not a component of physical fitness?

Options :

1. ✖ Endurance

2. ✔ Logic

3. ✖ Speed

4. ✖ Flexibility

Question Number : 185 Question Id : 16794318151 Question Type : MCQ Option Shuffling : Yes Display Question Number : Yes
Single Line Question Option : No Option Orientation : Vertical

Correct Marks : 1 Wrong Marks : 0.25

निम्नलिखित में से कौन सा शारीरिक फिटनेस का घटक नहीं है?

Options :

1. ✖ धैर्य

2. ✔ तर्क

3. ✖ गति

4. ✖ लचीलापन

Question Number : 186 Question Id : 16794318152 Question Type : MCQ Option Shuffling : Yes Display Question Number : Yes
Single Line Question Option : No Option Orientation : Vertical

Correct Marks : 1 Wrong Marks : 0.25

The Olympic Motto "Citius Altius Fortius" means:

Options :

1. ✖ Faster, Fitter, Flexible

2. ✖ Fitter, Speeder, Stronger

3. ✖ Fitter, Stronger, Taller

4. ✔ Faster, Higher, Stronger

Question Number : 186 Question Id : 16794318152 Question Type : MCQ Option Shuffling : Yes Display Question Number : Yes
Single Line Question Option : No Option Orientation : Vertical

Correct Marks : 1 Wrong Marks : 0.25

ओलंपिक आदर्श वाक्य "सिटीस अल्टीस फोर्टियस (Citius Altius Fortius)" का क्या मतलब है?

Options :

1. ✖ तेज, तंदुरुस्त, लचीला

2. ✖ तंदुरुस्त, गतिवान, मजबूत

3. ✖ तंदुरुस्त, मजबूत, लंबा

4. ✔ तेज़, ऊंचा, मजबूत

Question Number : 187 Question Id : 16794318153 Question Type : MCQ Option Shuffling : Yes Display Question Number : Yes
Single Line Question Option : No Option Orientation : Vertical

Correct Marks : 1 Wrong Marks : 0.25

Special Olympics are organised for which section of the population?

Options :

1. ✖ Physically challenged

2. ✖ Emotionally disturbed

3. ✔ Mentally retarded and with cognitive delays

4. ✖ Socially excluded

Question Number : 187 Question Id : 16794318153 Question Type : MCQ Option Shuffling : Yes Display Question Number : Yes
Single Line Question Option : No Option Orientation : Vertical

Correct Marks : 1 Wrong Marks : 0.25

जनसंख्या के किस वर्ग के लिए विशेष ओलंपिक आयोजित किए जाते हैं?

Options :

1. ✖ शारीरिक रूप से विकलांग

2. ✖ भावनात्मक रूप से परेशान

3. ✔ मानसिक रूप से मंद और विलंबित संज्ञान

4. ✖ सामाजिक रूप से बहिष्कृत

Question Number : 188 Question Id : 16794318154 Question Type : MCQ Option Shuffling : Yes Display Question Number : Yes
Single Line Question Option : No Option Orientation : Vertical

Correct Marks : 1 Wrong Marks : 0.25

Warming up activities in a physical education class is important because they:

Options :

1. ✖ Are interesting to the students

2. ✔ Help to set the rhythm for the formal activities

3. ✖ Allow relaxation time for teachers

4. ✖ Create opportunities to win

Question Number : 188 Question Id : 16794318154 Question Type : MCQ Option Shuffling : Yes Display Question Number : Yes
Single Line Question Option : No Option Orientation : Vertical

Correct Marks : 1 Wrong Marks : 0.25

एक शारीरिक शिक्षा कक्षा में तैयारी संबंधी गतिविधियां महत्वपूर्ण है क्योंकि वे:

Options :

1. ✖ छात्रों के लिए रुचिकर होती हैं

2. ✔ औपचारिक गतिविधियों के लिए तालमेल तय करने में मदद करती हैं

3. ✖ शिक्षकों के लिए विश्राम समय की अनुमति देती हैं

4. ✖ जीतने के अवसर बनाती हैं

Question Number : 189 Question Id : 16794318155 Question Type : MCQ Option Shuffling : Yes Display Question Number : Yes
Single Line Question Option : No Option Orientation : Vertical

Correct Marks : 1 Wrong Marks : 0.25

Which of the following is an appropriate choice for experiential learning of work education?

Options :

1. ✖ Other schools

2. ✖ Class rooms

3. ✖ Outside of the classroom but within the school premises

4. ✔ Public places such as post offices, banks etc.

Question Number : 189 Question Id : 16794318155 Question Type : MCQ Option Shuffling : Yes Display Question Number : Yes
Single Line Question Option : No Option Orientation : Vertical

Correct Marks : 1 Wrong Marks : 0.25

कार्य शिक्षा की अनुभवजन्य शिक्षा के लिए निम्नलिखित में से कौन सा उचित विकल्प है?

Options :

1. ✖ अन्य स्कूल

2. ✖ कक्षा

3. ✖ कक्षा के बाहर लेकिन स्कूल परिसर के अंदर

4. ✔ डाकघर, बैंक आदि जैसे सार्वजनिक स्थान

Question Number : 190 Question Id : 16794318156 Question Type : MCQ Option Shuffling : Yes Display Question Number : Yes
Single Line Question Option : No Option Orientation : Vertical

Correct Marks : 1 Wrong Marks : 0.25

“Our education has got to be revolutionized. The brain must be educated through the hand.” This was said by which famous person?

Options :

1. ✖ Ishwar bhai Patel

2. ✖ Dr. Khothari

3. ✔ Mahatma Gandhi

4. ✖ Jawaharlal Nehru

Question Number : 190 Question Id : 16794318156 Question Type : MCQ Option Shuffling : Yes Display Question Number : Yes
Single Line Question Option : No Option Orientation : Vertical

Correct Marks : 1 Wrong Marks : 0.25

"हमारी शिक्षा में क्रांतिकारी बदलाव होना चाहिए। मस्तिष्क को हाथ से शिक्षित किया जाना चाहिए।" यह वाक्य किस प्रसिद्ध व्यक्ति ने कहा था?

Options :

1. ✖ इश्वर भाई पटेल

2. ✖ डॉ कोठारी

3. ✔ महात्मा गांधी

4. ✖ जवाहर लाल नेहरू

Question Number : 191 Question Id : 16794318157 Question Type : MCQ Option Shuffling : Yes Display Question Number : Yes
Single Line Question Option : No Option Orientation : Vertical

Correct Marks : 1 Wrong Marks : 0.25

The concept of “work-experience” is first stated by which commission?

Options :

1. ✖ Radha Krishnan Commission: 1948

2. ✖ Mudaliar Commission: 1953-54

3. ✓ Khothri Education Commission: 1964-66

4. ✗ Ishwar bhai Patel Commission

Question Number : 191 Question Id : 16794318157 Question Type : MCQ Option Shuffling : Yes Display Question Number : Yes
Single Line Question Option : No Option Orientation : Vertical

Correct Marks : 1 Wrong Marks : 0.25

"कार्य-अनुभव" की अवधारणा सबसे पहले किस आयोग द्वारा दी गई है?

Options :

1. ✗ राधा कृष्णन आयोग: 1948

2. ✗ मुदलियार आयोग: 1953-54

3. ✓ खोथरी शिक्षा आयोग: 1964-66

4. ✗ इश्वर भाई पटेल आयोग

Question Number : 192 Question Id : 16794318158 Question Type : MCQ Option Shuffling : Yes Display Question Number : Yes
Single Line Question Option : No Option Orientation : Vertical

Correct Marks : 1 Wrong Marks : 0.25

What is the main aim of Shiksha Karmi Project of Rajasthan- "Filling the Vacuum"?

Options :

1. ✗ To tackle the problem of inexperience of teachers

2. ✗ To tackle the problem of lack of teachers

3. ✓ To tackle the problem of teacher absenteeism

4. ✗ To tackle the problem of disinterest among teachers

Question Number : 192 Question Id : 16794318158 Question Type : MCQ Option Shuffling : Yes Display Question Number : Yes
Single Line Question Option : No Option Orientation : Vertical


Correct Marks : 1 Wrong Marks : 0.25


राजस्थान की शिक्षा कर्मी परियोजना "रिक्त को भरना" का मुख्य उद्देश्य क्या है?

Options :

1. ✗ शिक्षकों के अनुभवहीनता की समस्या से निपटना

2. ✗ शिक्षकों की कमी की समस्या से निपटना

3.  शिक्षक अनुपस्थिति की समस्या से निपटना


4.  शिक्षकों के बीच असंतोष की समस्या से निपटना


Question Number : 193 Question Id : 16794318159 Question Type : MCQ Option Shuffling : Yes Display Question Number : Yes
Single Line Question Option : No Option Orientation : Vertical


Correct Marks : 1 Wrong Marks : 0.25


Which is the correct expanded form of VES?

Options :

1.  Village Enhance Committee

2.  Village Education Committee

3.  Village Experience Committee


4.  Village Excursion Committee


Question Number : 193 Question Id : 16794318159 Question Type : MCQ Option Shuffling : Yes Display Question Number : Yes
Single Line Question Option : No Option Orientation : Vertical


Correct Marks : 1 Wrong Marks : 0.25


वी.ई.ए.स का सही विस्तारित रूप क्या है?

Options :

1.  विलेज एनहान्स कमिटी

2.  विलेज एजुकेशन कमिटी

3.  विलेज एक्सपीरियंस कमिटी


4.  विलेज एक्सकर्सन कमिटी


Question Number : 194 Question Id : 16794318160 Question Type : MCQ Option Shuffling : Yes Display Question Number : Yes
Single Line Question Option : No Option Orientation : Vertical

Correct Marks : 1 Wrong Marks : 0.25

The president of VEC is:

Options :

1.  Teacher

2.  Parent

3. ✖ Head master
4. ✔ Gram Sarpanch

Question Number : 194 Question Id : 16794318160 Question Type : MCQ Option Shuffling : Yes Display Question Number : Yes
Single Line Question Option : No Option Orientation : Vertical
Correct Marks : 1 Wrong Marks : 0.25

वी.ई.सी. का अध्यक्ष कौन होता है?

Options :

1. ✖ अध्यापक
2. ✖ माता-पिता
3. ✖ प्रधानाध्यापक
4. ✔ ग्राम सरपंच

Question Number : 195 Question Id : 16794318161 Question Type : MCQ Option Shuffling : Yes Display Question Number : Yes
Single Line Question Option : No Option Orientation : Vertical
Correct Marks : 1 Wrong Marks : 0.25

World Declaration on Education For All' was done in which of the following conferences?

Options :

1. ✔ Jomtien
2. ✖ Jordan
3. ✖ Jamaica
4. ✖ Jaipur

Question Number : 195 Question Id : 16794318161 Question Type : MCQ Option Shuffling : Yes Display Question Number : Yes
Single Line Question Option : No Option Orientation : Vertical
Correct Marks : 1 Wrong Marks : 0.25

सभी के लिए शिक्षा पर विश्व घोषणापत्र निम्नलिखित सम्मेलनों में से किसमें किया गया था?

Options :

1. ✔ जोमेटियन
2. ✖ जॉर्डन
3. ✖ जमैका

4. ✖ जयपुर

Question Number : 196 Question Id : 16794318162 Question Type : MCQ Option Shuffling : Yes Display Question Number : Yes
Single Line Question Option : No Option Orientation : Vertical

Correct Marks : 1 Wrong Marks : 0.25

Schools must take frequent help from which of the following groups for the academic progress of students?

Options :

1. ✖ Students

2. ✖ Society

3. ✔ Parents

4. ✖ Commercial groups

Question Number : 196 Question Id : 16794318162 Question Type : MCQ Option Shuffling : Yes Display Question Number : Yes
Single Line Question Option : No Option Orientation : Vertical

Correct Marks : 1 Wrong Marks : 0.25

छात्रों को शैक्षणिक प्रगति के लिए स्कूल को निम्नलिखित समूहों में से किससे सतत सहायता लेनी चाहिए?

Options :

1. ✖ छात्रों

2. ✖ समाज

3. ✔ माता-पिता

4. ✖ वाणिज्यिक समूह

Question Number : 197 Question Id : 16794318163 Question Type : MCQ Option Shuffling : Yes Display Question Number : Yes
Single Line Question Option : No Option Orientation : Vertical

Correct Marks : 1 Wrong Marks : 0.25

Which of the following is not a member of the SMC?

Options :

1. ✔ Students

2. ✖ Teachers

3. ✖ Literate parents

4. ✖ Literate community members

Question Number : 197 Question Id : 16794318163 Question Type : MCQ Option Shuffling : Yes Display Question Number : Yes
Single Line Question Option : No Option Orientation : Vertical

Correct Marks : 1 Wrong Marks : 0.25

निम्नलिखित में से कौन सा एस.एम.सी. का सदस्य नहीं होता है?

Options :

1. ☒ छात्र
2. ☐ शिक्षक
3. ☐ साक्षर माता-पिता
4. ☐ साक्षर समुदायिक सदस्य

Question Number : 198 Question Id : 16794318164 Question Type : MCQ Option Shuffling : Yes Display Question Number : Yes
Single Line Question Option : No Option Orientation : Vertical

Correct Marks : 1 Wrong Marks : 0.25

What is the role of leading teachers?

Options :

1. ☐ Improvement of school
2. ☐ Improvement of management and supervision
3. ☒ Improvement of skills, knowledge and performance
4. ☐ Improvement of technology

Question Number : 198 Question Id : 16794318164 Question Type : MCQ Option Shuffling : Yes Display Question Number : Yes
Single Line Question Option : No Option Orientation : Vertical

Correct Marks : 1 Wrong Marks : 0.25

प्रमुख शिक्षकों की भूमिका क्या होती है?

Options :

1. ☐ स्कूल में सुधार
2. ☐ प्रबंधन और पर्यवेक्षण में सुधार
3. ☒ कौशल, ज्ञान और प्रदर्शन में सुधार

4. ✖ प्रौद्योगिकी में सुधार

Question Number : 199 Question Id : 16794318165 Question Type : MCQ Option Shuffling : Yes Display Question Number : Yes
Single Line Question Option : No Option Orientation : Vertical

Correct Marks : 1 Wrong Marks : 0.25

Horizontal upgrading and vertical upgrading are related with which of the following groups?

Options :

1. ✖ Pre-service teachers
2. ✖ In-service principals
3. ✖ Trained principals
4. ✔ In-service teachers

Question Number : 199 Question Id : 16794318165 Question Type : MCQ Option Shuffling : Yes Display Question Number : Yes
Single Line Question Option : No Option Orientation : Vertical

Correct Marks : 1 Wrong Marks : 0.25

क्षैतिज उन्नयन और ऊर्ध्वाधर उन्नयन निम्नलिखित समूहों में से किससे संबंधित हैं?

Options :

1. ✖ सेवापूर्व शिक्षक
2. ✖ सेवारत प्रिंसिपल
3. ✖ प्रशिक्षित प्रिंसिपल
4. ✔ सेवारत शिक्षक

Question Number : 200 Question Id : 16794318166 Question Type : MCQ Option Shuffling : Yes Display Question Number : Yes
Single Line Question Option : No Option Orientation : Vertical

Correct Marks : 1 Wrong Marks : 0.25

NCERT is meant for:

Options :

1. ✔ Research in education
2. ✖ Research in economic field
3. ✖ Research in Ecology

4. ✖ Researches in environmental issues

Question Number : 200 Question Id : 16794318166 Question Type : MCQ Option Shuffling : Yes Display Question Number : Yes
Single Line Question Option : No Option Orientation : Vertical

Correct Marks : 1 Wrong Marks : 0.25

एन.सी.ई.आर.टी. का अर्थ क्या है?

Options :

1. ✔ शिक्षा में अनुसंधान

2. ✖ आर्थिक क्षेत्र में अनुसंधान

3. ✖ पारिस्थितिकी में अनुसंधान

4. ✖ पर्यावरण के मुद्दों पर अनुसंधान